

National Testing Agency

Question Paper Name :	01 Economics 30th Sep 2020 Shift 2
Subject Name :	01 Economics
Creation Date :	2020-09-30 21:16:16
Duration :	180
Total Marks :	300
Display Marks:	Yes

01 Economics

Group Number :	1
Group Id :	21052963
Group Maximum Duration :	0
Group Minimum Duration :	180
Show Attended Group? :	No
Edit Attended Group? :	No
Break time :	0
Group Marks :	300
Is this Group for Examiner? :	No
Examiner permission :	Cant View
Show Progress Bar? :	No

PART I General Aptitude

Section Id :	210529109
Section Number :	1
Section type :	Online
Mandatory or Optional :	Mandatory
Number of Questions :	42
Number of Questions to be attempted :	42
Section Marks :	100
Enable Mark as Answered Mark for Review and Clear Response :	Yes
Maximum Instruction Time :	0
Sub-Section Number :	1
Sub-Section Id :	210529342
Question Shuffling Allowed :	Yes

Question Id : 2105298914 Question Type : COMPREHENSION Sub Question Shuffling Allowed : Yes Group Comprehension Questions : No Question Pattern Type : NonMatrix Calculator : None Response Time : N.A Think Time : N.A Minimum Instruction Time : 0

Question Numbers : (1 to 5)

Question Label : Comprehension

Study the data in the given table and answer the questions that follow

The table below provides data on the percentage (%) distribution of job vacancies in IT companies situated in various Indian cities in the year 2009 and 2019. In the year 2009, the total number of vacancies was 5.4 lakhs and in the year 2019, it was 8.6 lakhs.

City	Percentage (%) of Job Vacancies	
	2009	2019
Bangalore	15	22
Hyderabad	10	8
Pune	12	6
Mumbai	10	18
Chennai	8	10
NCR	21	20
Other cities	24	16

Sub questions

Question Number : 1 Question Id : 2105298915 Question Type : MCQ Option Shuffling : No Is Question Mandatory : No Calculator : None Response Time : N.A Think Time : N.A Minimum Instruction Time : 0

Correct Marks : 2 Wrong Marks : 0

What is the difference between the number of vacancies available in the city of Bangalore in the year 2019 and 2009?

1. 108200
2. 113120
3. 118400
4. 96400

Options :

21052935001. 1
21052935002. 2
21052935003. 3
21052935004. 4

Question Number : 2 Question Id : 2105298916 Question Type : MCQ Option Shuffling : No Is Question Mandatory : No Calculator : None Response Time : N.A Think Time : N.A Minimum Instruction Time : 0

Correct Marks : 2 Wrong Marks : 0

What is the average number of vacancies available in the city of Hyderabad in the year 2009 and 2019?

1. 41080
2. 42740
3. 58610
4. 61400

Options :

21052935005. 1
21052935006. 2
21052935007. 3
21052935008. 4

Question Number : 3 Question Id : 2105298917 Question Type : MCQ Option Shuffling : No Is Question Mandatory : No Calculator : None Response Time : N.A Think Time : N.A Minimum Instruction Time : 0

Correct Marks : 2 Wrong Marks : 0

What is the total number of vacancies available in the city of Chennai in 2009 and in that of Mumbai in the year 2019?

1. 2.16 lakhs
2. 2.04 lakhs
3. 1.98 lakhs
4. 1.92 lakhs

Options :

21052935009. 1
21052935010. 2
21052935011. 3
21052935012. 4

Question Number : 4 Question Id : 2105298918 Question Type : MCQ Option Shuffling : No Is Question Mandatory : No Calculator : None Response Time : N.A Think Time : N.A Minimum Instruction Time : 0

Correct Marks : 2 Wrong Marks : 0

If the number of vacancies in the city of Pune is 48000 in the year 2019 and the percentage distribution is the same as given in the table, then what is the number of vacancies available in NCR in 2019?

1. 1.2 lakhs
2. 1.32 lakhs
3. 1.48 lakhs
4. 1.6 lakhs

Options :

21052935013. 1
21052935014. 2
21052935015. 3
21052935016. 4

Question Number : 5 Question Id : 2105298919 Question Type : MCQ Option Shuffling : No Is Question Mandatory : No Calculator : None Response Time : N.A Think Time : N.A Minimum Instruction Time : 0

Correct Marks : 2 Wrong Marks : 0

What is the approximate percentage rise seen in vacancies available in the city of Hyderabad from 2009 to 2019?

1. 21.8 %
2. 23.23 %
3. 26.23 %
4. 27.41 %

Options :

21052935017. 1

21052935018. 2

21052935019. 3

21052935020. 4

Question Id : 2105298914 Question Type : COMPREHENSION Sub Question Shuffling Allowed : Yes Group Comprehension Questions : No Question Pattern Type : NonMatrix Calculator : None Response Time : N.A Think Time : N.A Minimum Instruction Time : 0

Question Numbers : (1 to 5)

Question Label : Comprehension

वर्ष 2009 और 2019 में विभिन्न भारतीय शहरों में अवस्थित आई टी कंपनियों में रोजगार रिक्ति के वितरण प्रतिशत के आंकड़ें नीचे सारणी में प्रदत्त किये गये हैं। वर्ष 2009 में, रिक्ति की कुल संख्या 5.4 लाख थी और वर्ष 2019 में यह 8.6 लाख थी। सारणी में दिये गये आँकड़ों के आधार पर प्रश्नों के उत्तर दीजिए :

शहर - वार रोजगार रिक्ति

शहर	रोजगार रिक्ति का प्रतिशत	
	2009	2019
बंगलौर	15	22
हैदराबाद	10	8
पुणे	12	6
मुंबई	10	18
चेन्नई	8	10
एन सी आर	21	20
अन्य शहर	24	16

Sub questions

Question Number : 1 Question Id : 2105298915 Question Type : MCQ Option Shuffling : No Is Question Mandatory : No Calculator : None Response Time : N.A Think Time : N.A Minimum Instruction Time : 0

Correct Marks : 2 Wrong Marks : 0

बंगलौर शहर में वर्ष 2019 और 2009 में उपलब्ध रिक्तियों की संख्या के मध्य अंतर कितना है ?

1. 108200
2. 113120
3. 118400
4. 96400

Options :

21052935001. 1
21052935002. 2
21052935003. 3
21052935004. 4

Question Number : 2 Question Id : 2105298916 Question Type : MCQ Option Shuffling : No Is Question Mandatory : No Calculator : None Response Time : N.A Think Time : N.A Minimum Instruction Time : 0

Correct Marks : 2 Wrong Marks : 0

वर्ष 2009 और 2019 में हैदराबाद शहर में उपलब्ध रिक्तियों की औसत संख्या कितनी है ?

1. 41080
2. 42740
3. 58610
4. 61400

Options :

21052935005. 1
21052935006. 2
21052935007. 3
21052935008. 4

Question Number : 3 Question Id : 2105298917 Question Type : MCQ Option Shuffling : No Is Question Mandatory : No Calculator : None Response Time : N.A Think Time : N.A Minimum Instruction Time : 0

Correct Marks : 2 Wrong Marks : 0

वर्ष 2009 में चेन्नई शहर में और मुंबई में वर्ष 2019 में उपलब्ध रिक्तियों की कुल संख्या कितनी है ?

1. 2.16 लाख
2. 2.04 लाख
3. 1.98 लाख
4. 1.92 लाख

Options :

21052935009. 1
21052935010. 2
21052935011. 3
21052935012. 4

Question Number : 4 Question Id : 2105298918 Question Type : MCQ Option Shuffling : No Is Question Mandatory : No Calculator : None Response Time : N.A Think Time : N.A Minimum Instruction Time : 0

Correct Marks : 2 Wrong Marks : 0

यदि वर्ष 2019 में पुणे में रिक्तियों की संख्या 48000 है और प्रतिशत वितरण जैसा सारणी में दिया गया है के अनुसार है, तो वर्ष 2019 में एन सी आर में उपलब्ध रिक्तियों की संख्या कितनी है ?

1. 1.2 लाख
2. 1.32 लाख
3. 1.48 लाख
4. 1.6 लाख

Options :

21052935013. 1
21052935014. 2
21052935015. 3
21052935016. 4

Question Number : 5 Question Id : 2105298919 Question Type : MCQ Option Shuffling : No Is Question Mandatory : No Calculator : None Response Time : N.A Think Time : N.A Minimum

Instruction Time : 0

Correct Marks : 2 Wrong Marks : 0

वर्ष 2009 से 2019 में हैदराबाद शहर में उपलब्ध रिक्तियों में लगभग कितने प्रतिशत की वृद्धि दिखाई देती है ?

1. 21.8 %
2. 23.23 %
3. 26.23 %
4. 27.41 %

Options :

21052935017. 1
21052935018. 2
21052935019. 3
21052935020. 4

Sub-Section Number :

2

Sub-Section Id :

210529343

Question Shuffling Allowed :

Yes

Question Number : 6 Question Id : 2105298920 Question Type : MCQ Option Shuffling : No Is Question Mandatory : No Calculator : None Response Time : N.A Think Time : N.A Minimum Instruction Time : 0

Correct Marks : 2 Wrong Marks : 0

In which level of teaching, the activities of structuring, guiding and closely supervising the students' behavior predominate?

1. Autonomous development level
2. Reflective level
3. Understanding level
4. Memory level

Options :

21052935021. 1
21052935022. 2
21052935023. 3
21052935024. 4

Question Number : 6 Question Id : 2105298920 Question Type : MCQ Option Shuffling : No Is Question Mandatory : No Calculator : None Response Time : N.A Think Time : N.A Minimum Instruction Time : 0

Correct Marks : 2 Wrong Marks : 0

शिक्षण के किस स्तर में संरचना, निर्देशन और विद्यार्थियों के व्यवहार का निकट से पर्यवेक्षण करने की गतिविधियों की प्रबलता होती है ?

1. स्वायत्त विकास स्तर
2. विमर्शी - स्तर
3. अवबोध - स्तर
4. स्मृति स्तर

Options :

21052935021. 1

21052935022. 2

21052935023. 3

21052935024. 4

Question Number : 7 Question Id : 2105298921 Question Type : MCQ Option Shuffling : No Is Question Mandatory : No Calculator : None Response Time : N.A Think Time : N.A Minimum Instruction Time : 0

Correct Marks : 2 Wrong Marks : 0

Which of the following constitutes the 'ability' (can do) component for describing the competence of a teacher?

- A. Confidence in performing teaching task
- B. Knowledge of the subject being taught
- C. Skill in analysing the learning tasks
- D. Experience in handling learning task related situations
- E. Commitment to organizing teaching-learning tasks

Choose the **correct** answer from the options given below:

- 1. B, C and D only
- 2. A, B and C only
- 3. A, C and D only
- 4. C, D and E only

Options :

21052935025. 1

21052935026. 2

21052935027. 3

21052935028. 4

Question Number : 7 Question Id : 2105298921 Question Type : MCQ Option Shuffling : No Is Question Mandatory : No Calculator : None Response Time : N.A Think Time : N.A Minimum Instruction Time : 0

Correct Marks : 2 Wrong Marks : 0

किसी शिक्षक की सक्षमता को वर्णित करने हेतु निम्नलिखित में से कौन-से उसके क्षमता (कर सकता/ सकती हूँ) घटक का निर्माण करते हैं ?

- A. शिक्षण कार्य करने में आत्मविश्वास
- B. पढ़ाए जानेवाले विषय का ज्ञान
- C. अधिगम कार्य के विश्लेषण की दक्षता
- D. अधिगम कार्य से जुड़ी परिस्थितियों को संभालने का अनुभव
- E. शिक्षण-अधिगम कार्य आयोजित करने की प्रतिबद्धता

नीचे दिए गए विकल्पों में से सही उत्तर चुनिए :

- 1. केवल B, C और D
- 2. केवल A, B और C
- 3. केवल A, C और D
- 4. केवल C, D और E

Options :

- 21052935025. 1
- 21052935026. 2
- 21052935027. 3
- 21052935028. 4

Question Number : 8 Question Id : 2105298922 Question Type : MCQ Option Shuffling : No Is Question Mandatory : No Calculator : None Response Time : N.A Think Time : N.A Minimum Instruction Time : 0

Correct Marks : 2 Wrong Marks : 0

When reflective level teaching and learning are successful, students emerge with

- A. A strong logical basis to retain the information
- B. An enlarged store of tested insights of a generalized character
- C. A firm relational structure in the items of information
- D. An enhanced ability to develop and solve problems on their own
- E. Seeing relationship and tool use of a fact

Choose the **correct** answer from the options given below:

- 1. A and B only
- 2. B and D only
- 3. C and D only
- 4. D and E only

Options :

- 21052935029. 1
- 21052935030. 2

21052935031. 3

21052935032. 4

Question Number : 8 Question Id : 2105298922 Question Type : MCQ Option Shuffling : No Is Question Mandatory : No Calculator : None Response Time : N.A Think Time : N.A Minimum Instruction Time : 0

Correct Marks : 2 Wrong Marks : 0

जब विमर्शी स्तर शिक्षण और अधिगम सफल होते हैं तो विद्यार्थियों में निम्नलिखित गुण उभर कर सामने आते हैं :

- A. सूचना के धारण हेतु दृढ़ तार्किक आधार
- B. सामान्य प्रकृति की पारखी हुई व्यापक अंतर्दृष्टि
- C. सूचनाओं में एक दृढ़ संबंधगत ढाँचा
- D. समस्याओं के विकसित करने एवं उन्हें स्वयं समाधान करने की अभिवृद्ध क्षमता
- E. किसी तथ्य का संबंध जानना और उसे साधन के रूप में प्रयोग करना

नीचे दिए गए विकल्पों में से सही उत्तर चुनिये :

- 1. केवल A और B
- 2. केवल B और D
- 3. केवल C और D
- 4. केवल D और E

Options :

21052935029. 1

21052935030. 2

21052935031. 3

21052935032. 4

Question Number : 9 Question Id : 2105298923 Question Type : MCQ Option Shuffling : No Is Question Mandatory : No Calculator : None Response Time : N.A Think Time : N.A Minimum Instruction Time : 0

Correct Marks : 2 Wrong Marks : 0

A model of teaching is a description of

- 1. Teacher behaviour including teacher and student talk
- 2. Learning environment including teaching behaviour
- 3. Learner-behaviour including personality characteristics
- 4. Subject matter including its logical structure

Options :

21052935033. 1

21052935034. 2

21052935035. 3

21052935036. 4

Question Number : 9 Question Id : 2105298923 Question Type : MCQ Option Shuffling : No Is Question Mandatory : No Calculator : None Response Time : N.A Think Time : N.A Minimum

Instruction Time : 0

Correct Marks : 2 Wrong Marks : 0

शिक्षण का प्रतिमान निम्नलिखित में से किसका विवरण वर्णन होता है ?

1. शिक्षक व्यवहार जिसमें शिक्षक छात्र वार्ता शामिल है।
2. अधिगम - परिवेश जिसमें शिक्षक - व्यवहार भी शामिल है।
3. अधिगमकर्ता व्यवहार जिसमें व्यक्तित्व के गुण शामिल हैं।
4. विषय-वस्तु जिसमें विषय की तार्किक संरचना शामिल है।

Options :

21052935033. 1

21052935034. 2

21052935035. 3

21052935036. 4

Question Number : 10 Question Id : 2105298924 Question Type : MCQ Option Shuffling : No Is Question Mandatory : No Calculator : None Response Time : N.A Think Time : N.A Minimum Instruction Time : 0

Correct Marks : 2 Wrong Marks : 0

Given below are two statements

Statement I: Maximum performance tests are designed to assess the upper limits of the examinee's knowledge and abilities

Statement II: Typical response tests are designed to measure the behaviour and characteristics of examinees

In light of the above statements, choose the **most appropriate** answer from the options given below

1. Both Statement I and Statement II are correct
2. Both Statement I and Statement II are incorrect
3. Statement I is correct but Statement II is incorrect
4. Statement I is incorrect but Statement II is correct

Options :

21052935037. 1

21052935038. 2

21052935039. 3

21052935040. 4

Question Number : 10 Question Id : 2105298924 Question Type : MCQ Option Shuffling : No Is Question Mandatory : No Calculator : None Response Time : N.A Think Time : N.A Minimum Instruction Time : 0

Correct Marks : 2 Wrong Marks : 0

नीचे दो कथन दिए गए हैं :

कथन-I : अधिकतम निष्पादन परीक्षण परीक्षार्थियों के ज्ञान और क्षमता की ऊपरी सीमा का आकलन करने के प्रयोजन से तैयार किए जाते हैं।

कथन-II : विशिष्ट अनुक्रिया आधारित परीक्षण परीक्षार्थियों के व्यवहार और गुणों की माप करने हेतु तैयार किए जाते हैं।

उपर्युक्त कथनों के आलोक में निम्नांकित विकल्पों में से सही उत्तर चुनें :

1. कथन I और II दोनों सही हैं।
2. कथन I और II दोनों सही नहीं हैं।
3. कथन-I सही है, किन्तु कथन-II सही नहीं है।
4. कथन-I सही नहीं है, किन्तु कथन-II सही है।

Options :

21052935037. 1
21052935038. 2
21052935039. 3
21052935040. 4

Question Number : 11 Question Id : 2105298925 Question Type : MCQ Option Shuffling : No Is Question Mandatory : No Calculator : None Response Time : N.A Think Time : N.A Minimum Instruction Time : 0

Correct Marks : 2 Wrong Marks : 0

"A university teacher plans to study the performance of students in implementing specific projects in terms of their creativity level".

Which method of research will be appropriate to use in this context?

1. Historical method
2. Descriptive survey method
3. Experimental method
4. *Ex post facto* method

Options :

21052935041. 1
21052935042. 2
21052935043. 3
21052935044. 4

Question Number : 11 Question Id : 2105298925 Question Type : MCQ Option Shuffling : No Is Question Mandatory : No Calculator : None Response Time : N.A Think Time : N.A Minimum Instruction Time : 0

Correct Marks : 2 Wrong Marks : 0

"कोई विश्वविद्यालय शिक्षक विद्यार्थियों के सृजनात्मक स्तर के संदर्भ में, विशिष्ट प्रोजेक्ट्स कार्यान्वित करने में उनके निष्पादन का अध्ययन करने की योजना बनाता है। " इस संदर्भ में निम्नलिखित में से कौन-सी शोध विधि उपयुक्त होगी?

1. ऐतिहासिक विधि
2. वर्णनात्मक सर्वेक्षण विधि
3. प्रयोगात्मक विधि
4. कार्योत्तर विधि

Options :

21052935041. 1
21052935042. 2
21052935043. 3
21052935044. 4

Question Number : 12 Question Id : 2105298926 Question Type : MCQ Option Shuffling : No Is Question Mandatory : No Calculator : None Response Time : N.A Think Time : N.A Minimum Instruction Time : 0

Correct Marks : 2 Wrong Marks : 0

Which of the following features of research are associated with qualitative-inquiring?

- A. Actual settings as the direct source of data
- B. Data collection under controlled conditions
- C. Concern with process rather than simply with outcomes
- D. Establishing relationships and explaining the causes of changes
- E. Concerned with what are called participant perspectives

Choose the **correct** answer from the options given below:

1. A, C and D only
2. A, C and E only
3. B, C and D only
4. C, D and E only

Options :

21052935045. 1
21052935046. 2
21052935047. 3
21052935048. 4

Question Number : 12 Question Id : 2105298926 Question Type : MCQ Option Shuffling : No Is Question Mandatory : No Calculator : None Response Time : N.A Think Time : N.A Minimum Instruction Time : 0

Correct Marks : 2 Wrong Marks : 0

शोध की निम्नलिखित में से कौन-सी विशेषता गुणात्मक अनुसंधान से संबंधित है :

- A. प्रदत्तों के प्रत्यक्ष स्रोत के रूप में नैसर्गिक परिस्थितियाँ
- B. नियंत्रित परिस्थितियों में प्रदत्त संकलन
- C. मात्र परिणाम के बजाय प्रक्रिया को भी ध्यान में रखना
- D. संबंधों को स्थापित करना और परिवर्तनों के कारणों की व्याख्या करना
- E. सहभागी परिप्रेक्ष्य को ध्यान में रखना

नीचे दिए गए विकल्पों में से सही उत्तर चुनिये :

- 1. केवल A, C और D
- 2. केवल A, C और E
- 3. केवल B, C और D
- 4. केवल C, D और E

Options :

- 21052935045. 1
- 21052935046. 2
- 21052935047. 3
- 21052935048. 4

Question Number : 13 Question Id : 2105298927 Question Type : MCQ Option Shuffling : No Is Question Mandatory : No Calculator : None Response Time : N.A Think Time : N.A Minimum Instruction Time : 0

Correct Marks : 2 Wrong Marks : 0

Identify the characteristics of a good research hypothesis from the following

- A. Amenable to empirical verification
- B. Conceptual clarity in defining the variables
- C. Plausibility of relationships postulated
- D. Accessibility in terms of researcher's resources
- E. Extent of its non-refutability

Choose the **correct** answer from the options given below:

- 1. B, C and D only
- 2. A, B and D only
- 3. C, D and E only
- 4. A, B and C only

Options :

- 21052935049. 1
- 21052935050. 2
- 21052935051. 3

21052935052. 4

Question Number : 13 Question Id : 2105298927 Question Type : MCQ Option Shuffling : No Is Question Mandatory : No Calculator : None Response Time : N.A Think Time : N.A Minimum Instruction Time : 0

Correct Marks : 2 Wrong Marks : 0

निम्नलिखित में से उत्तम शोध प्राक्कल्पना के गुणों की पहचान कीजिए :

- A. इन्द्रियानुभविक परीक्षण योग्य
- B. चरों को परिभाषित करने में अवधारणात्मक स्पष्टता
- C. प्रतिपादित संबंधों की सत्याभासिता
- D. शोधकर्ता के स्रोतों के संदर्भ में पहुंच होना
- E. इसकी अकाट्यता की सीमा

नीचे दिए गए विकल्पों में से सही उत्तर चुनिये :

- 1. केवल B, C और D
- 2. केवल A, B और D
- 3. केवल C, D और E
- 4. केवल A, B और C

Options :

- 21052935049. 1
- 21052935050. 2
- 21052935051. 3
- 21052935052. 4

Question Number : 14 Question Id : 2105298928 Question Type : MCQ Option Shuffling : No Is Question Mandatory : No Calculator : None Response Time : N.A Think Time : N.A Minimum Instruction Time : 0

Correct Marks : 2 Wrong Marks : 0

A research scholar while writing his/her thesis uses ICT at various stages of research conducted. He/she justifies the conceptual errors in interpreting results attributing the same to the specific ICT devices. This will be labelled as

- 1. Technical incompetence
- 2. Research design's inadequacy
- 3. Moral and ethical lapse
- 4. Human error

Options :

- 21052935053. 1
- 21052935054. 2
- 21052935055. 3
- 21052935056. 4

Question Number : 14 Question Id : 2105298928 Question Type : MCQ Option Shuffling : No Is Question Mandatory : No Calculator : None Response Time : N.A Think Time : N.A Minimum Instruction Time : 0

Correct Marks : 2 Wrong Marks : 0

कोई शोधार्थी अपना शोध प्रबंध लिखते समय शोध के विभिन्न चरणों में आई सी टी (ICT) का प्रयोग करता / करती है। वह परिणामों का निर्वचन करने में अवधारणात्मक त्रुटियों को सही ठहराता / ठहराती है और इसके लिए विशिष्ट आई सी टी युक्तियों को जिम्मेदार मानता / मानती है। इसको कहा जाएगा :

1. तकनीकी अक्षमता
2. शोध डिजाइन की अपर्याप्तता
3. नैतिक और नीति-विषयक कमी
4. मानवीय त्रुटि

Options :

21052935053. 1

21052935054. 2

21052935055. 3

21052935056. 4

Question Number : 15 Question Id : 2105298929 Question Type : MCQ Option Shuffling : No Is Question Mandatory : No Calculator : None Response Time : N.A Think Time : N.A Minimum Instruction Time : 0

Correct Marks : 2 Wrong Marks : 0

Given below are two statements

Statement I: Action research is cyclic in so far as it involves 'Plan-Act-Observe-Reflect' cycle

Statement II: The purpose of Action research is to develop a theory to explain causal relationship among variables

In light of the above statements, choose the **most appropriate** answer from the options given below

1. Both Statement I and Statement II are correct
2. Both Statement I and Statement II are incorrect
3. Statement I is correct but Statement II is incorrect
4. Statement I is incorrect but Statement II is correct

Options :

21052935057. 1

21052935058. 2

21052935059. 3

21052935060. 4

Question Number : 15 Question Id : 2105298929 Question Type : MCQ Option Shuffling : No Is Question Mandatory : No Calculator : None Response Time : N.A Think Time : N.A Minimum Instruction Time : 0

Correct Marks : 2 Wrong Marks : 0

नीचे दो कथन दिए गए हैं :

कथन-I : क्रियात्मक अनुसंधान चक्रीय होता है क्योंकि इसमें योजना-क्रिया-पर्यवेक्षण-विचारणा का चक्र शामिल होता है।

कथन-II : क्रियात्मक अनुसंधान का प्रयोजन चरों के बीच कारणात्मक संबंध की व्याख्या करने हेतु एक सिद्धांत विकसित करना होता है।

उपर्युक्त कथनों के आलोक में निम्नांकित विकल्पों में से सर्वाधिक उपयुक्त उत्तर चुनें :

1. कथन I और II दोनों सही हैं।
2. कथन I और II दोनों सही नहीं हैं।
3. कथन-I सही है, किन्तु कथन-II सही नहीं है।
4. कथन-I सही नहीं है, किन्तु कथन-II सही है।

Options :

21052935057. 1
21052935058. 2
21052935059. 3
21052935060. 4

Question Number : 16 Question Id : 2105298930 Question Type : MCQ Option Shuffling : No Is Question Mandatory : No Calculator : None Response Time : N.A Think Time : N.A Minimum Instruction Time : 0

Correct Marks : 2 Wrong Marks : 0

Shifting technologies and communication institutions contribute to

1. System integration
2. Temporal disintegration
3. Psychological disintegration
4. Spatial integration

Options :

21052935061. 1
21052935062. 2
21052935063. 3
21052935064. 4

Question Number : 16 Question Id : 2105298930 Question Type : MCQ Option Shuffling : No Is Question Mandatory : No Calculator : None Response Time : N.A Think Time : N.A Minimum Instruction Time : 0

Correct Marks : 2 Wrong Marks : 0

परिवर्तनीय टेक्नोलॉजी और संचार संस्थाओं के कारण निम्नलिखित में से क्या घटित हो रहा है -

1. सिस्टम एकीकरण
2. सामयिक विघटन
3. मनोवैज्ञानिक विघटन
4. स्थानिक एकीकरण

Options :

- 21052935061. 1
- 21052935062. 2
- 21052935063. 3
- 21052935064. 4

Question Number : 17 Question Id : 2105298931 Question Type : MCQ Option Shuffling : No Is Question Mandatory : No Calculator : None Response Time : N.A Think Time : N.A Minimum Instruction Time : 0

Correct Marks : 2 Wrong Marks : 0

संचार का सकारात्मक प्रभाव निम्नलिखित में से किस पर निर्भर करता है :

- A. बाधाओं को स्वीकारना
- B. आयोजन
- C. अचानक अभिव्यक्ति
- D. मीडिया चयन
- E. भाषा का प्रयोग

नीचे दिए गए विकल्पों में से सही उत्तर चुनिये :

- 1. केवल A, B और D
- 2. केवल B, D और E
- 3. केवल C, D और E
- 4. केवल A, D और E

Options :

- 21052935065. 1
- 21052935066. 2
- 21052935067. 3
- 21052935068. 4

Question Number : 17 Question Id : 2105298931 Question Type : MCQ Option Shuffling : No Is Question Mandatory : No Calculator : None Response Time : N.A Think Time : N.A Minimum Instruction Time : 0

Correct Marks : 2 Wrong Marks : 0

The positive impact of communication depends upon

- A. Acceptance of barriers
- B. Planning
- C. Sudden expression
- D. Media selection
- E. Use of language

Choose the **correct** answer from the options given below:

- 1. A, B and D only
- 2. B, D and E only
- 3. C, D and E only
- 4. A, D and E only

Options :

- 21052935065. 1
- 21052935066. 2
- 21052935067. 3
- 21052935068. 4

Question Number : 18 Question Id : 2105298932 Question Type : MCQ Option Shuffling : No Is Question Mandatory : No Calculator : None Response Time : N.A Think Time : N.A Minimum Instruction Time : 0

Correct Marks : 2 Wrong Marks : 0

Given below are two statements, one is labelled as **Assertion A** and the other is labelled as **Reason R**

Assertion A: Universality of communication makes education vital and vibrant

Reason R: Semiotic narration does not lend itself credence to make it an efficient mode of teaching

In light of the above statements, choose the **most appropriate** answer from the options given below

- 1. Both **A** and **R** are correct and **R** is the correct explanation of **A**
- 2. Both **A** and **R** are correct but **R** is **NOT** the correct explanation of **A**
- 3. **A** is correct but **R** is not correct
- 4. **A** is not correct but **R** is correct

Options :

- 21052935069. 1
- 21052935070. 2
- 21052935071. 3

21052935072. 4

Question Number : 18 Question Id : 2105298932 Question Type : MCQ Option Shuffling : No Is Question Mandatory : No Calculator : None Response Time : N.A Think Time : N.A Minimum Instruction Time : 0

Correct Marks : 2 Wrong Marks : 0

नीचे दो कथन दिए गए हैं : एक को अभिकथन (A) और दूसरे को तर्क (R) कहा गया है :

अभिकथन (A) : सम्प्रेषण की सार्वभौमिकता शिक्षा को सजीव एवं जीवन्त बनाती है।

तर्क (R) : सांकेतिक आख्यान शिक्षण की प्रभावी विधि होने की विश्वसनीयता पर खरा नहीं उतरता।

उपर्युक्त कथनों के आलोक में निम्नांकित विकल्पों में से सर्वाधिक उपयुक्त उत्तर चुनें :

1. (A) और (R) दोनों सही हैं और (R), (A) की सही व्याख्या है।
2. (A) और (R) दोनों सही हैं और (R), (A) की सही व्याख्या नहीं है।
3. (A) सही है परन्तु (R) सही नहीं है।
4. (A) सही नहीं है परन्तु (R) सही है।

Options :

21052935069. 1

21052935070. 2

21052935071. 3

21052935072. 4

Question Number : 19 Question Id : 2105298933 Question Type : MCQ Option Shuffling : No Is Question Mandatory : No Calculator : None Response Time : N.A Think Time : N.A Minimum Instruction Time : 0

Correct Marks : 2 Wrong Marks : 0

The chronological sequence in the development of communication system is

- A. Emergence of language
- B. Cave paintings
- C. Interpersonal communication (verbal)
- D. Appearance of printing technology
- E. Telecommunication system

Choose the **correct** answer from the options given below

1. A, B, C, E, D
2. B, E, D, C, A
3. C, D, E, A, B
4. B, A, C, D, E

Options :

21052935073. 1

21052935074. 2

21052935075. 3

21052935076. 4

Question Number : 19 Question Id : 2105298933 Question Type : MCQ Option Shuffling : No Is Question Mandatory : No Calculator : None Response Time : N.A Think Time : N.A Minimum Instruction Time : 0

Correct Marks : 2 Wrong Marks : 0

सम्प्रेषण प्रणाली के विकास में कालक्रमानुसार सही अनुक्रम है :

- A. भाषा का उद्भव
- B. गुफा चित्रकारी
- C. अंतर्व्यक्तिक सम्प्रेषण (मौखिक)
- D. मुद्रण प्रौद्योगिकी का उद्भव
- E. दूरसंचार प्रणाली

नीचे दिए गए विकल्पों में से सही उत्तर का चयन कीजिए :

- 1. A, B, C, E, D
- 2. B, E, D, C, A
- 3. C, D, E, A, B
- 4. B, A, C, D, E

Options :

21052935073. 1

21052935074. 2

21052935075. 3

21052935076. 4

Question Number : 20 Question Id : 2105298934 Question Type : MCQ Option Shuffling : No Is Question Mandatory : No Calculator : None Response Time : N.A Think Time : N.A Minimum Instruction Time : 0

Correct Marks : 2 Wrong Marks : 0

Match **List I** with **List II**

List I	List II
Example	Type of communication
A. Addressing the nation over national TV network	I. Horizontal communication
B. Conducting a workshop for a select number of teachers	II. Intra-personal communication
C. Internal conversation with fellow workers	III. Mass communication
D. Recollection of past events	IV. Group communication

Choose the **correct** answer from the options given below:

1. A - I, B - II, C - III, D - IV
2. A - II, B - III, C - IV, D - I
3. A - III, B - IV, C - I, D - II
4. A - IV, B - I, C - II, D - III

Options :

21052935077. 1
21052935078. 2
21052935079. 3
21052935080. 4

Question Number : 20 Question Id : 2105298934 Question Type : MCQ Option Shuffling : No Is Question Mandatory : No Calculator : None Response Time : N.A Think Time : N.A Minimum Instruction Time : 0

Correct Marks : 2 Wrong Marks : 0

सूची-I को सूची-II के साथ सुमेलित कीजिए :

सूची-I	सूची-II
उदाहरण	संचार के प्रकार
A. राष्ट्रीय टी वी नेटवर्क पर देश को सम्बोधित करना	I. क्षेत्रीय सम्प्रेषण
B. चुनिन्दा संख्या में शिक्षकों की कार्यशाला आयोजित करना	II. अंतः वैयक्तिक सम्प्रेषण
C. साथी कर्मियों के साथ अनौपचारिक बातचीत	III. जन संचार
D. अतीत की घटनाओं का स्मरण	IV. समूहगत सम्प्रेषण

नीचे दिए गए विकल्पों में से सही उत्तर चुनिए :

1. A - I, B - II, C - III, D - IV
2. A - II, B - III, C - IV, D - I
3. A - III, B - IV, C - I, D - II
4. A - IV, B - I, C - II, D - III

Options :

21052935077. 1
21052935078. 2
21052935079. 3
21052935080. 4

Question Number : 21 Question Id : 2105298935 Question Type : MCQ Option Shuffling : No Is Question Mandatory : No Calculator : None Response Time : N.A Think Time : N.A Minimum Instruction Time : 0

Correct Marks : 2 Wrong Marks : 0

Given below are two statements

Statement I: If the ratio of the speeds of A and B is $a:b$, then the ratio of the times taken by them to cover the same distance is $b:a$

Statement II: Suppose two men are moving in the same direction at u m/s and v m/s respectively, where $u > v$, then their relative speed is $(u+v)$ m/s

In light of the above statements, choose the **most appropriate** answer from the options given below

1. Both Statement I and Statement II are true
2. Both Statement I and Statement II are false
3. Statement I is correct but Statement II is false
4. Statement I is incorrect but Statement II is true

Options :

21052935081. 1

21052935082. 2

21052935083. 3

21052935084. 4

Question Number : 21 Question Id : 2105298935 Question Type : MCQ Option Shuffling : No Is Question Mandatory : No Calculator : None Response Time : N.A Think Time : N.A Minimum Instruction Time : 0

Correct Marks : 2 Wrong Marks : 0

नीचे दो कथन दिए गए हैं :

कथन-I : यदि A और B की गतियों का अनुपात $a : b$ है तो समान दूरी तय करने में उनके द्वारा लिए गए समय का अनुपात $b : a$ होगा।

कथन-II : मान लीजिए दो व्यक्ति समान दिशा में क्रमशः u m/s और v m/s की गति से जा रहे हैं, जहाँ $u > v$ है। तो उनकी सापेक्षिक गति $(u+v)$ m/s होगी।

उपर्युक्त कथनों के आलोक में निम्नांकित विकल्पों में से सही उत्तर चुनें :

1. कथन I और II दोनों सही हैं।
2. कथन I और II दोनों गलत हैं।
3. कथन-I सत्य है, किन्तु कथन-II गलत है।
4. कथन-I असत्य है, किन्तु कथन-II सही है।

Options :

21052935081. 1

21052935082. 2

21052935083. 3

21052935084. 4

Question Number : 22 Question Id : 2105298936 Question Type : MCQ Option Shuffling : No Is Question Mandatory : No Calculator : None Response Time : N.A Think Time : N.A Minimum Instruction Time : 0

Correct Marks : 2 Wrong Marks : 0

Consider the following three expressions

A. $35 \div 0.07$

B. $2.5 \div 0.0005$

C. $136.09 \div 43.9$

What is the correct descending order for the simplified values of A, B and C?

Choose the **correct** answer from the options given below

1. $B > A > C$

2. $C > A > B$

3. $C > B > A$

4. $B > C > A$

Options :

21052935085. 1

21052935086. 2

21052935087. 3

21052935088. 4

Question Number : 22 Question Id : 2105298936 Question Type : MCQ Option Shuffling : No Is Question Mandatory : No Calculator : None Response Time : N.A Think Time : N.A Minimum Instruction Time : 0

Correct Marks : 2 Wrong Marks : 0

निम्नलिखित तीन व्यंजकों पर विचार करें :

A. $35 \div 0.07$

B. $2.5 \div 0.0005$

C. $136.09 \div 43.9$

A, B और C के सरलीकृत मान हेतु सही अवरोही क्रम क्या है ?

1. $B > A > C$

2. $C > A > B$

3. $C > B > A$

4. $B > C > A$

Options :

21052935085. 1

21052935086. 2

21052935087. 3

21052935088. 4

Question Number : 23 Question Id : 2105298937 Question Type : MCQ Option Shuffling : No Is Question Mandatory : No Calculator : None Response Time : N.A Think Time : N.A Minimum Instruction Time : 0

Correct Marks : 2 Wrong Marks : 0

Which of the following numbers are non-prime?

A. 11

B. 13

C. 19

D. 21

E. 15

Choose the **correct** answer from the options given below:

1. A and E only

2. B and C only

3. C and E only

4. D and E only

Options :

21052935089. 1

21052935090. 2

21052935091. 3

21052935092. 4

Question Number : 23 Question Id : 2105298937 Question Type : MCQ Option Shuffling : No Is Question Mandatory : No Calculator : None Response Time : N.A Think Time : N.A Minimum Instruction Time : 0

Correct Marks : 2 Wrong Marks : 0

निम्नलिखित में से कौन-सी संख्याएं भाज्य संख्याएं हैं ?

A. 11

B. 13

C. 19

D. 21

E. 15

नीचे दिए गए विकल्पों में से सही उत्तर का चयन कीजिए :

1. केवल A और E
2. केवल B और C
3. केवल C और E
4. केवल D और E

Options :

21052935089. 1

21052935090. 2

21052935091. 3

21052935092. 4

Question Number : 24 Question Id : 2105298938 Question Type : MCQ Option Shuffling : No Is Question Mandatory : No Calculator : None Response Time : N.A Think Time : N.A Minimum Instruction Time : 0

Correct Marks : 2 Wrong Marks : 0

Find the odd number in the following series

644, 328, 164, 84, 44, 24, 14

1. 44
2. 84
3. 164
4. 328

Options :

21052935093. 1

21052935094. 2

21052935095. 3

21052935096. 4

Question Number : 24 Question Id : 2105298938 Question Type : MCQ Option Shuffling : No Is Question Mandatory : No Calculator : None Response Time : N.A Think Time : N.A Minimum Instruction Time : 0

Correct Marks : 2 Wrong Marks : 0

निम्नलिखित क्रम में से असंगत संख्या का पता लगाएं :

644, 328, 164, 84, 44, 24, 14

1. 44
2. 84
3. 164
4. 328

Options :

21052935093. 1
21052935094. 2
21052935095. 3
21052935096. 4

Question Number : 25 Question Id : 2105298939 Question Type : MCQ Option Shuffling : No Is Question Mandatory : No Calculator : None Response Time : N.A Think Time : N.A Minimum Instruction Time : 0

Correct Marks : 2 Wrong Marks : 0

Kavita sold a mobile phone at the price of ₹ 1950 and made a loss of 25%. At what price will she have to sell it to get a profit of 30%?

1. ₹ 2600/-
2. ₹ 2780/-
3. ₹ 3000/-
4. ₹ 3380/-

Options :

21052935097. 1
21052935098. 2
21052935099. 3
21052935100. 4

Question Number : 25 Question Id : 2105298939 Question Type : MCQ Option Shuffling : No Is Question Mandatory : No Calculator : None Response Time : N.A Think Time : N.A Minimum Instruction Time : 0

Correct Marks : 2 Wrong Marks : 0

कविता ने 25 प्रतिशत की हानि पर 1950 रुपये में एक मोबाइल फोन बेचा। 30% के लाभ पर उस मोबाइल को बेचने हेतु उसे कितनी कीमत पर बेचना होगा ?

1. 2600 /- रुपये
2. 2780 /- रुपये
3. 3000 /- रुपये
4. 3380 /- रुपये

Options :

21052935097. 1
21052935098. 2
21052935099. 3
21052935100. 4

Question Number : 26 Question Id : 2105298940 Question Type : MCQ Option Shuffling : No Is Question Mandatory : No Calculator : None Response Time : N.A Think Time : N.A Minimum Instruction Time : 0

Correct Marks : 2 Wrong Marks : 0

If the word HEART is written as SQPMZ, then EARTH can be written as

1. QPMSZ
2. QPMZS
3. QMPSZ
4. QMPZS

Options :

21052935101. 1

21052935102. 2

21052935103. 3

21052935104. 4

Question Number : 26 Question Id : 2105298940 Question Type : MCQ Option Shuffling : No Is Question Mandatory : No Calculator : None Response Time : N.A Think Time : N.A Minimum Instruction Time : 0

Correct Marks : 2 Wrong Marks : 0

यदि HEART को SQPMZ के रूप में लिखा जाता है तो EARTH को किस तरह लिखा जा सकता है ?

1. QPMSZ
2. QPMZS
3. QMPSZ
4. QMPZS

Options :

21052935101. 1

21052935102. 2

21052935103. 3

21052935104. 4

Question Number : 27 Question Id : 2105298941 Question Type : MCQ Option Shuffling : No Is Question Mandatory : No Calculator : None Response Time : N.A Think Time : N.A Minimum Instruction Time : 0

Correct Marks : 2 Wrong Marks : 0

In the sequence

10KL13, 15PQ18, 19TU22, _____

What will be last place?

1. 22VW23
2. 22VW24
3. 23XY25
4. 23XY26

Options :

- 21052935105. 1
- 21052935106. 2
- 21052935107. 3
- 21052935108. 4

Question Number : 27 Question Id : 2105298941 Question Type : MCQ Option Shuffling : No Is Question Mandatory : No Calculator : None Response Time : N.A Think Time : N.A Minimum Instruction Time : 0

Correct Marks : 2 Wrong Marks : 0

अनुक्रम में 10KL13, 15PQ18, 19TU22, ____ अंतिम स्थान पर क्या होगा ?

- 1. 22VW23
- 2. 22VW24
- 3. 23XY25
- 4. 23XY26

Options :

- 21052935105. 1
- 21052935106. 2
- 21052935107. 3
- 21052935108. 4

Question Number : 28 Question Id : 2105298942 Question Type : MCQ Option Shuffling : No Is Question Mandatory : No Calculator : None Response Time : N.A Think Time : N.A Minimum Instruction Time : 0

Correct Marks : 2 Wrong Marks : 0

In the statement 'the hill has smoke because it has fire', which type of fallacy may be identified?

- 1. Asidha
- 2. Sādharana
- 3. Asādhārana
- 4. Vyāpyatvāsīdha

Options :

- 21052935109. 1
- 21052935110. 2
- 21052935111. 3
- 21052935112. 4

Question Number : 28 Question Id : 2105298942 Question Type : MCQ Option Shuffling : No Is Question Mandatory : No Calculator : None Response Time : N.A Think Time : N.A Minimum Instruction Time : 0

Correct Marks : 2 Wrong Marks : 0

'पहाड़ी पर धुआं है क्योंकि वहाँ आग है', इस कथन में किस प्रकार का हेत्वाभास है ?

1. असिद्ध
2. साधारण
3. असाधारण
4. व्याप्यत्वासिद्ध

Options :

21052935109. 1
21052935110. 2
21052935111. 3
21052935112. 4

Question Number : 29 Question Id : 2105298943 Question Type : MCQ Option Shuffling : No Is Question Mandatory : No Calculator : None Response Time : N.A Think Time : N.A Minimum Instruction Time : 0

Correct Marks : 2 Wrong Marks : 0

All knowable objects are nameable;

The pot is a knowable object;

Therefore, the pot is nameable

The above is an example of which type of inference?

1. Kevalānvayi
2. Kevalavyātireki
3. Anvaya Vyatireki
4. Sheṣavat

Options :

21052935113. 1
21052935114. 2
21052935115. 3
21052935116. 4

Question Number : 29 Question Id : 2105298943 Question Type : MCQ Option Shuffling : No Is Question Mandatory : No Calculator : None Response Time : N.A Think Time : N.A Minimum Instruction Time : 0

Correct Marks : 2 Wrong Marks : 0

सभी ज्ञेय वस्तुएँ अभिधेय हैं ;

बर्तन एक ज्ञेय वस्तु है ;

इसलिए, बर्तन अभिधेय है

उपरोक्त किस प्रकार के अनुमान का उदाहरण है ?

1. केवलान्वयी
2. केवलव्यतिरेकी
3. अन्वयव्यतिरेकी
4. शेषवत्

Options :

21052935113. 1
21052935114. 2
21052935115. 3
21052935116. 4

Question Number : 30 Question Id : 2105298944 Question Type : MCQ Option Shuffling : No Is Question Mandatory : No Calculator : None Response Time : N.A Think Time : N.A Minimum Instruction Time : 0

Correct Marks : 2 Wrong Marks : 0

Match **List I** with **List II**

List I	List II
Pairs	Pairs of analogies
A. Newspaper - Press	I. Thirst - Water
B. Dog - Kennel	II. Cow - Calf
C. Hen - Chick	III. Cloth - Mill
D. Darkness - Lamp	IV. Mouse - Hole

Choose the **correct** answer from the options given below

1. A - II, B - IV, C - I, D - III
2. A - III, B - IV, C - II, D - I
3. A - IV, B - II, C - I, D - III
4. A - I, B - III, C - II, D - IV

Options :

21052935117. 1
21052935118. 2
21052935119. 3
21052935120. 4

Question Number : 30 Question Id : 2105298944 Question Type : MCQ Option Shuffling : No Is Question Mandatory : No Calculator : None Response Time : N.A Think Time : N.A Minimum Instruction Time : 0

Correct Marks : 2 Wrong Marks : 0

सूची-I के युग्मों को सूची-II के उनके सादृश्य युग्मों के साथ सुमेलित कीजिए :

सूची-I	सूची-II
A. समाचार पत्र : प्रेस	I. प्यास : पानी
B. कुत्ता : कुत्ताघर	II. गाय : बछड़ा
C. मुर्गी : चूजा	III. कपड़ा : मिल
D. अंधेरा : लैम्प	IV. चूहा : बिल

नीचे दिए गए विकल्पों में से सही उत्तर चुनिए :

1. A - II, B - IV, C - I, D - III
2. A - III, B - IV, C - II, D - I
3. A - IV, B - II, C - I, D - III
4. A - I, B - III, C - II, D - IV

Options :

21052935117. 1
21052935118. 2
21052935119. 3
21052935120. 4

Question Number : 31 Question Id : 2105298945 Question Type : MCQ Option Shuffling : No Is Question Mandatory : No Calculator : None Response Time : N.A Think Time : N.A Minimum Instruction Time : 0

Correct Marks : 2 Wrong Marks : 0

Match **List I** with **List II**

List I	List II
A. Web browser	I. Hard Disk
B. Operating system	II. Chrome
C. Secondary memory	III. MS-Word
D. Application software	IV. DOS

Choose the **correct** answer from the options given below:

1. A - III, B - II, C - I, D - IV
2. A - II, B - IV, C - I, D - III
3. A - III, B - I, C - II, D - IV
4. A - III, B - I, C - IV, D - II

Options :

21052935121. 1
21052935122. 2
21052935123. 3
21052935124. 4

Question Number : 31 Question Id : 2105298945 Question Type : MCQ Option Shuffling : No Is Question Mandatory : No Calculator : None Response Time : N.A Think Time : N.A Minimum Instruction Time : 0

Correct Marks : 2 Wrong Marks : 0

सूची-I को सूची-II के साथ सुमेलित कीजिए :

सूची-I	सूची-II
A. वेब ब्राउजर	I. हार्ड डिस्क
B. ऑपरेटिंग सिस्टम	II. क्रोम
C. सेकेण्ड्री मेमोरी	III. एम एस-वर्ड
D.अप्लीकेशन साफ्टवेयर	IV. डास

नीचे दिए गए विकल्पों में से सही उत्तर चुनिए :

1. A - III, B - II, C - I, D - IV
2. A - II, B - IV, C - I, D - III
3. A - III, B - I, C - II, D - IV
4. A - III, B - I, C - IV, D - II

Options :

21052935121. 1
21052935122. 2
21052935123. 3
21052935124. 4

Question Number : 32 Question Id : 2105298946 Question Type : MCQ Option Shuffling : No Is Question Mandatory : No Calculator : None Response Time : N.A Think Time : N.A Minimum Instruction Time : 0

Correct Marks : 2 Wrong Marks : 0

Match **List I** with **List II**

List I	List II
A. Software	I. Step by step procedure to solve a problem
B. Hardware	II. Raw facts and figures
C. Algorithm	III. Hard Disk
D. Data	IV. Linux

Choose the **correct** answer from the options given below:

1. A - III, B - I, C - II, D - IV
2. A - III, B - II, C - I, D - IV
3. A - IV, B - I, C - II, D - III
4. A - IV, B - III, C - I, D - II

Options :

21052935125. 1
21052935126. 2
21052935127. 3
21052935128. 4

Question Number : 32 Question Id : 2105298946 Question Type : MCQ Option Shuffling : No Is Question Mandatory : No Calculator : None Response Time : N.A Think Time : N.A Minimum Instruction Time : 0

Correct Marks : 2 Wrong Marks : 0

सूची-I को सूची-II के साथ सुमेलित कीजिए :

सूची-I	सूची-II
A. सॉफ्टवेयर	I. समस्या निवारण की सोपानिक पद्धति
B. हार्डवेयर	II. मूल तथ्य एवं आंकड़ें
C. एल्गोरिथम	III. हार्ड डिस्क
D. डाटा	IV. लाइनक्स

नीचे दिए गए विकल्पों में से सही उत्तर चुनिए :

1. A - III, B - I, C - II, D - IV
2. A - III, B - II, C - I, D - IV
3. A - IV, B - I, C - II, D - III
4. A - IV, B - III, C - I, D - II

Options :

21052935125. 1
21052935126. 2
21052935127. 3
21052935128. 4

Question Number : 33 Question Id : 2105298947 Question Type : MCQ Option Shuffling : No Is Question Mandatory : No Calculator : None Response Time : N.A Think Time : N.A Minimum Instruction Time : 0

Correct Marks : 2 Wrong Marks : 0

What type of device is a joystick?

1. Input
2. Output
3. Memory
4. Processor

Options :

21052935129. 1
21052935130. 2
21052935131. 3
21052935132. 4

Question Number : 33 Question Id : 2105298947 Question Type : MCQ Option Shuffling : No Is Question Mandatory : No Calculator : None Response Time : N.A Think Time : N.A Minimum Instruction Time : 0

Correct Marks : 2 Wrong Marks : 0

जोयस्टिक किस प्रकार की युक्ति है ?

1. इनपुट
2. आउटपुट
3. मेमोरी
4. प्रोसेसर

Options :

- 21052935129. 1
- 21052935130. 2
- 21052935131. 3
- 21052935132. 4

Question Number : 34 Question Id : 2105298948 Question Type : MCQ Option Shuffling : No Is Question Mandatory : No Calculator : None Response Time : N.A Think Time : N.A Minimum Instruction Time : 0

Correct Marks : 2 Wrong Marks : 0

Which of the following is an application software?

- 1. Android
- 2. iOS
- 3. Linux
- 4. MS Word

Options :

- 21052935133. 1
- 21052935134. 2
- 21052935135. 3
- 21052935136. 4

Question Number : 34 Question Id : 2105298948 Question Type : MCQ Option Shuffling : No Is Question Mandatory : No Calculator : None Response Time : N.A Think Time : N.A Minimum Instruction Time : 0

Correct Marks : 2 Wrong Marks : 0

निम्नलिखित में से कौन सा अप्लीकेशन साफ्टवेयर है ?

- 1. एन्ड्राइड
- 2. आई ओ एस
- 3. लाइनक्स
- 4. एम एस वर्ड

Options :

- 21052935133. 1
- 21052935134. 2
- 21052935135. 3
- 21052935136. 4

Question Number : 35 Question Id : 2105298949 Question Type : MCQ Option Shuffling : No Is Question Mandatory : No Calculator : None Response Time : N.A Think Time : N.A Minimum Instruction Time : 0

Correct Marks : 2 Wrong Marks : 0

Information is

1. Raw data
2. Processed data
3. Redundant data
4. Always ordinal data

Options :

21052935137. 1
21052935138. 2
21052935139. 3
21052935140. 4

Question Number : 35 Question Id : 2105298949 Question Type : MCQ Option Shuffling : No Is Question Mandatory : No Calculator : None Response Time : N.A Think Time : N.A Minimum Instruction Time : 0

Correct Marks : 2 Wrong Marks : 0

सूचना है :

1. अव्यवस्थित प्रदत्त
2. संसाधित प्रदत्त
3. व्यतिरिक्त प्रदत्त
4. हमेशा क्रमिक प्रदत्त

Options :

21052935137. 1
21052935138. 2
21052935139. 3
21052935140. 4

Question Number : 36 Question Id : 2105298950 Question Type : MCQ Option Shuffling : No Is Question Mandatory : No Calculator : None Response Time : N.A Think Time : N.A Minimum Instruction Time : 0

Correct Marks : 2 Wrong Marks : 0

Identify the correct sequence in increasing order of the carbon content per unit mass of the following reservoirs of carbon in terrestrial environment

- A. Plants
- B. Peat
- C. Soil organic matter
- D. Fossil fuels

Choose the **correct** answer from the options given below

- 1. B, A, C, D
- 2. A, C, B, D
- 3. B, C, D, A
- 4. B, A, D, C

Options :

- 21052935141. 1
- 21052935142. 2
- 21052935143. 3
- 21052935144. 4

Question Number : 36 Question Id : 2105298950 Question Type : MCQ Option Shuffling : No Is Question Mandatory : No Calculator : None Response Time : N.A Think Time : N.A Minimum Instruction Time : 0

Correct Marks : 2 Wrong Marks : 0

स्थलीय वातावरण में कार्बन के निम्नलिखित भंडारों के प्रति इकाई द्रव्यमान की कार्बन मात्रा के बढ़ते हुए क्रम का सही अनुक्रम चिह्नित कीजिए :

- A. पौधे
- B. पांस (पीट)
- C. मृदा के कार्बनिक पदार्थ
- D. जीवाश्म ईंधन

नीचे दिए गए विकल्पों में से सही उत्तर चुनिये :

- 1. B, A, C, D
- 2. A, C, B, D
- 3. B, C, D, A
- 4. B, A, D, C

Options :

- 21052935141. 1
- 21052935142. 2
- 21052935143. 3

Question Number : 37 Question Id : 2105298951 Question Type : MCQ Option Shuffling : No Is Question Mandatory : No Calculator : None Response Time : N.A Think Time : N.A Minimum Instruction Time : 0

Correct Marks : 2 Wrong Marks : 0

Given below are two statements, one is labelled as **Assertion A** and the other is labelled as **Reason R**

Assertion A: Lakes are less prone to getting polluted than rivers

Reason R: Water in lakes gets replaced through natural processes

In light of the above statements, choose the **most appropriate** answer from the options given below

1. Both **A** and **R** are correct and **R** is the correct explanation of **A**
2. Both **A** and **R** are correct but **R** is **NOT** the correct explanation of **A**
3. **A** is correct but **R** is not correct
4. **A** is not correct but **R** is correct

Options :

21052935145. 1

21052935146. 2

21052935147. 3

21052935148. 4

Question Number : 37 Question Id : 2105298951 Question Type : MCQ Option Shuffling : No Is Question Mandatory : No Calculator : None Response Time : N.A Think Time : N.A Minimum Instruction Time : 0

Correct Marks : 2 Wrong Marks : 0

नीचे दो कथन दिए गए हैं : एक को अभिकथन (A) और दूसरे को तर्क (R) कहा गया है :

अभिकथन (A) : झीलों नदियों की अपेक्षा कम प्रदूषित होने की ओर प्रवृत्त हैं।

तर्क (R) : झीलों में जल प्राकृतिक प्रक्रियाओं द्वारा परिवर्तित होता है।

उपर्युक्त कथनों के आलोक में निम्नांकित विकल्पों में से सर्वाधिक उपयुक्त उत्तर चुनें :

1. (A) और (R) दोनों सही हैं और (R), (A) की सही व्याख्या है।
2. (A) और (R) दोनों सही हैं और (R), (A) की सही व्याख्या नहीं है।
3. (A) सही है परन्तु (R) सही नहीं है।
4. (A) सही नहीं है परन्तु (R) सही है।

Options :

21052935145. 1

21052935146. 2

21052935147. 3

21052935148. 4

Question Number : 38 Question Id : 2105298952 Question Type : MCQ Option Shuffling : No Is Question Mandatory : No Calculator : None Response Time : N.A Think Time : N.A Minimum Instruction Time : 0

Correct Marks : 2 Wrong Marks : 0

Under Millenium Development Goal 5, maternal mortality ratio between 1990 and 2015 was to be reduced by

1. 50 %
2. 75 %
3. 66 %
4. 40 %

Options :

21052935149. 1
21052935150. 2
21052935151. 3
21052935152. 4

Question Number : 38 Question Id : 2105298952 Question Type : MCQ Option Shuffling : No Is Question Mandatory : No Calculator : None Response Time : N.A Think Time : N.A Minimum Instruction Time : 0

Correct Marks : 2 Wrong Marks : 0

सहस्राब्दि (मिलेनियम) विकास लक्ष्य 5 के अंतर्गत, 1990 और 2015 के मध्य मातृक मृत्युदर कितनी कम करना अपेक्षित था ?

1. 50 %
2. 75 %
3. 66 %
4. 40 %

Options :

21052935149. 1
21052935150. 2
21052935151. 3
21052935152. 4

Question Number : 39 Question Id : 2105298953 Question Type : MCQ Option Shuffling : No Is Question Mandatory : No Calculator : None Response Time : N.A Think Time : N.A Minimum Instruction Time : 0

Correct Marks : 2 Wrong Marks : 0

According to the classification of Ministry of New and Renewable Energy and Central Electricity Authority of India, small hydro power plants have capacity in the range

1. 1-25 MW
2. 100-1000 kW
3. 1-50 MW
4. 1-100 kW

Options :

21052935153. 1
21052935154. 2
21052935155. 3
21052935156. 4

Question Number : 39 Question Id : 2105298953 Question Type : MCQ Option Shuffling : No Is Question Mandatory : No Calculator : None Response Time : N.A Think Time : N.A Minimum Instruction Time : 0

Correct Marks : 2 Wrong Marks : 0

नव तथा नवीकरणीय ऊर्जा मंत्रालय और भारतीय केन्द्रीय विद्युत प्राधिकरण के वर्गीकरण के अनुसार लघु जल शक्ति संयंत्र की क्षमता की सीमा है :

1. 1 - 25 मेगावाट
2. 100 - 1000 किलोवाट
3. 1 - 50 मेगावाट
4. 1 - 100 किलोवाट

Options :

21052935153. 1
21052935154. 2
21052935155. 3
21052935156. 4

Question Number : 40 Question Id : 2105298954 Question Type : MCQ Option Shuffling : No Is Question Mandatory : No Calculator : None Response Time : N.A Think Time : N.A Minimum Instruction Time : 0

Correct Marks : 2 Wrong Marks : 0

India's first National Policy on Education was a sequel to the recommendations of which of the following committee/commissions?

1. Kothari Commission
2. Mudaliyar Commission
3. Ramamurti Review Committee
4. Radhakrishnan Commission

Options :

21052935157. 1
21052935158. 2
21052935159. 3
21052935160. 4

Question Number : 40 Question Id : 2105298954 Question Type : MCQ Option Shuffling : No Is Question Mandatory : No Calculator : None Response Time : N.A Think Time : N.A Minimum Instruction Time : 0

Correct Marks : 2 Wrong Marks : 0

शिक्षा पर भारत की पहली राष्ट्रीय नीति निम्नलिखित किस समिति / आयोग की अनुशंसाओं का परिणाम थी ?

1. कोठारी आयोग
2. मुदलियार आयोग
3. राममूर्ति पुनरीक्षण समिति
4. राधाकृष्णन आयोग

Options :

21052935157. 1
21052935158. 2
21052935159. 3
21052935160. 4

Question Number : 41 Question Id : 2105298955 Question Type : MCQ Option Shuffling : No Is Question Mandatory : No Calculator : None Response Time : N.A Think Time : N.A Minimum Instruction Time : 0

Correct Marks : 2 Wrong Marks : 0

'NEAT' an MHRD scheme, aims at

1. Better learning outcomes in higher education
2. Facilitating medical entrance examination
3. Better financial resource management
4. Promoting 'SWATCHH' campuses under Swatchh Bharat Abhiyan

Options :

21052935161. 1
21052935162. 2
21052935163. 3
21052935164. 4

Question Number : 41 Question Id : 2105298955 Question Type : MCQ Option Shuffling : No Is Question Mandatory : No Calculator : None Response Time : N.A Think Time : N.A Minimum Instruction Time : 0

Correct Marks : 2 Wrong Marks : 0

एम एच आर डी की योजना 'एन ई ए टी' का लक्ष्य है :

1. उच्च शिक्षा में बेहतर अधिगम परिणाम
2. मेडिकल प्रवेश परीक्षा को सरल बनाना
3. बेहतर वित्तीय संसाधन प्रबंधन
4. स्वच्छ भारत अभियान के अंतर्गत 'स्वच्छ' परिसरों का संस्थापन

Options :

21052935161. 1
21052935162. 2
21052935163. 3
21052935164. 4

Question Number : 42 Question Id : 2105298956 Question Type : MCQ Option Shuffling : No Is Question Mandatory : No Calculator : None Response Time : N.A Think Time : N.A Minimum Instruction Time : 0

Correct Marks : 2 Wrong Marks : 0

The first National Sports University (a Central Government University) is in the state of

1. Haryana
2. Manipur
3. Arunachal Pradesh
4. Punjab

Options :

21052935165. 1
21052935166. 2
21052935167. 3
21052935168. 4

Question Number : 42 Question Id : 2105298956 Question Type : MCQ Option Shuffling : No Is Question Mandatory : No Calculator : None Response Time : N.A Think Time : N.A Minimum Instruction Time : 0

Correct Marks : 2 Wrong Marks : 0

प्रथम राष्ट्रीय खेल विश्वविद्यालय (केंद्रीय विश्वविद्यालय) किस राज्य में है ?

1. हरियाणा
2. मणिपुर
3. अरुणाचल प्रदेश
4. पंजाब

Options :

21052935165. 1
21052935166. 2
21052935167. 3
21052935168. 4

Question Number : 43 Question Id : 2105298957 Question Type : MCQ Option Shuffling : No Is Question Mandatory : No Calculator : None Response Time : N.A Think Time : N.A Minimum Instruction Time : 0

Correct Marks : 2 Wrong Marks : 0

Which of the following committees/commissions in their report recommended that science Education and Research should receive high priority to accelerate national economy?

1. Acharya Narendra Dev Committee
2. Mudaliyar Commission
3. Radhakrishnan Commission
4. Kothari Commission

Options :

21052935169. 1
21052935170. 2

21052935171. 3

21052935172. 4

Question Number : 43 Question Id : 2105298957 Question Type : MCQ Option Shuffling : No Is Question Mandatory : No Calculator : None Response Time : N.A Think Time : N.A Minimum Instruction Time : 0

Correct Marks : 2 Wrong Marks : 0

निम्नलिखित समितियों / आयोगों में से किसने अपने प्रतिवेदन में अनुशंसा की कि राष्ट्रीय अर्थव्यवस्था को तीव्र करने के लिए विज्ञान शिक्षा एवं शोध को उच्च प्राथमिकता प्राप्त होना चाहिए ?

1. आचार्य नरेन्द्रदेव समिति
2. मुदलियार आयोग
3. राधाकृष्णन आयोग
4. कोठारी आयोग

Options :

21052935169. 1

21052935170. 2

21052935171. 3

21052935172. 4

Question Number : 44 Question Id : 2105298958 Question Type : MCQ Option Shuffling : No Is Question Mandatory : No Calculator : None Response Time : N.A Think Time : N.A Minimum Instruction Time : 0

Correct Marks : 2 Wrong Marks : 0

Given below are two statements, one is labelled as **Assertion A** and the other is labelled as **Reason R**

Assertion A: Global emissions of carbon dioxide stagnated during the years 2014-2016

Reason R: Strong energy efficiency improvement measures and low carbon technologies were deployed during 2014-2016

In light of the above statements, choose the **most appropriate** answer from the options given below

1. Both **A** and **R** are correct and **R** is the correct explanation of **A**
2. Both **A** and **R** are correct but **R** is **NOT** the correct explanation of **A**
3. **A** is correct but **R** is not correct
4. **A** is not correct but **R** is correct

Options :

21052935173. 1

21052935174. 2

21052935175. 3

21052935176. 4

Question Number : 44 Question Id : 2105298958 Question Type : MCQ Option Shuffling : No Is Question Mandatory : No Calculator : None Response Time : N.A Think Time : N.A Minimum Instruction Time : 0

Correct Marks : 2 Wrong Marks : 0

नीचे दो कथन दिए गए हैं : एक को अभिकथन (A) और दूसरे को तर्क (R) कहा गया है :

अभिकथन (A) : कार्बन डाई आक्साइड का सार्वभौमिक उत्सर्जन वर्ष 2014 - 2016 के दौरान स्थिर था।

तर्क (R) : 2014 - 2016 के दौरान ऊर्जा दक्षता सुधार उपाय और निम्न कार्बन तकनीकियाँ मजबूती से परिनियोजित हुईं ।

उपर्युक्त कथनों के आलोक में निम्नांकित विकल्पों में से सर्वाधिक उपयुक्त उत्तर चुनें :

1. (A) और (R) दोनों सही हैं और (R), (A) की सही व्याख्या है।
2. (A) और (R) दोनों सही हैं और (R), (A) की सही व्याख्या नहीं है।
3. (A) सही है परन्तु (R) सही नहीं है।
4. (A) सही नहीं है परन्तु (R) सही है।

Options :

21052935173. 1

21052935174. 2

21052935175. 3

21052935176. 4

Question Number : 45 Question Id : 2105298959 Question Type : MCQ Option Shuffling : No Is Question Mandatory : No Calculator : None Response Time : N.A Think Time : N.A Minimum Instruction Time : 0

Correct Marks : 2 Wrong Marks : 0

A predatory journal is the one whose publishers

1. Publish for a fee with substandard or no peer reviewing
2. The publishers of journals have acquired the publishers of journals in similar disciplinary domains
3. Publish without a fee but with proper reviewing
4. Insist on charging a fee for publishing after the manuscript has been accepted for publication with proper reviewing and editing

Options :

21052935177. 1

21052935178. 2

21052935179. 3

21052935180. 4

Question Number : 45 Question Id : 2105298959 Question Type : MCQ Option Shuffling : No Is Question Mandatory : No Calculator : None Response Time : N.A Think Time : N.A Minimum Instruction Time : 0

Correct Marks : 2 Wrong Marks : 0

प्रीडेटरी जर्नल वह है जिसका प्रकाशक :

1. अव-मानक अथवा बिना पीयर रिव्यू के, शुल्क के लिए प्रकाशित करता है
2. समान अनुशासनिक क्षेत्र की पत्रिकाओं के प्रकाशकों को उपार्जित कर लिया है।
3. बिना शुल्क के किन्तु समुचित पुनरीक्षण के साथ प्रकाशित करता है।
4. समुचित पुनरीक्षण और संपादन के साथ प्रकाशन हेतु पांडुलिपि की स्वीकार्यता के बाद प्रकाशन हेतु शुल्क के लिए आग्रह करता है।

Options :

21052935177. 1

21052935178. 2

21052935179. 3

21052935180. 4

Sub-Section Number :

3

Sub-Section Id :

210529344

Question Shuffling Allowed :

Yes

**Question Id : 2105298960 Question Type : COMPREHENSION Sub Question Shuffling Allowed :
Yes Group Comprehension Questions : No Question Pattern Type : NonMatrix Calculator : None
Response Time : N.A Think Time : N.A Minimum Instruction Time : 0**

Question Numbers : (46 to 50)

Question Label : Comprehension

Read the given passage carefully and answer the questions that follow

The ceremonial use of slogans and catchwords in educational discussions raises the suspicion of a tenuous linkage between thought and action. As stock phrases multiply and the talk begins to take on an idealistic ring, the wary listener might well begin to wonder whether the lip service paid to these concepts is connected with what actually goes on in classrooms. It is difficult in this day and age to be opposed to democracy, creativity, and innovation in education, but how are these attractive words related to the more mundane business of teaching practice? The answer, of course, is that the two are often not related - a fact that accounts for one of the most frequently recurring complaints among today's educators: the all-too-obvious gap between theory (i.e., educational talk) on the one hand and practice on the other.

The dissonance between what teachers say, or at least what their leaders say, and what they do takes many forms and has several important consequences. For some, it lays the groundwork for the development of a cynical outlook towards the admonitions of idealists and the advocates of new and supposedly revolutionary practices. This cynicism, which grows out of a prior sense of disillusionment, strikes many young teachers as they begin to appreciate the unrealistic quality of several of the expectations aroused during the period of their professional training. Teaching as actually experienced and as described in textbooks and college courses often turns out to be quite different states of affairs. The result is that college instructors of education and other outsiders begin to be looked upon with suspicion by many practitioners. Even the testimony of fellow teachers may be viewed suspiciously when it conflicts with the listener's own experience in the classroom.

Sub questions

Question Number : 46 Question Id : 2105298961 Question Type : MCQ Option Shuffling : No Is Question Mandatory : No Calculator : None Response Time : N.A Think Time : N.A Minimum Instruction Time : 0

Correct Marks : 2 Wrong Marks : 0

The use of stock phrases in educational discussions has tended to reveal

1. The linkage between thought and action
2. The difference between saying and doing in classroom contexts
3. The ceremonial importance of slogans
4. The idealistic ring of talks

Options :

- 21052935181. 1
- 21052935182. 2
- 21052935183. 3
- 21052935184. 4

Question Number : 47 Question Id : 2105298962 Question Type : MCQ Option Shuffling : No Is Question Mandatory : No Calculator : None Response Time : N.A Think Time : N.A Minimum

Instruction Time : 0

Correct Marks : 2 Wrong Marks : 0

How are the idealistic concepts related to the routine practices in education?

1. They intertwine theory and practice
2. They make classroom teaching innovative
3. They make the business of education highly profitable
4. They lead to the identification of gap between theory and practice

Options :

21052935185. 1

21052935186. 2

21052935187. 3

21052935188. 4

Question Number : 48 Question Id : 2105298963 Question Type : MCQ Option Shuffling : No Is Question Mandatory : No Calculator : None Response Time : N.A Think Time : N.A Minimum Instruction Time : 0

Correct Marks : 2 Wrong Marks : 0

What is the sequel of lack of congruence between saying and doing as evident in teacher behavior?

1. Opposition to revolutionary practices
2. Lays ground for frequent complaints
3. Emergence of disillusionment among teachers
4. Support to the admonition of idealists

Options :

21052935189. 1

21052935190. 2

21052935191. 3

21052935192. 4

Question Number : 49 Question Id : 2105298964 Question Type : MCQ Option Shuffling : No Is Question Mandatory : No Calculator : None Response Time : N.A Think Time : N.A Minimum Instruction Time : 0

Correct Marks : 2 Wrong Marks : 0

Why do young teachers appreciate the unrealistic quality of expectations?

1. Because of the cynical attitude among teachers
2. Because of the testimonial given by fellow teachers
3. Because of their professional training
4. Because of their own experience in teaching

Options :

21052935193. 1

21052935194. 2

21052935195. 3

21052935196. 4

Question Number : 50 Question Id : 2105298965 Question Type : MCQ Option Shuffling : No Is Question Mandatory : No Calculator : None Response Time : N.A Think Time : N.A Minimum Instruction Time : 0

Correct Marks : 2 Wrong Marks : 0

The passage analyses

1. The linkage between language and discussions
2. The schism between theory and actual practice of teaching
3. The need to the use of high brow language in educational discussions
4. The importance of idealism in education

Options :

21052935197. 1

21052935198. 2

21052935199. 3

21052935200. 4

Question Id : 2105298960 Question Type : COMPREHENSION Sub Question Shuffling Allowed : Yes Group Comprehension Questions : No Question Pattern Type : NonMatrix Calculator : None Response Time : N.A Think Time : N.A Minimum Instruction Time : 0

Question Numbers : (46 to 50)

Question Label : Comprehension

नीचे दिए गए गद्यांश को पढ़िए और प्रश्नों के उत्तर दीजिए :

शैक्षिक परिचर्याओं में मुहावरेदार पदों एवं नारों का औपचारिक अनुप्रयोग इस बात के बारे में संदेह पैदा करता है कि चिंतन एवं कार्य में दुर्बल संबंध है। जैसे-जैसे आम प्रचलित शब्दों में अभिवृद्धि होती है तथा बातचीत में एक आदर्शवादी पुट देखने को मिलता है, एक सजग श्रोता यह आश्चर्य करने लग सकता है कि इन शब्दों के बारे में जो सतही प्रचलन प्राप्त है क्या वे यह बता पाते हैं कि कक्षागत परिवेश की वास्तविकता क्या है। आज के युग एवं काल में शिक्षा में लोकतंत्र, सृजनशीलता एवं नवाचार के विरुद्ध जाना कठिन है। तथापि, ये आकर्षक पद शिक्षण व्यवहार में आम रूप से प्रचलित क्रियाओं के कितने सही परिसूचक हैं।

निस्संदेह, ये दोनों प्रायः संबंधित नहीं हैं - एक ऐसी वास्तविकता जिसके बारे में शिक्षा शास्त्री प्रायः शिकायती मुद्रा में होते हैं तथा सिद्धांत एवं व्यवहार में स्पष्टतः परिलक्षित पृथकत्व देखने को मिलता है। जो शिक्षक कहते हैं अथवा उनके नेता जो कहते हैं तथा वे जो करते हैं इसमें पायी जानेवाली विसंगति कई रूपों में अभिव्यक्त होती है तथा कई महत्वपूर्ण परिणामों की ओर ले जाती है। कतिपय लोगों के लिए यह आदर्शवादी प्रतिपत्तियों एवं अभिनव तथा क्रांतिकारी व्यवहारों के समर्थकों के प्रति एक आलोचनात्मक दृष्टि विकसित करने की आधारशिला विकसित कर देती है। पूर्व में अनुभूत मोहभंग से जनित यह निराशावादिता अधिकतर नए शिक्षकों पर अपनी पकड़ बना लेती है जब वे इस बात को महसूस करते हैं कि व्यावसायिक प्रशिक्षण की अवधि में प्राप्त अनुभवों एवं उम्मीदों की गुणवत्ता यथार्थ से परे है। पाठ्य - पुस्तकों एवं महाविद्यालयों के पाठ्यक्रमों में वर्णित एवं अनुभूत शिक्षण दो विपरीत पहलू बन जाते हैं। परिणामस्वरूप शिक्षाशास्त्र के अनुदेशन एवं अन्य बाहरी लोगों को अभ्यासकर्त्ताओं द्वारा संदेह की दृष्टि से देखा जाने लग जाता है। सहयोगी शिक्षकों द्वारा दिए गए प्रमाण भी संदेह के घेरे में देखे जाते हैं जब यह कक्षा में ऐसा सुननेवालों के अनुभव के साथ बेमेल पाये जाते हैं।

Sub questions

Question Number : 46 Question Id : 2105298961 Question Type : MCQ Option Shuffling : No Is Question Mandatory : No Calculator : None Response Time : N.A Think Time : N.A Minimum

Instruction Time : 0

Correct Marks : 2 Wrong Marks : 0

शैक्षणिक चर्चाओं में आम प्रचलित मुहावरों के प्रयोग की प्रवृत्ति निम्नलिखित में से क्या उद्घाटित करने की रही है ?

1. विचार और कार्य के बीच संबंध
2. कक्षागत परिवेश में कही जा रही बात और किए जा रहे कार्य के बीच का अंतर
3. नारों का रैतिक महत्त्व
4. चर्चाओं में आदर्शवादिता का पुट

Options :

21052935181. 1

21052935182. 2

21052935183. 3

21052935184. 4

Question Number : 47 Question Id : 2105298962 Question Type : MCQ Option Shuffling : No Is Question Mandatory : No Calculator : None Response Time : N.A Think Time : N.A Minimum Instruction Time : 0

Correct Marks : 2 Wrong Marks : 0

आदर्शवादी अवधारणाएं शिक्षा में नैत्य व्यवहार से किस प्रकार से जुड़ी हैं ?

1. ये सिद्धांत और व्यवहार को आपस में जोड़ती हैं।
2. ये कक्षागत शिक्षण को नवोन्मेषी बनाती हैं।
3. ये शिक्षा व्यवसाय को काफी लाभकारी बनाती हैं।
4. ये सिद्धांत और व्यवहार के बीच के अंतर का पहचान करवाती हैं।

Options :

21052935185. 1

21052935186. 2

21052935187. 3

21052935188. 4

Question Number : 48 Question Id : 2105298963 Question Type : MCQ Option Shuffling : No Is Question Mandatory : No Calculator : None Response Time : N.A Think Time : N.A Minimum Instruction Time : 0

Correct Marks : 2 Wrong Marks : 0

शिक्षण व्यवहार में परिलक्षित कथनी और करनी के बीच सामंजस्य की कमी का क्या परिणाम होता है ?

1. क्रांतिकारी व्यवहारों का विरोध।
2. बारंबार शिकायत की बुनियाद पड़ती है।
3. शिक्षकों में मोहभंग की स्थिति पैदा होती है।
4. आदर्शवादियों की भर्त्सना को समर्थन

Options :

21052935189. 1

21052935190. 2

21052935191. 3

21052935192. 4

Question Number : 49 Question Id : 2105298964 Question Type : MCQ Option Shuffling : No Is Question Mandatory : No Calculator : None Response Time : N.A Think Time : N.A Minimum Instruction Time : 0

Correct Marks : 2 Wrong Marks : 0

नए शिक्षक उम्मीदों की अवास्तविक गुणवत्ता की प्रशंसा क्यों करते हैं ?

1. शिक्षकों के बीच दोषदर्शी प्रवृत्ति के कारण
2. सहयोगी शिक्षकों द्वारा दिए गए प्रमाणक के कारण
3. अपने व्यावसायिक प्रशिक्षण के कारण
4. शिक्षण में अपने अनुभव के कारण

Options :

21052935193. 1

21052935194. 2

21052935195. 3

21052935196. 4

Question Number : 50 Question Id : 2105298965 Question Type : MCQ Option Shuffling : No Is Question Mandatory : No Calculator : None Response Time : N.A Think Time : N.A Minimum Instruction Time : 0

Correct Marks : 2 Wrong Marks : 0

गद्यांश में किसका विश्लेषण किया गया है ?

1. भाषा और परिचर्चा के बीच संबंध
2. शिक्षण के सिद्धांत और वास्तविक व्यवहार के बीच विच्छेद
3. शैक्षणिक चर्चाओं में उच्च स्तर की भाषा के प्रयोग की आवश्यकता
4. शिक्षा में आदर्शवाद का महत्त्व

Options :

21052935197. 1

21052935198. 2

21052935199. 3

21052935200. 4

PART II Economics

Section Id :	210529110
Section Number :	2
Section type :	Online
Mandatory or Optional :	Mandatory
Number of Questions :	92
Number of Questions to be attempted :	92
Section Marks :	200
Enable Mark as Answered Mark for Review and Clear Response :	Yes
Maximum Instruction Time :	0
Sub-Section Number :	1
Sub-Section Id :	210529345

Question Shuffling Allowed :

Yes

Question Number : 51 Question Id : 2105298966 Question Type : MCQ Option Shuffling : No Is Question Mandatory : No Calculator : None Response Time : N.A Think Time : N.A Minimum Instruction Time : 0

Correct Marks : 2 Wrong Marks : 0

Given below are two statements

Statement I: Learning curve effect is related to a firm's long-run average cost curve

Statement II: A swapped allocation is one that is Pareto efficient as well as an equitable allocation

In light of the above statements, choose the **correct** answer from the options given below

1. Both Statement I and Statement II are true
2. Both Statement I and Statement II are false
3. Statement I is correct but Statement II is false
4. Statement I is incorrect but Statement II is true

Options :

21052935201. 1

21052935202. 2

21052935203. 3

21052935204. 4

Question Number : 51 Question Id : 2105298966 Question Type : MCQ Option Shuffling : No Is Question Mandatory : No Calculator : None Response Time : N.A Think Time : N.A Minimum Instruction Time : 0

Correct Marks : 2 Wrong Marks : 0

नीचे दो कथन दिए गए हैं :

कथन-I : अधिगम वक्र प्रभाव फर्म के दीर्घावधिक औसत लागत वक्र से संबंधित है।

कथन-II : आपस में परिवर्तित (स्वैपड) आबंटन ऐसा आबंटन है जो पैरेटो सक्षम होने साथ - साथ साम्य (इक्विटेबल) आबंटन है।

उपर्युक्त कथनों के आलोक में निम्नांकित विकल्पों में से सही उत्तर चुनें :

1. कथन I और II दोनों सही हैं।
2. कथन I और II दोनों गलत हैं।
3. कथन-I सत्य है, किन्तु कथन-II गलत है।
4. कथन-I असत्य है, किन्तु कथन-II सही है।

Options :

21052935201. 1

21052935202. 2

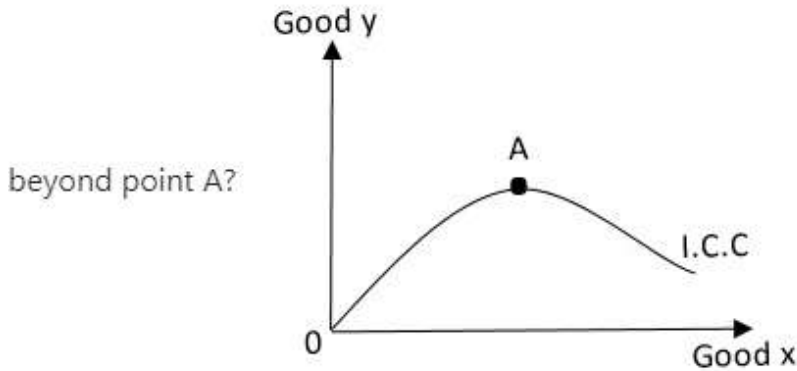
21052935203. 3

21052935204. 4

Question Number : 52 Question Id : 2105298967 Question Type : MCQ Option Shuffling : No Is Question Mandatory : No Calculator : None Response Time : N.A Think Time : N.A Minimum Instruction Time : 0

Correct Marks : 2 Wrong Marks : 0

For the given Income Consumption curve in the diagram, which one of the following is correct,



1. Good x is inferior and Good y is normal
2. Good y is inferior and Good x is normal
3. Good x and Good y are normal
4. Good x and Good y are inferior

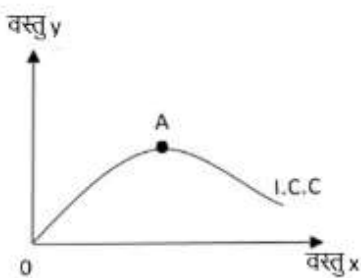
Options :

21052935205. 1
21052935206. 2
21052935207. 3
21052935208. 4

Question Number : 52 Question Id : 2105298967 Question Type : MCQ Option Shuffling : No Is Question Mandatory : No Calculator : None Response Time : N.A Think Time : N.A Minimum Instruction Time : 0

Correct Marks : 2 Wrong Marks : 0

आरेख में दिए गए आय - खपत वक्र के संबंध में निम्न में से कौन सही है, A बिंदु के पश्चात



1. वस्तु x घटिया तथा वस्तु y सामान्य वस्तु है।
2. वस्तु y घटिया तथा वस्तु x सामान्य है।
3. वस्तु x और वस्तु y सामान्य वस्तु हैं।
4. वस्तु x और वस्तु y घटिया वस्तुएं हैं।

Options :

21052935205. 1
21052935206. 2
21052935207. 3

Question Number : 53 Question Id : 2105298968 Question Type : MCQ Option Shuffling : No Is Question Mandatory : No Calculator : None Response Time : N.A Think Time : N.A Minimum Instruction Time : 0

Correct Marks : 2 Wrong Marks : 0

Match **List I** with **List II**

List I	List II
A. Effectiveness of private market in dealing with externalities	I. Laffer curve
B. Relationship between increase in tax rate and tax revenue	II. Deadweight Loss
C. Dominant strategy	III. Coase Theorem
D. Controlling prices through effective price ceiling and a price floor	IV. Game Theory

Choose the **correct** answer from the options given below:

1. A - III, B - I, C - IV, D - II
2. A - IV, B - I, C - II, D - III
3. A - I, B - III, C - II, D - IV
4. A - III, B - I, C - II, D - IV

Options :

21052935209. 1
21052935210. 2
21052935211. 3
21052935212. 4

Question Number : 53 Question Id : 2105298968 Question Type : MCQ Option Shuffling : No Is Question Mandatory : No Calculator : None Response Time : N.A Think Time : N.A Minimum Instruction Time : 0

Correct Marks : 2 Wrong Marks : 0

सूची-I को सूची-II के साथ सुमेलित कीजिए :

सूची-I	सूची-II
A. बाह्य कारकों से निपटने में निजी बाजार की प्रभाविकता	I. लैफर वक्र
B. कर - आकार में वृद्धि और कर राजस्व के बीच संबंध	II. मृत भार हानि
C. प्रबल रणनीति	III. कोस प्रमेय
D. प्रभावी मूल्य अवसीमन तथा मूल्य सतह के माध्यम से मूल्य नियंत्रण	IV. गेम का सिद्धांत

नीचे दिए गए विकल्पों में से सही उत्तर चुनिए :

1. A - III, B - I, C - IV, D - II
2. A - IV, B - I, C - II, D - III
3. A - I, B - III, C - II, D - IV
4. A - III, B - I, C - II, D - IV

Options :

- 21052935209. 1
- 21052935210. 2
- 21052935211. 3
- 21052935212. 4

Question Number : 54 Question Id : 2105298969 Question Type : MCQ Option Shuffling : No Is Question Mandatory : No Calculator : None Response Time : N.A Think Time : N.A Minimum Instruction Time : 0

Correct Marks : 2 Wrong Marks : 0

For the production function, $Q = AL^\alpha K^\beta$:

- A. The Coefficient A shows managerial efficiency
- B. If $\alpha + \beta > 1$ then the production function exhibits increasing returns to scale
- C. Marginal Rate of Technical Substitution of L for K is given by $\frac{\beta K}{\alpha L}$
- D. The Marginal Product of Capital is given by $\beta \frac{Q}{K}$

Choose the **correct** answer from the options given below:

- 1. A, B and C only
- 2. A, B and D only
- 3. A, C and D only
- 4. A, B, C and D only

Options :

- 21052935213. 1
- 21052935214. 2
- 21052935215. 3
- 21052935216. 4

Question Number : 54 Question Id : 2105298969 Question Type : MCQ Option Shuffling : No Is Question Mandatory : No Calculator : None Response Time : N.A Think Time : N.A Minimum Instruction Time : 0

Correct Marks : 2 Wrong Marks : 0

उत्पादन कार्य के लिए $Q = AL^\alpha K^\beta$, हो, तो सही विकल्प है -

- A. गुणांक A प्रबंधकीय क्षमता दर्शाता है।
- B. यदि $\alpha + \beta > 1$ है, तो उत्पादन प्रकार्य प्रमाप हेतु वृद्धिकारी प्रतिफलों को प्रदर्शित करता है।
- C. K के लिए एल (L) के तकनीकी प्रतिस्थापना का सीमांत दर $\frac{\beta K}{\alpha L}$ द्वारा दिया जाता है।
- D. पूंजी का सीमांतक उत्पाद द्वारा $\beta \frac{Q}{K}$ द्वारा

नीचे दिए गए विकल्पों में से सही उत्तर चुनिये :

- 1. केवल A, B और C
- 2. केवल A, B और D
- 3. केवल A, C और D
- 4. A, B, C और D

Options :

- 21052935213. 1
- 21052935214. 2
- 21052935215. 3
- 21052935216. 4

Question Number : 55 Question Id : 2105298970 Question Type : MCQ Option Shuffling : No Is Question Mandatory : No Calculator : None Response Time : N.A Think Time : N.A Minimum Instruction Time : 0

Correct Marks : 2 Wrong Marks : 0

Presence of asymmetric information in the market causes which of the following?

- A. Adverse selection
- B. Marginal benefits of an additional unit of resources diminish with an increasing number of unit of resources
- C. Efficiency wages
- D. Principal-Agent problem

Choose the **correct** answer from the options given below:

- 1. A, B and D only
- 2. B, C and D only
- 3. A and D only
- 4. A and C only

Options :

- 21052935217. 1
- 21052935218. 2
- 21052935219. 3
- 21052935220. 4

Question Number : 55 Question Id : 2105298970 Question Type : MCQ Option Shuffling : No Is Question Mandatory : No Calculator : None Response Time : N.A Think Time : N.A Minimum Instruction Time : 0

Correct Marks : 2 Wrong Marks : 0

बाजार में असमम्यतिय सूचना की उपस्थिति से निम्नलिखित होता है -

- A. नकारात्मक चयन
- B. संसाधनों के एक अतिरिक्त इकाई के सीमान्त लाभ में कमी आती है जैसे जैसे संसाधनों की इकाई बढ़ाई जाती है।
- C. अक्षमता मजदूरी
- D. प्रधान - अभिकर्ता समस्या

नीचे दिए गए विकल्पों में से सही उत्तर चुनें :

1. केवल A, B और D
2. केवल B, C और D
3. केवल A और D
4. केवल A और C

Options :

- 21052935217. 1
- 21052935218. 2
- 21052935219. 3
- 21052935220. 4

Question Number : 56 Question Id : 2105298971 Question Type : MCQ Option Shuffling : No Is Question Mandatory : No Calculator : None Response Time : N.A Think Time : N.A Minimum Instruction Time : 0

Correct Marks : 2 Wrong Marks : 0

The solution of the following game

		Player B		
		B ₁	B ₂	B ₃
Player A	A ₁	2	4	2
	A ₂	1	-5	-4
	A ₃	2	6	-2

is given by

1. Value of game = 2. Best strategy for Players A and B are (A₁, B₁) respectively
2. Value of game = 2. Best strategy for Players A and B are (A₁, B₁) or (A₃, B₁) or (A₁, B₃) respectively
3. Value of game = 2. Best strategy for Players A and B are (A₃, B₁) respectively
4. Value of game = 2. Best strategy for Players A and B are (A₁, B₃) respectively

Options :

21052935221. 1
 21052935222. 2
 21052935223. 3
 21052935224. 4

Question Number : 56 Question Id : 2105298971 Question Type : MCQ Option Shuffling : No Is Question Mandatory : No Calculator : None Response Time : N.A Think Time : N.A Minimum Instruction Time : 0

Correct Marks : 2 Wrong Marks : 0

निम्नलिखित खेल

		खिलाड़ी B		
		B ₁	B ₂	B ₃
खिलाड़ी A	A ₁	2	4	2
	A ₂	1	-5	-4
	A ₃	2	6	-2

का हल है -

1. खेल का मूल्य = 2, खिलाड़ी A और B के लिए सर्वोत्तम नीति क्रमशः (A₁, B₁) है।
2. खेल का मूल्य = 2, खिलाड़ी A और B के लिए सर्वोत्तम नीति क्रमशः (A₁, B₁) अथवा (A₃, B₁) अथवा (A₁, B₃) है।
3. खेल का मूल्य = 2, खिलाड़ी A और B के लिए सर्वोत्तम नीति क्रमशः (A₃, B₁) है।
4. खेल का मूल्य = 2, खिलाड़ी A और B के लिए सर्वोत्तम नीति क्रमशः (A₁, B₃) है।

Options :

21052935221. 1
 21052935222. 2
 21052935223. 3
 21052935224. 4

Question Number : 57 Question Id : 2105298972 Question Type : MCQ Option Shuffling : No Is Question Mandatory : No Calculator : None Response Time : N.A Think Time : N.A Minimum Instruction Time : 0

Correct Marks : 2 Wrong Marks : 0

Market failure is caused due to the presence of

- A. Poverty
- B. Externalities
- C. Market power
- D. Private goods

Choose the **correct** answer from the options given below:

- 1. A and B only
- 2. B and C only
- 3. B, C and D only
- 4. B and C only

Options :

- 21052935225. 1
- 21052935226. 2
- 21052935227. 3
- 21052935228. 4

Note: For this question, ambiguity is found in question/answer. Candidate will get full marks for this question if any of the correct options are chosen.

Question Number : 57 Question Id : 2105298972 Question Type : MCQ Option Shuffling : No Is Question Mandatory : No Calculator : None Response Time : N.A Think Time : N.A Minimum Instruction Time : 0

Correct Marks : 2 Wrong Marks : 0

बाजार की असफलता किसकी उपस्थिति के कारण होती है -

- A. गरीबी
- B. बाढ़ताएँ से
- C. बाजार शक्ति
- D. निजी वस्तुएँ से

नीचे दिए गए विकल्पों में से सही उत्तर चुनिये :

- 1. केवल A और B
- 2. केवल B और D
- 3. केवल B, C और D
- 4. केवल B और C

Options :

- 21052935225. 1
- 21052935226. 2
- 21052935227. 3
- 21052935228. 4

Note: For this question, ambiguity is found in question/answer. Candidate will get full marks for this question if any of the correct options are chosen.

Question Number : 58 Question Id : 2105298973 Question Type : MCQ Option Shuffling : No Is Question Mandatory : No Calculator : None Response Time : N.A Think Time : N.A Minimum Instruction Time : 0

Correct Marks : 2 Wrong Marks : 0

Match **List I** with **List II**

List I	List II
A. Chamberlin	I. Small group model
B. Sweezy	II. Kinked demand curve
C. Stackelberg	III. Price leadership model
D. Fellner	IV. Reaction curves

Choose the **correct** answer from the options given below:

1. A - I, B - III, C - IV, D - II
2. A - II, B - I, C - III, D - IV
3. A - II, B - I, C - IV, D - III
4. A - I, B - II, C - IV, D - III

Options :

21052935229. 1
21052935230. 2
21052935231. 3
21052935232. 4

Question Number : 58 Question Id : 2105298973 Question Type : MCQ Option Shuffling : No Is Question Mandatory : No Calculator : None Response Time : N.A Think Time : N.A Minimum Instruction Time : 0

Correct Marks : 2 Wrong Marks : 0

सूची-I को सूची-II के साथ सुमेलित कीजिए :

सूची-I	सूची-II
A. चैम्बरलिन	I. लघु समूह मॉडल
B. स्वीज़ि	II. किंक्ड मांग वक्र
C. स्टैक्लबर्ग	III. मूल्य नेतृत्व मॉडल
D. फेल्लर	IV. प्रतिक्रिया वक्र

नीचे दिए गए विकल्पों में से सही उत्तर चुनिए :

1. A - I, B - III, C - IV, D - II
2. A - II, B - I, C - III, D - IV
3. A - II, B - I, C - IV, D - III
4. A - I, B - II, C - IV, D - III

Options :

21052935229. 1

21052935230. 2

21052935231. 3

21052935232. 4

Question Number : 59 Question Id : 2105298974 Question Type : MCQ Option Shuffling : No Is Question Mandatory : No Calculator : None Response Time : N.A Think Time : N.A Minimum Instruction Time : 0

Correct Marks : 2 Wrong Marks : 0

Maximum Social Welfare is guaranteed where a competitive firm exhibits the following condition [where $MRPT_{xy}$ is Marginal Rate of Product Transformation of x for y]

$$1. MRPT_{xy} = \frac{\text{Price of } x (P_x)}{\text{Price of } y (P_y)} = \frac{\text{Marginal Cost of } x (MC_x)}{\text{Marginal Cost of } y (MC_y)}$$

$$2. MRPT_{xy} = \frac{P_x}{P_y} = \frac{\text{Total Cost of } x}{\text{Total Cost of } y}$$

$$3. MRPT_{xy} = \frac{P_x}{P_y} = \frac{\text{Average Variable Cost of } x}{\text{Average Variable Cost of } y}$$

$$4. MRPT_{xy} = \frac{P_x}{P_y} = \frac{\text{Total variable Cost of } x}{\text{Total variable Cost of } y}$$

Options :

21052935233. 1

21052935234. 2

21052935235. 3

21052935236. 4

Question Number : 59 Question Id : 2105298974 Question Type : MCQ Option Shuffling : No Is Question Mandatory : No Calculator : None Response Time : N.A Think Time : N.A Minimum Instruction Time : 0

Correct Marks : 2 Wrong Marks : 0

अधिकतम सामाजिक कल्याण की गारंटी होती है, जहाँ प्रतिस्पर्धी कंपनी निम्नलिखित शर्तों को प्रदर्शित करता है :

y के लिए x के उत्पाद परिवर्तन की सीमान्त दर ($MRPT_{xy}$) :

$$1. MRPT_{xy} = \frac{x \text{ का मूल्य } (P_x)}{y \text{ का मूल्य } (P_y)} = \frac{x \text{ का सीमांत लागत } (MC_x)}{y \text{ का सीमांत लागत } (MC_y)}$$

$$2. MRPT_{xy} = \frac{x \text{ का कुल लागत}}{y \text{ का कुल लागत}}$$

$$3. MRPT_{xy} = \frac{P_x}{P_y} = \frac{x \text{ का औसत परिवर्तनशील लागत}}{y \text{ का औसत परिवर्तनशील लागत}}$$

$$4. MRPT_{xy} = \frac{P_x}{P_y} = \frac{x \text{ का कुल परिवर्तनशील लागत}}{y \text{ का कुल परिवर्तनशील लागत}}$$

Options :

21052935233. 1

21052935234. 2

21052935235. 3

21052935236. 4

Question Number : 60 Question Id : 2105298975 Question Type : MCQ Option Shuffling : No Is Question Mandatory : No Calculator : None Response Time : N.A Think Time : N.A Minimum

Instruction Time : 0

Correct Marks : 2 Wrong Marks : 0

Given below are two statements, one is labelled as **Assertion A** and the other is labelled as **Reason R**

Assertion A: Compared to a certain point on the Contract curve, a point above the Contract curve is more efficient

Reason R: The Contract curve represents the locus of points where the marginal rate of substitution between two goods is the same for both individuals

In light of the above statements, choose the **most appropriate** answer from the options given below

1. Both **A** and **R** are correct and **R** is the correct explanation of **A**
2. Both **A** and **R** are correct but **R** is **NOT** the correct explanation of **A**
3. **A** is correct but **R** is not correct
4. **A** is not correct but **R** is correct

Options :

21052935237. 1

21052935238. 2

21052935239. 3

21052935240. 4

Question Number : 60 Question Id : 2105298975 Question Type : MCQ Option Shuffling : No Is Question Mandatory : No Calculator : None Response Time : N.A Think Time : N.A Minimum Instruction Time : 0

Correct Marks : 2 Wrong Marks : 0

नीचे दो कथन दिए गए हैं : एक को अभिकथन (A) और दूसरे को तर्क (R) कहा गया है :

अभिकथन (A) : किसी संकुचन वक्र के कतिपय बिंदु की तुलना में, संकुचन वक्र के ऊपर की बिंदु अधिक फलोत्पादक होता है।

तर्क (R) : संकुचन वक्र बिंदुओं के बिंदु पथ को निरूपित करता है, जहाँ दो वस्तुओं के बीच प्रतिस्थापन की सीमांत दर दोनों व्यक्तियों के लिए समान है।

उपर्युक्त कथनों के आलोक में निम्नांकित विकल्पों में से सर्वाधिक उपयुक्त उत्तर चुनें :

1. (A) और (R) दोनों सही हैं और (R), (A) की सही व्याख्या है।
2. (A) और (R) दोनों सही हैं और (R), (A) की सही व्याख्या नहीं है।
3. (A) सही है परन्तु (R) सही नहीं है।
4. (A) सही नहीं है परन्तु (R) सही है।

Options :

21052935237. 1

21052935238. 2

21052935239. 3

21052935240. 4

Question Number : 61 Question Id : 2105298976 Question Type : MCQ Option Shuffling : No Is Question Mandatory : No Calculator : None Response Time : N.A Think Time : N.A Minimum Instruction Time : 0

Correct Marks : 2 Wrong Marks : 0

A leftward shift in labour demand curve is caused by

1. Increase in wage rate
2. Decrease in wage rate
3. Increase in marginal productivity of labour
4. Decrease in marginal productivity of labour

Options :

- 21052935241. 1
- 21052935242. 2
- 21052935243. 3
- 21052935244. 4

Question Number : 61 Question Id : 2105298976 Question Type : MCQ Option Shuffling : No Is Question Mandatory : No Calculator : None Response Time : N.A Think Time : N.A Minimum Instruction Time : 0

Correct Marks : 2 Wrong Marks : 0

श्रम माँग वक्र में वामावर्ती विचलन किसके कारण होता है ?

1. मजदूरी दर में वृद्धि
2. मजदूरी दर में कमी
3. श्रम की सीमांत उत्पादकता में वृद्धि
4. श्रम की सीमांत उत्पादक में कमी

Options :

- 21052935241. 1
- 21052935242. 2
- 21052935243. 3
- 21052935244. 4

Question Number : 62 Question Id : 2105298977 Question Type : MCQ Option Shuffling : No Is Question Mandatory : No Calculator : None Response Time : N.A Think Time : N.A Minimum Instruction Time : 0

Correct Marks : 2 Wrong Marks : 0

Cross elasticity of demand of metro rides is 0.8 and total ridership per day is 1.5 Lakh. If price of bus rides rises by 5%, the change in total metro rides will be

1. 4000
2. 5000
3. 6000
4. 7500

Options :

- 21052935245. 1
- 21052935246. 2

21052935247. 3

21052935248. 4

Question Number : 62 Question Id : 2105298977 Question Type : MCQ Option Shuffling : No Is Question Mandatory : No Calculator : None Response Time : N.A Think Time : N.A Minimum Instruction Time : 0

Correct Marks : 2 Wrong Marks : 0

मेट्रो सवारी की माँग की तिरछी लोच 0.8 है और प्रतिदिन कुल सवारी 1.5 लाख है। यदि बस सवारी की कीमत 5% बढ़ती है, तो मेट्रो की कुल सवारी में कितना अंतर आएगा -

1. 4000
2. 5000
3. 6000
4. 7500

Options :

21052935245. 1

21052935246. 2

21052935247. 3

21052935248. 4

Question Number : 63 Question Id : 2105298978 Question Type : MCQ Option Shuffling : No Is Question Mandatory : No Calculator : None Response Time : N.A Think Time : N.A Minimum Instruction Time : 0

Correct Marks : 2 Wrong Marks : 0

Given below are two statements, one is labelled as **Assertion A** and the other is labelled as **Reason R**

Assertion A: High powered money is the source of all other forms of money that impact money supply

Reason R: Credit is created by commercial banks

In light of the above statements, choose the **most appropriate** answer from the options given below

1. Both **A** and **R** are correct and **R** is the correct explanation of **A**
2. Both **A** and **R** are correct but **R** is **NOT** the correct explanation of **A**
3. **A** is correct but **R** is not correct
4. **A** is not correct but **R** is correct

Options :

21052935249. 1

21052935250. 2

21052935251. 3

21052935252. 4

Question Number : 63 Question Id : 2105298978 Question Type : MCQ Option Shuffling : No Is Question Mandatory : No Calculator : None Response Time : N.A Think Time : N.A Minimum Instruction Time : 0

Correct Marks : 2 Wrong Marks : 0

नीचे दो कथन दिए गए हैं : एक को अभिकथन (A) और दूसरे को तर्क (R) कहा गया है :

अभिकथन (A) : उच्च शक्ति प्राप्त मुद्रा (हाई पावर्ड मनी) दूसरे उन अन्य सभी प्रकार के मुद्रा का स्रोत है जो मुद्रा की आपूर्ति को प्रभावित करता है।

तर्क (R) : वाणिज्यिक बैंकों द्वारा ऋण का निर्माण होता है।

उपर्युक्त कथनों के आलोक में निम्नांकित विकल्पों में से सर्वाधिक उपयुक्त उत्तर चुनें :

1. (A) और (R) दोनों सही हैं और (R), (A) की सही व्याख्या है।
2. (A) और (R) दोनों सही हैं और (R), (A) की सही व्याख्या नहीं है।
3. (A) सही है परन्तु (R) सही नहीं है।
4. (A) सही नहीं है परन्तु (R) सही है।

Options :

21052935249. 1

21052935250. 2

21052935251. 3

21052935252. 4

Question Number : 64 Question Id : 2105298979 Question Type : MCQ Option Shuffling : No Is Question Mandatory : No Calculator : None Response Time : N.A Think Time : N.A Minimum Instruction Time : 0

Correct Marks : 2 Wrong Marks : 0

Absolute income hypothesis explains

1. Consumer behavior
2. Producer behavior
3. Inflation
4. Government expenditure

Options :

21052935253. 1

21052935254. 2

21052935255. 3

21052935256. 4

Question Number : 64 Question Id : 2105298979 Question Type : MCQ Option Shuffling : No Is Question Mandatory : No Calculator : None Response Time : N.A Think Time : N.A Minimum Instruction Time : 0

Correct Marks : 2 Wrong Marks : 0

निरपेक्ष (Absolute) आय की संकल्पना किसकी व्याख्या करता है :

1. उपभोक्ता व्यवहार
2. उत्पादक व्यवहार
3. मुद्रा स्फीति
4. सरकारी व्यय

Options :

21052935253. 1
21052935254. 2
21052935255. 3
21052935256. 4

Question Number : 65 Question Id : 2105298980 Question Type : MCQ Option Shuffling : No Is Question Mandatory : No Calculator : None Response Time : N.A Think Time : N.A Minimum Instruction Time : 0

Correct Marks : 2 Wrong Marks : 0

The cost of holding money by individuals

- A. Loss of real value of money due to deflation
- B. Foregone interest from savings
- C. Utility foregone by not buying goods and services
- D. Returns foregone by not holding other assets

Choose the **most appropriate** answer from the options given below:

1. B, C and D only
2. A, B and C only
3. A, B and D only
4. A, C and D only

Options :

21052935257. 1
21052935258. 2
21052935259. 3
21052935260. 4

Question Number : 65 Question Id : 2105298980 Question Type : MCQ Option Shuffling : No Is Question Mandatory : No Calculator : None Response Time : N.A Think Time : N.A Minimum Instruction Time : 0

Correct Marks : 2 Wrong Marks : 0

व्यक्तियों द्वारा मुद्रा धारिता (होल्डिंग मनी) की लागत है -

- A. मुद्रा अवस्फीति के कारण मुद्रा की वास्तविक कीमत की हानि
- B. बचत पर मिलने वाले ब्याज की हानि
- C. वस्तुओं और सेवाओं की खरीदारी नहीं करने के कारण उपयोगिता की हानि
- D. अन्य परिसम्पत्तियों को न रखने के कारण प्रतिफल का दावा छोड़ना

नीचे दिए गए विकल्पों में से सही उत्तर चुनिये :

- 1. केवल B, C, D
- 2. केवल A, B, C
- 3. केवल A, B, D
- 4. केवल A, C, D

Options :

- 21052935257. 1
- 21052935258. 2
- 21052935259. 3
- 21052935260. 4

Question Number : 66 Question Id : 2105298981 Question Type : MCQ Option Shuffling : No Is Question Mandatory : No Calculator : None Response Time : N.A Think Time : N.A Minimum Instruction Time : 0

Correct Marks : 2 Wrong Marks : 0

The government multiplier is given by (where $c = MPC$ and $t = tax\ rate$)

- 1. $\frac{1}{1 - (c - t)}$
- 2. $\frac{1}{(1 - c)t}$
- 3. $\frac{1}{1 - c - t}$
- 4. $\frac{1}{1 - c(1 - t)}$

Options :

- 21052935261. 1
- 21052935262. 2
- 21052935263. 3
- 21052935264. 4

Question Number : 66 Question Id : 2105298981 Question Type : MCQ Option Shuffling : No Is Question Mandatory : No Calculator : None Response Time : N.A Think Time : N.A Minimum Instruction Time : 0

Correct Marks : 2 Wrong Marks : 0

सरकारी गुणक निम्नलिखित में से कौन सा सही है (जहाँ c = उपभोग की सीमांत प्रवृत्ति, t = कर की दर)

1. $\frac{1}{1 - (c - t)}$

2. $\frac{1}{(1 - c)t}$

3. $\frac{1}{1 - c - t}$

4. $\frac{1}{1 - c(1 - t)}$

Options :

21052935261. 1

21052935262. 2

21052935263. 3

21052935264. 4

Question Number : 67 Question Id : 2105298982 Question Type : MCQ Option Shuffling : No Is Question Mandatory : No Calculator : None Response Time : N.A Think Time : N.A Minimum Instruction Time : 0

Correct Marks : 2 Wrong Marks : 0

Arrange the following in chronological order

A. Rational Expectation Doctrine

B. Keynesian Economics

C. Monetarism

D. Classical Economics

Choose the **correct** answer from the options given below

1. B, D, C, A

2. A, D, C, B

3. A, B, C, D

4. D, B, C, A

Options :

21052935265. 1

21052935266. 2

21052935267. 3

21052935268. 4

Question Number : 67 Question Id : 2105298982 Question Type : MCQ Option Shuffling : No Is Question Mandatory : No Calculator : None Response Time : N.A Think Time : N.A Minimum Instruction Time : 0

Correct Marks : 2 Wrong Marks : 0

निम्नलिखित को कालक्रमानुसार व्यवस्थित करें -

- A. विवेकी प्रत्याशा का सिद्धांत
- B. कैसीय का अर्थशास्त्र
- C. मुद्रावाद
- D. शास्त्रीय अर्थशास्त्र

नीचे दिए गए विकल्पों में से सही उत्तर चुनिये :

- 1. B, D, C, A
- 2. A, D, C, B
- 3. A, B, C, D
- 4. D, B, C, A

Options :

- 21052935265. 1
- 21052935266. 2
- 21052935267. 3
- 21052935268. 4

Question Number : 68 Question Id : 2105298983 Question Type : MCQ Option Shuffling : No Is Question Mandatory : No Calculator : None Response Time : N.A Think Time : N.A Minimum Instruction Time : 0

Correct Marks : 2 Wrong Marks : 0

IS and LM curve analysis explain

- A. Product market equilibrium
- B. Money market equilibrium
- C. Capital market equilibrium
- D. Foreign trade equilibrium

Choose the **correct** answer from the options given below:

- 1. A and C only
- 2. A and D only
- 3. A and B only
- 4. C and D only

Options :

- 21052935269. 1
- 21052935270. 2
- 21052935271. 3
- 21052935272. 4

Question Number : 68 Question Id : 2105298983 Question Type : MCQ Option Shuffling : No Is Question Mandatory : No Calculator : None Response Time : N.A Think Time : N.A Minimum Instruction Time : 0

Correct Marks : 2 Wrong Marks : 0

आई एस एण्ड एल एम विश्लेषण व्याख्या करता है -

- A. उत्पाद बाजार संतुलन
- B. मुद्रा बाजार संतुलन
- C. पूंजी बाजार संतुलन
- D. विदेशी व्यापार संतुलन

नीचे दिए गए विकल्पों में से सही उत्तर चुनिये :

1. केवल A और C
2. केवल A और D
3. केवल A और B
4. केवल C और D

Options :

- 21052935269. 1
- 21052935270. 2
- 21052935271. 3
- 21052935272. 4

Question Number : 69 Question Id : 2105298984 Question Type : MCQ Option Shuffling : No Is Question Mandatory : No Calculator : None Response Time : N.A Think Time : N.A Minimum Instruction Time : 0

Correct Marks : 2 Wrong Marks : 0

Which of the following situations represents an economic investment in the national income calculation?

- A. Buying a newly constructed house for self-occupation
- B. Buying of new shares
- C. Buying a new car by a publishing house for delivering books
- D. Buying a new car by a household

Choose the **correct** answer from the options given below:

1. A, B and C only
2. A, B, C and D only
3. A, C and D only
4. A and C only

Options :

- 21052935273. 1

21052935274. 2

21052935275. 3

21052935276. 4

Question Number : 69 Question Id : 2105298984 Question Type : MCQ Option Shuffling : No Is Question Mandatory : No Calculator : None Response Time : N.A Think Time : N.A Minimum Instruction Time : 0

Correct Marks : 2 Wrong Marks : 0

राष्ट्रीय आय की गणना में निम्नलिखित स्थितियों में से कौन सा आर्थिक निवेश है -

A. स्वयं के रहने हेतु एक नये निर्मित भवन की खरीद

B. नये शेयर की खरीद

C. पुस्तकों को गन्तव्य स्थान पर पहुँचाने के लिए एक पुस्तक प्रकाशक द्वारा एक नयी कार की खरीद

D. एक गृहस्थ द्वारा एक नयी कार की खरीद

नीचे दिए गए विकल्पों में से सही उत्तर चुनिये :

1. केवल A, B और C

2. A, B, C और D

3. केवल A, C और D

4. केवल A और C

Options :

21052935273. 1

21052935274. 2

21052935275. 3

21052935276. 4

Question Number : 70 Question Id : 2105298985 Question Type : MCQ Option Shuffling : No Is Question Mandatory : No Calculator : None Response Time : N.A Think Time : N.A Minimum Instruction Time : 0

Correct Marks : 2 Wrong Marks : 0

What is the value of the equilibrium level of income for the data given below for an economy?

$$c = 50 + 0.8 Y_d$$

$$t = 20\%$$

$$I = 100$$

$$G = 30$$

1. 400

2. 300

3. 500

4. 600

Options :

21052935277. 1
21052935278. 2
21052935279. 3
21052935280. 4

Question Number : 70 Question Id : 2105298985 Question Type : MCQ Option Shuffling : No Is Question Mandatory : No Calculator : None Response Time : N.A Think Time : N.A Minimum Instruction Time : 0

Correct Marks : 2 Wrong Marks : 0

एक अर्थव्यवस्था के लिए दिए गए आंकड़ों के अनुसार आय का संतुलन स्तर क्या है :

$$c = 50 + 0.8 Y_d$$

$$t = 20\%$$

$$I = 100$$

$$G = 30$$

1. 400
2. 300
3. 500
4. 600

Options :

21052935277. 1
21052935278. 2
21052935279. 3
21052935280. 4

Question Number : 71 Question Id : 2105298986 Question Type : MCQ Option Shuffling : No Is Question Mandatory : No Calculator : None Response Time : N.A Think Time : N.A Minimum Instruction Time : 0

Correct Marks : 2 Wrong Marks : 0

Labour force participation rate is given by

1. $\frac{\text{Labour force}}{\text{Total population}} \times 100$
2. $\frac{\text{No. of labour employed}}{\text{Labour force}} \times 100$
3. $\frac{\text{Labour force}}{\text{Adult population}} \times 100$
4. $\frac{\text{No. of labour employed}}{\text{Adult population}} \times 100$

Options :

21052935281. 1
21052935282. 2
21052935283. 3
21052935284. 4

Question Number : 71 Question Id : 2105298986 Question Type : MCQ Option Shuffling : No Is Question Mandatory : No Calculator : None Response Time : N.A Think Time : N.A Minimum Instruction Time : 0

Correct Marks : 2 Wrong Marks : 0

श्रम शक्ति भागीदारी दर प्रदर्शित होता है :

1. $\frac{\text{श्रम शक्ति}}{\text{कुल जनसंख्या}} \times 100$
2. $\frac{\text{रोजगार प्राप्त श्रमिकों की संख्या}}{\text{श्रम शक्ति}} \times 100$
3. $\frac{\text{श्रम शक्ति}}{\text{वयस्क जनसंख्या}} \times 100$
4. $\frac{\text{रोजगार प्राप्त श्रमिकों की संख्या}}{\text{वयस्क जनसंख्या}} \times 100$

Options :

21052935281. 1
21052935282. 2
21052935283. 3
21052935284. 4

Question Number : 72 Question Id : 2105298987 Question Type : MCQ Option Shuffling : No Is Question Mandatory : No Calculator : None Response Time : N.A Think Time : N.A Minimum Instruction Time : 0

Correct Marks : 2 Wrong Marks : 0

GDP expressed in terms of current prices is called

1. Real GDP
2. Net Domestic Product
3. Nominal GDP
4. Gross National Product

Options :

21052935285. 1
21052935286. 2
21052935287. 3
21052935288. 4

Question Number : 72 Question Id : 2105298987 Question Type : MCQ Option Shuffling : No Is Question Mandatory : No Calculator : None Response Time : N.A Think Time : N.A Minimum Instruction Time : 0

Correct Marks : 2 Wrong Marks : 0

वर्तमान मूल्यों के संदर्भ में व्यक्त सकल घरेलू उत्पाद (जीडीपी) कहलाता है -

1. वास्तविक जीडीपी
2. निवल घरेलू उत्पाद (एनडीपी)
3. प्राधिकृत (नोमिनल) जीडीपी
4. सकल राष्ट्रीय उत्पाद

Options :

21052935285. 1

21052935286. 2

21052935287. 3

21052935288. 4

Question Number : 73 Question Id : 2105298988 Question Type : MCQ Option Shuffling : No Is Question Mandatory : No Calculator : None Response Time : N.A Think Time : N.A Minimum Instruction Time : 0

Correct Marks : 2 Wrong Marks : 0

Which of the following equations represent national income identity?

A. $Y = C + I + X$

B. $Y = C + I + G + S$

C. $Y = C + I + G + (X - M)$

D. $Y = C + I + G + M$

Choose the **correct** answer from the options given below:

1. A only

2. C only

3. B, C and D only

4. A, B and D only

Options :

21052935289. 1

21052935290. 2

21052935291. 3

21052935292. 4

Question Number : 73 Question Id : 2105298988 Question Type : MCQ Option Shuffling : No Is Question Mandatory : No Calculator : None Response Time : N.A Think Time : N.A Minimum Instruction Time : 0

Correct Marks : 2 Wrong Marks : 0

निम्नलिखित समीकरणों में से कौन राष्ट्रीय आय की पहचान का प्रतिनिधित्व करता है -

A. $Y = C + I + X$

B. $Y = C + I + G + S$

C. $Y = C + I + G + (X - M)$

D. $Y = C + I + G + M$

नीचे दिए गए विकल्पों में से सही उत्तर चुनिए :

1. केवल A
2. केवल C
3. केवल B, C और D
4. केवल A, B और D

Options :

21052935289. 1
21052935290. 2
21052935291. 3
21052935292. 4

Question Number : 74 Question Id : 2105298989 Question Type : MCQ Option Shuffling : No Is Question Mandatory : No Calculator : None Response Time : N.A Think Time : N.A Minimum Instruction Time : 0

Correct Marks : 2 Wrong Marks : 0

Match **List I** with **List II**

List I	List II
A. Permanent Income Hypothesis	I. F. Modigliani
B. Relative Income Hypothesis	II. J. M. Keynes
C. Absolute Income Hypothesis	III. M. Friedman
D. Life Cycle Hypothesis	IV. J. Dusenberry

Choose the **correct** answer from the options given below:

1. A - II, B - III, C - IV, D - I
2. A - I, B - IV, C - III, D - II
3. A - III, B - II, C - I, D - IV
4. A - III, B - IV, C - II, D - I

Options :

21052935293. 1
21052935294. 2
21052935295. 3
21052935296. 4

Question Number : 74 Question Id : 2105298989 Question Type : MCQ Option Shuffling : No Is Question Mandatory : No Calculator : None Response Time : N.A Think Time : N.A Minimum Instruction Time : 0

Correct Marks : 2 Wrong Marks : 0

सूची-I को सूची-II के साथ सुमेलित कीजिए :

सूची-I	सूची-II
A. स्थायी आय की संकल्पना	I. एफ मोडिगलियानी
B. सापेक्ष आय की संकल्पना	II. जे.एम. केन्स
C. निरपेक्ष आय की संकल्पना	III. एम. फ्रायडमैन
D. जीवन चक्र की संकल्पना	IV. जे. ड्यूजेनबेरी

नीचे दिए गए विकल्पों में से सही उत्तर चुनिए :

1. A - II, B - III, C - IV, D - I
2. A - I, B - IV, C - III, D - II
3. A - III, B - II, C - I, D - IV
4. A - III, B - IV, C - II, D - I

Options :

21052935293. 1
21052935294. 2
21052935295. 3
21052935296. 4

Question Number : 75 Question Id : 2105298990 Question Type : MCQ Option Shuffling : No Is Question Mandatory : No Calculator : None Response Time : N.A Think Time : N.A Minimum Instruction Time : 0

Correct Marks : 2 Wrong Marks : 0

For any two equally likely, exhaustive and independent events A and B, $P(AB)$ will be equal to

1. 0
2. 0.25
3. 0.50
4. 1

Options :

21052935297. 1
21052935298. 2
21052935299. 3
21052935300. 4

Question Number : 75 Question Id : 2105298990 Question Type : MCQ Option Shuffling : No Is Question Mandatory : No Calculator : None Response Time : N.A Think Time : N.A Minimum Instruction Time : 0

Correct Marks : 2 Wrong Marks : 0

किन्हीं दो समान, संगत, वृहत्त एवं स्वतंत्र घटनाओं A और B के लिए $P(AB)$ किसके बराबर होगा ?

1. 0
2. 0.25
3. 0.50
4. 1

Options :

- 21052935297. 1
- 21052935298. 2
- 21052935299. 3
- 21052935300. 4

Question Number : 76 Question Id : 2105298991 Question Type : MCQ Option Shuffling : No Is Question Mandatory : No Calculator : None Response Time : N.A Think Time : N.A Minimum Instruction Time : 0

Correct Marks : 2 Wrong Marks : 0

What type of relationship exists between two variables, if all points on the scatter diagram appear to fall on a straight line going upward from left to right?

- 1. Positive correlation
- 2. Perfect positive correlation
- 3. Negative correlation
- 4. Perfect negative correlation

Options :

- 21052935301. 1
- 21052935302. 2
- 21052935303. 3
- 21052935304. 4

Question Number : 76 Question Id : 2105298991 Question Type : MCQ Option Shuffling : No Is Question Mandatory : No Calculator : None Response Time : N.A Think Time : N.A Minimum Instruction Time : 0

Correct Marks : 2 Wrong Marks : 0

दो परिवर्ती घटकों के बीच कौन-सा संबंध विद्यमान है, यदि प्रकीर्ण आरेख (स्कैटर डायग्राम) पर संगत सारे बिंदु बायीं से दायीं ओर ऊपर जाने पर एक सीधी रेखा पर प्रतीत होती हैं ?

- 1. सकारात्मक सहसंबंध
- 2. पूर्ण सकारात्मक सहसंबंध
- 3. नकारात्मक सहसंबंध
- 4. पूर्ण नकारात्मक सहसंबंध

Options :

- 21052935301. 1
- 21052935302. 2
- 21052935303. 3
- 21052935304. 4

Question Number : 77 Question Id : 2105298992 Question Type : MCQ Option Shuffling : No Is Question Mandatory : No Calculator : None Response Time : N.A Think Time : N.A Minimum Instruction Time : 0

Correct Marks : 2 Wrong Marks : 0

Given ' σ ' as the Standard Deviation of a given series and if to each and every observation of the series is added a constant 'k', then what will be the Standard Deviation of the new series?

1. $\sigma + k$
2. $\sigma - k$
3. σ
4. σk

Options :

21052935305. 1
21052935306. 2
21052935307. 3
21052935308. 4

Question Number : 77 Question Id : 2105298992 Question Type : MCQ Option Shuffling : No Is Question Mandatory : No Calculator : None Response Time : N.A Think Time : N.A Minimum Instruction Time : 0

Correct Marks : 2 Wrong Marks : 0

किसी दी गई श्रेणी के मानक विचलन के रूप में ' σ ' दिया गया है और यदि उस श्रेणी के प्रत्येक अवलोकनों के पश्चात् उसमें स्थिरांक 'k' जोड़ा जाता है, तब नई श्रेणी का मानक विचलन क्या होगा ?

1. $\sigma + k$
2. $\sigma - k$
3. σ
4. σk

Options :

21052935305. 1
21052935306. 2
21052935307. 3
21052935308. 4

Question Number : 78 Question Id : 2105298993 Question Type : MCQ Option Shuffling : No Is Question Mandatory : No Calculator : None Response Time : N.A Think Time : N.A Minimum Instruction Time : 0

Correct Marks : 2 Wrong Marks : 0

Which one of the following price Index numbers satisfy the Factor Reversal Test?

1. Laspeyres Price Index Number
2. Paasche's Price Index Number
3. Walsh's Price Index Number
4. Fisher's Price Index Number

Options :

21052935309. 1
21052935310. 2
21052935311. 3
21052935312. 4

Question Number : 78 Question Id : 2105298993 Question Type : MCQ Option Shuffling : No Is Question Mandatory : No Calculator : None Response Time : N.A Think Time : N.A Minimum Instruction Time : 0

Correct Marks : 2 Wrong Marks : 0

निम्नलिखित मूल्य सूचकांकों में से कौन - सा गुणक - उत्क्रमण जाँच को संतुष्ट करता है ?

1. लैस्पीयर्स मूल्य सूचकांक
2. पास्चेज मूल्य सूचकांक
3. वाल्श का मूल्य सूचकांक
4. फ़िशर्स मूल्य सूचकांक

Options :

21052935309. 1
21052935310. 2
21052935311. 3
21052935312. 4

Question Number : 79 Question Id : 2105298994 Question Type : MCQ Option Shuffling : No Is Question Mandatory : No Calculator : None Response Time : N.A Think Time : N.A Minimum Instruction Time : 0

Correct Marks : 2 Wrong Marks : 0

Match **List I** with **List II**

List I	List II
Statistic	Standard Error
A. Sample Mean (\bar{x})	I. $\sqrt{\left(\frac{\sigma_1^2}{2n_1}\right) + \left(\frac{\sigma_2^2}{2n_2}\right)}$
B. Sample Variance (s^2)	II. $\sqrt{\left(\frac{\sigma_1^2}{n_1}\right) + \left(\frac{\sigma_2^2}{n_2}\right)}$
C. Difference of two independent sample means ($\bar{x}_1 - \bar{x}_2$)	III. $\frac{\sigma}{\sqrt{n}}$
D. Difference of two independent sample standard Deviations ($s_1 - s_2$)	IV. $\sigma^2 \sqrt{\frac{2}{n}}$

Choose the **correct** answer from the options given below:

1. A - III, B - IV, C - II, D - I
2. A - III, B - II, C - IV, D - I
3. A - III, B - IV, C - I, D - II
4. A - I, B - III, C - II, D - IV

Options :

21052935313. 1
21052935314. 2
21052935315. 3
21052935316. 4

Question Number : 79 Question Id : 2105298994 Question Type : MCQ Option Shuffling : No Is Question Mandatory : No Calculator : None Response Time : N.A Think Time : N.A Minimum Instruction Time : 0

Correct Marks : 2 Wrong Marks : 0

सूची-I को सूची-II के साथ सुमेलित कीजिए :

सूची-I	सूची-II
सांख्यिकी	मानक त्रुटि
A. प्रतिदर्श माध्य (\bar{x})	i. $\sqrt{(\sigma_1^2/2n_1) + (\sigma_2^2/2n_2)}$
B. प्रतिदर्श प्रसरण (s^2)	ii. $\sqrt{(\sigma_1^2/n_1) + (\sigma_2^2/n_2)}$
C. दो स्वतंत्र प्रतिदर्श माध्यों का अंतर ($\bar{x}_1 - \bar{x}_2$)	iii. σ/\sqrt{n}
D. दो स्वतंत्र मानक विचलनों का अंतर ($s_1 - s_2$)	iv. $\sigma^2 \sqrt{\frac{2}{n}}$

नीचे दिए गए विकल्पों में से सही उत्तर चुनिए :

1. A - III, B - IV, C - II, D - I
2. A - III, B - II, C - IV, D - I
3. A - III, B - IV, C - I, D - II
4. A - I, B - III, C - II, D - IV

Options :

21052935313. 1
 21052935314. 2
 21052935315. 3
 21052935316. 4

Question Number : 80 Question Id : 2105298995 Question Type : MCQ Option Shuffling : No Is Question Mandatory : No Calculator : None Response Time : N.A Think Time : N.A Minimum Instruction Time : 0

Correct Marks : 2 Wrong Marks : 0

Given the sample size 400 with sample mean 99, the population mean 100 and computed value of z - statistic at - 2.5, the value of population standard deviation will be

1. 59.17
2. 123.46
3. 8
4. Cannot be determined

Options :

21052935317. 1
 21052935318. 2
 21052935319. 3
 21052935320. 4

Question Number : 80 Question Id : 2105298995 Question Type : MCQ Option Shuffling : No Is Question Mandatory : No Calculator : None Response Time : N.A Think Time : N.A Minimum Instruction Time : 0

Correct Marks : 2 Wrong Marks : 0

दिए गए प्रतिदर्श आकार 400 का प्रतिदर्श माध्य 99, समष्टि माध्य (पॉपुलेशन मीन) 100 तथा z - स्थैतिक (स्टैटिस्टिक) का परिकलित मान (कम्प्यूटेड वैल्यू) - 2.5 है, तो समष्टिगत मानक विचलन (पॉपुलेशन स्टैंडर्ड डेवियेशन) का मान होगा :

1. 59.17
2. 123.46
3. 8
4. अनिर्णीत

Options :

21052935317. 1
21052935318. 2
21052935319. 3
21052935320. 4

Question Number : 81 Question Id : 2105298996 Question Type : MCQ Option Shuffling : No Is Question Mandatory : No Calculator : None Response Time : N.A Think Time : N.A Minimum Instruction Time : 0

Correct Marks : 2 Wrong Marks : 0

If the disturbance term is heteroscedastic, which one of the responses based on given statements is true?

- A. OLS estimates are biased
- B. OLS estimates do not have the minimum variance property
- C. Tests of significance based on OLS estimates will be inaccurate
- D. OLS estimates are inconsistent

Choose the **correct** answer from the options given below:

1. A and B are true only
2. A and C are true only
3. B and C are true only
4. A and D are true only

Options :

21052935321. 1
21052935322. 2
21052935323. 3
21052935324. 4

Question Number : 81 Question Id : 2105298996 Question Type : MCQ Option Shuffling : No Is Question Mandatory : No Calculator : None Response Time : N.A Think Time : N.A Minimum

Instruction Time : 0

Correct Marks : 2 Wrong Marks : 0

यदि बाधा पद विषमविसारी (हेटेरोसिडैस्टिक) हो तो निम्न कथनों के आधार पर कौन -सा उत्तर सही होगा ?

- A. ओ एल एस (OLS) अनुमान पूर्वाग्रह पूर्ण हैं।
- B. ओ एल एस (OLS) अनुमान के न्यूनतम प्रसरण गुण नहीं हैं।
- C. ओ एल एस (OLS) अनुमान के आधार पर महत्त्व का परीक्षण करना अयथार्थ होगा।
- D. ओ एल एस (OLS) अनुमान असंगत हैं।

नीचे दिए गए विकल्पों में से सही उत्तर चुनिये :

- 1. केवल A और B सही हैं।
- 2. केवल A और C सही हैं।
- 3. केवल B और C सही हैं।
- 4. केवल A और D सही हैं।

Options :

21052935321. 1

21052935322. 2

21052935323. 3

21052935324. 4

Question Number : 82 Question Id : 2105298997 Question Type : MCQ Option Shuffling : No Is Question Mandatory : No Calculator : None Response Time : N.A Think Time : N.A Minimum Instruction Time : 0

Correct Marks : 2 Wrong Marks : 0

Based on the order condition, state whether the first equation is identified?

Given the following structural model.

$$y_1 = 3y_2 - 2x_1 + x_2 + u_1$$

$$y_2 = y_3 + x_3 + u_2$$

$$y_3 = y_1 - y_2 - 2x_3 + u_3$$

where y's are the endogenous variables, x's are predetermined variables and u's are random terms

- 1. Over Identified
- 2. Under Identified
- 3. Exactly Identified
- 4. Information not sufficient

Options :

21052935325. 1

21052935326. 2

21052935327. 3

Question Number : 82 Question Id : 2105298997 Question Type : MCQ Option Shuffling : No Is Question Mandatory : No Calculator : None Response Time : N.A Think Time : N.A Minimum Instruction Time : 0

Correct Marks : 2 Wrong Marks : 0

क्रम शर्त (ऑर्डर कंडीशन) के आधार पर बताएं कि निम्नलिखित में से कौन सा पहला समीकरण चिह्नित (आईडेंटिफाइड) है?

संरचनात्मक प्रतिमान (स्ट्रक्चरल मॉडल) इस प्रकार दिए गए हैं :

$$y_1 = 3y_2 - 2x_1 + x_2 + u_1$$

$$y_2 = y_3 + x_3 + u_2$$

$$y_3 = y_1 - y_2 - 2x_3 + u_3$$

जहां y अंतर्जात चर (इन्डोजेनस वेरिएबल), x पूर्वनिर्धारित चर तथा u यादृच्छिक पद (रैंडम टर्म) है।

1. अति चिह्नित (ओवर आईडेंटिफाइड)
2. अल्प चिह्नित (अंडर आईडेंटिफाइड)
3. सटीक चिह्नित (एक्जैक्टली आईडेंटिफिकेशन)
4. सूचना अपर्याप्त है।

Options :

21052935325. 1

21052935326. 2

21052935327. 3

21052935328. 4

Question Number : 83 Question Id : 2105298998 Question Type : MCQ Option Shuffling : No Is Question Mandatory : No Calculator : None Response Time : N.A Think Time : N.A Minimum Instruction Time : 0

Correct Marks : 2 Wrong Marks : 0

Which one of the following response is true as a solution for simultaneous equation bias?

- A. OLS Method
- B. Principle Component Method
- C. Two-Stage Least Square Method (2 SLS Method)
- D. Full Information Maximum Likelihood Method (FIML)

Choose the **correct** answer from the options given below:

1. A and B are true only
2. B and C are true only
3. C and D are true only
4. A and D are true only

Options :

- 21052935329. 1
- 21052935330. 2
- 21052935331. 3
- 21052935332. 4

Question Number : 83 Question Id : 2105298998 Question Type : MCQ Option Shuffling : No Is Question Mandatory : No Calculator : None Response Time : N.A Think Time : N.A Minimum Instruction Time : 0

Correct Marks : 2 Wrong Marks : 0

युगपत समीकरण पूर्वाग्रह (साइमल्टेनियस इक्वेशन बाइस) के लिए निम्नलिखित में से कौन - से हल सही उत्तर हैं ?

- A. ओ एल एस (OLS) प्रणाली
- B. प्रधान घटक प्रणाली (प्रिंसिपल कम्पोनेंट मेथड)
- C. द्वि स्तरीय न्यूनतम वर्ग विधि प्रणाली (टू स्टेड लीस्ट स्क्वेअर मेथड)
- D. पूर्ण जानकारी अधिकतम संभावना प्रणाली (एफ आई एम एल)

नीचे दिए गए विकल्पों में से सही उत्तर चुनिये :

- 1. केवल A और B सही हैं।
- 2. केवल B और C सही हैं।
- 3. केवल C और D सही हैं।
- 4. केवल A और D सही हैं।

Options :

- 21052935329. 1
- 21052935330. 2
- 21052935331. 3
- 21052935332. 4

Question Number : 84 Question Id : 2105298999 Question Type : MCQ Option Shuffling : No Is Question Mandatory : No Calculator : None Response Time : N.A Think Time : N.A Minimum Instruction Time : 0

Correct Marks : 2 Wrong Marks : 0

A time series, under the condition $E(x_t) = \mu$ and $Cov(x_t, x_{t+k}) = \gamma(k)$ is said to be

- 1. Strictly Stationary
- 2. Non Stationary
- 3. Weakly Stationary
- 4. Can't be defined

Options :

- 21052935333. 1
- 21052935334. 2
- 21052935335. 3
- 21052935336. 4

Question Number : 84 Question Id : 2105298999 Question Type : MCQ Option Shuffling : No Is Question Mandatory : No Calculator : None Response Time : N.A Think Time : N.A Minimum Instruction Time : 0

Correct Marks : 2 Wrong Marks : 0

स्थिति $E(x_t) = \mu$ तथा $Cov(x_t, x_{t+k}) = \gamma(k)$ में समय श्रृंखला (टाइम सीरिज) निम्नलिखित में से क्या कहलाता है ?

1. नियमबद्ध रूप से स्थिर (स्ट्रिक्टली स्टेशनरी)
2. अ - स्थिर (नॉन स्टेशनरी)
3. क्षीण रूप से स्थिर (वीकली स्टेशनरी)
4. अपरिभाषित

Options :

21052935333. 1
21052935334. 2
21052935335. 3
21052935336. 4

Question Number : 85 Question Id : 2105299000 Question Type : MCQ Option Shuffling : No Is Question Mandatory : No Calculator : None Response Time : N.A Think Time : N.A Minimum Instruction Time : 0

Correct Marks : 2 Wrong Marks : 0

Match List I with List II

List I	List II
A. Linear Function	I. $y = 3x^2 + 2x + 9$
B. Quadratic Function	II. $y = 5x^3$
C. Exponential Function	III. $y = 3e^{2x}$
D. Power Function	IV. $y = 5x + 3$

Choose the **correct** answer from the options given below:

1. A - IV, B - I, C - III, D - II
2. A - IV, B - I, C - II, D - III
3. A - IV, B - II, C - III, D - I
4. A - I, B - II, C - III, D - IV

Options :

21052935337. 1
21052935338. 2
21052935339. 3
21052935340. 4

Question Number : 85 Question Id : 2105299000 Question Type : MCQ Option Shuffling : No Is Question Mandatory : No Calculator : None Response Time : N.A Think Time : N.A Minimum Instruction Time : 0

Correct Marks : 2 Wrong Marks : 0

सूची-I को सूची-II के साथ सुमेलित कीजिए :

सूची-I	सूची-II
A. रेखीय फलन	I. $y = 3x^2 + 2x + 9$
B. द्विघाती फलन	II. $y = 5x^3$
C. घातांकी फलन	III. $y = 3e^{2x}$
D. पावर फलन	IV. $y = 5x + 3$

नीचे दिए गए विकल्पों में से सही उत्तर चुनिए :

1. A - IV, B - I, C - III, D - II
2. A - IV, B - I, C - II, D - III
3. A - IV, B - II, C - III, D - I
4. A - I, B - II, C - III, D - IV

Options :

21052935337. 1
21052935338. 2
21052935339. 3
21052935340. 4

Question Number : 86 Question Id : 2105299001 Question Type : MCQ Option Shuffling : No Is Question Mandatory : No Calculator : None Response Time : N.A Think Time : N.A Minimum Instruction Time : 0

Correct Marks : 2 Wrong Marks : 0

Given the Total Revenue function, $TR = 1400Q - 6Q^2$ and Total Cost function, $TC = 1500 + 80Q$, at $Q = 100$ units (where Q is the amount of output), which one of the following responses is correct?

- A. $MR > MC$
B. $MC = 80$
C. $MR < MC$
D. $MR = MC$

Choose the **most appropriate** answer from the options given below:

1. A and B are true only
2. B and C are true only
3. B and D are true only
4. Can't be defined

Options :

21052935341. 1
21052935342. 2
21052935343. 3
21052935344. 4

Question Number : 86 Question Id : 2105299001 Question Type : MCQ Option Shuffling : No Is Question Mandatory : No Calculator : None Response Time : N.A Think Time : N.A Minimum Instruction Time : 0

Correct Marks : 2 Wrong Marks : 0

Q = 100 इकाइयों (जहाँ Q निर्गत की मात्रा है) पर कुल राजस्व फलन $TR = 1400Q - 6Q^2$ तथा कुल लागत फलन $TC = 1500 + 80Q$ दिया गया है। निम्नलिखित में से कौनसा उत्तर सही है?

A. $MR > MC$

B. $MC = 80$

C. $MR < MC$

D. $MR = MC$

नीचे दिए गए विकल्पों में से सही उत्तर चुनिये :

1. केवल A और B सही हैं।
2. केवल B और C सही हैं।
3. केवल B और D सही हैं।
4. परिभाषित नहीं किया जा सकता

Options :

21052935341. 1

21052935342. 2

21052935343. 3

21052935344. 4

Question Number : 87 Question Id : 2105299002 Question Type : MCQ Option Shuffling : No Is Question Mandatory : No Calculator : None Response Time : N.A Think Time : N.A Minimum Instruction Time : 0

Correct Marks : 2 Wrong Marks : 0

Given the production function, $Q = 10 L^{0.8} K^{0.2}$, the Marginal Product of Labour (MP_L) and Capital (MP_K), respectively are given by

A. $MP_L = 8 (K/L)^{0.2}$

B. $MP_L = 8 (L/K)^{0.2}$

C. $MP_K = 2 (L/K)^{0.8}$

D. $MP_K = 2 (K/L)^{0.8}$

Choose the **correct** answer from the options given below:

1. A and D are true only
2. A and C are true only
3. B and C are true only
4. B and D are true only

Options :

21052935345. 1
21052935346. 2
21052935347. 3
21052935348. 4

Question Number : 87 Question Id : 2105299002 Question Type : MCQ Option Shuffling : No Is Question Mandatory : No Calculator : None Response Time : N.A Think Time : N.A Minimum Instruction Time : 0

Correct Marks : 2 Wrong Marks : 0

उत्पादन फलन $q = 10 L^{0.8} K^{0.2}$ दिया गया है, श्रम एवं पूंजी की सीमान्त उत्पादों (MP_L और MP_K) को इस प्रकार दिया जाता है:

- A. $MP_L = 8 (K/L)^{0.2}$
B. $MP_L = 8 (L/K)^{0.2}$
C. $MP_K = 2 (L/K)^{0.8}$
D. $MP_K = 2 (K/L)^{0.8}$

नीचे दिए गए विकल्पों में से सही उत्तर चुनिए :

1. केवल A और D सही हैं।
2. केवल A और C सही हैं।
3. केवल B और C सही हैं।
4. केवल B और D सही हैं।

Options :

21052935345. 1
21052935346. 2
21052935347. 3
21052935348. 4

Question Number : 88 Question Id : 2105299003 Question Type : MCQ Option Shuffling : No Is Question Mandatory : No Calculator : None Response Time : N.A Think Time : N.A Minimum Instruction Time : 0

Correct Marks : 2 Wrong Marks : 0

Given below are two statements, one is labelled as **Assertion A** and the other is labelled as **Reason R**

Assertion A: If A is any Matrix given by $A = \begin{pmatrix} 5 & 0 & 3 \\ -1 & 0 & 2 \\ 1 & 0 & 1 \end{pmatrix}$ then $\det A = 0$, since all elements in column II are zero

Reason R: Laplace expansion permits evaluation of a determinant along any row or column

In light of the above statements, choose the **most appropriate** answer from the options given below

1. Both **A** and **R** are correct and **R** is the correct explanation of **A**
2. Both **A** and **R** are correct but **R** is **NOT** the correct explanation of **A**
3. **A** is correct but **R** is not correct
4. **A** is not correct but **R** is correct

Options :

21052935349. 1
21052935350. 2
21052935351. 3
21052935352. 4

Question Number : 88 Question Id : 2105299003 Question Type : MCQ Option Shuffling : No Is Question Mandatory : No Calculator : None Response Time : N.A Think Time : N.A Minimum Instruction Time : 0

Correct Marks : 2 Wrong Marks : 0

नीचे दो कथन दिए गए हैं : एक को अभिकथन (A) और दूसरे को तर्क (R) कहा गया है :

अभिकथन (A) : यदि A एक मैट्रिक्स है जिसे इस प्रकार दिया गया है $A = \begin{pmatrix} 5 & 0 & 3 \\ -1 & 0 & 2 \\ 1 & 0 & 1 \end{pmatrix}$ क्योंकि कालम II के सभी अवयव (एलीमेंट्स) शून्य हैं तो $\det A = 0$ है।

तर्क (R) : लाप्लेस विस्तार किसी भी पंक्ति अथवा कालम के साथ निर्धारक (डिटरमिनेन्ट) के मूल्यांकन की अनुमति देता है।

उपर्युक्त कथनों के आलोक में निम्नांकित विकल्पों में से सर्वाधिक उपयुक्त उत्तर चुनें :

1. (A) और (R) दोनों सही हैं और (R), (A) की सही व्याख्या है।
2. (A) और (R) दोनों सही हैं और (R), (A) की सही व्याख्या नहीं है।
3. (A) सही है परन्तु (R) सही नहीं है।
4. (A) सही नहीं है परन्तु (R) सही है।

Options :

21052935349. 1
21052935350. 2
21052935351. 3

21052935352. 4

Question Number : 89 Question Id : 2105299004 Question Type : MCQ Option Shuffling : No Is Question Mandatory : No Calculator : None Response Time : N.A Think Time : N.A Minimum Instruction Time : 0

Correct Marks : 2 Wrong Marks : 0

Given the Total Cost, $TC = Q^3 - 10Q^2 + 60Q$, what will be the Minimum average cost? At what level of output will the minimum cost occur? (Q is the level of output)

1. Minimum average cost is $AC_{Min} = 35$ at $Q = 5$
2. Minimum average cost is $AC_{Min} = 175$ at $Q = 5$
3. Minimum average cost is $AC_{Min} = 170$ at $Q = 1$
4. Minimum average cost is $AC_{Min} = 45$ at $Q = 1$

Options :

21052935353. 1
21052935354. 2
21052935355. 3
21052935356. 4

Question Number : 89 Question Id : 2105299004 Question Type : MCQ Option Shuffling : No Is Question Mandatory : No Calculator : None Response Time : N.A Think Time : N.A Minimum Instruction Time : 0

Correct Marks : 2 Wrong Marks : 0

कुल लागत $TC = Q^3 - 10Q^2 + 60Q$ दी गई है। न्यूनतम औसत लागत क्या होगी? निर्गत के कौन से स्तर पर न्यूनतम लागत आती है? (Q निर्गत का स्तर है)

1. Q = 5 पर न्यूनतम औसत लागत $AC_{Min} = 35$ है।
2. Q = 5 पर न्यूनतम औसत लागत $AC_{Min} = 175$ है।
3. Q = 1 पर न्यूनतम औसत लागत $AC_{Min} = 170$ है।
4. Q = 1 पर न्यूनतम औसत लागत $AC_{Min} = 45$ है।

Options :

21052935353. 1
21052935354. 2
21052935355. 3
21052935356. 4

Question Number : 90 Question Id : 2105299005 Question Type : MCQ Option Shuffling : No Is Question Mandatory : No Calculator : None Response Time : N.A Think Time : N.A Minimum Instruction Time : 0

Correct Marks : 2 Wrong Marks : 0

Which one of the following is a valid objective function as a linear programming problem?

1. $Max Z = 5x^2y$
2. $Max Z = 3x + 2y + 8xy$
3. $Min Z = 2x^2 + 3y^2$
4. $Min Z = 5x + 2y$

Options :

- 21052935357. 1
- 21052935358. 2
- 21052935359. 3
- 21052935360. 4

Question Number : 90 Question Id : 2105299005 Question Type : MCQ Option Shuffling : No Is Question Mandatory : No Calculator : None Response Time : N.A Think Time : N.A Minimum Instruction Time : 0

Correct Marks : 2 Wrong Marks : 0

रैखिक प्रोग्रामन निर्भेद के रूप में निम्नलिखित में से कौनसा वैध आब्जेक्टिव फलन है?

- 1. $\text{Max } Z = 5x^2y$
- 2. $\text{Max } Z = 3x + 2y + 8xy$
- 3. $\text{Min } Z = 2x^2 + 3y^2$
- 4. $\text{Min } Z = 5x + 2y$

Options :

- 21052935357. 1
- 21052935358. 2
- 21052935359. 3
- 21052935360. 4

Question Number : 91 Question Id : 2105299006 Question Type : MCQ Option Shuffling : No Is Question Mandatory : No Calculator : None Response Time : N.A Think Time : N.A Minimum Instruction Time : 0

Correct Marks : 2 Wrong Marks : 0

If no industry (sector) draws its own output as input, then the principal diagonal element in the Technological Coefficient Matrix will be

- 1. -1
- 2. +1
- 3. Zero
- 4. Infinity

Options :

- 21052935361. 1
- 21052935362. 2
- 21052935363. 3
- 21052935364. 4

Question Number : 91 Question Id : 2105299006 Question Type : MCQ Option Shuffling : No Is Question Mandatory : No Calculator : None Response Time : N.A Think Time : N.A Minimum Instruction Time : 0

Correct Marks : 2 Wrong Marks : 0

यदि कोई भी उद्योग (सेक्टर) अपने निर्गत को आगत के रूप में नहीं लेता तो तकनीकी गुणांक मैट्रिक्स में प्रधान विकर्णी अवयव निम्नलिखित में से एक होगा :

1. -1
2. +1
3. शून्य
4. असीमित

Options :

21052935361. 1
21052935362. 2
21052935363. 3
21052935364. 4

Question Number : 92 Question Id : 2105299007 Question Type : MCQ Option Shuffling : No Is Question Mandatory : No Calculator : None Response Time : N.A Think Time : N.A Minimum Instruction Time : 0

Correct Marks : 2 Wrong Marks : 0

Which of the following are Hawkins–Simon conditions?

- A. Determinant A should be positive
- B. Determinant (I-A) should be positive
- C. Determinant (I-A) should be negative
- D. Principal diagonal elements of Matrix (I-A) should be positive

Choose the **correct** answer from the options given below:

1. A and C are true only
2. A and D are true only
3. B and D are true only
4. C and D are true only

Options :

21052935365. 1
21052935366. 2
21052935367. 3
21052935368. 4

Question Number : 92 Question Id : 2105299007 Question Type : MCQ Option Shuffling : No Is Question Mandatory : No Calculator : None Response Time : N.A Think Time : N.A Minimum Instruction Time : 0

Correct Marks : 2 Wrong Marks : 0

हॉकिन - साईमन की शर्तें क्या हैं ?

- A. निर्धारक (डिटरमिनेंट) A धनात्मक होना चाहिए।
- B. निर्धारक (डिटरमिनेंट) $(I - A)$ धनात्मक होना चाहिए।
- C. निर्धारक (डिटरमिनेंट) $(I - A)$ ऋणात्मक होना चाहिए।
- D. मैट्रिक्स $(I - A)$ का प्रधान विकर्णी अवयव धनात्मक होना चाहिए।

नीचे दिए गए विकल्पों में से सही उत्तर चुनिये :

- 1. केवल A और C सही हैं।
- 2. केवल A और D सही हैं।
- 3. केवल B और D सही हैं।
- 4. केवल C और D सही हैं।

Options :

- 21052935365. 1
- 21052935366. 2
- 21052935367. 3
- 21052935368. 4

Question Number : 93 Question Id : 2105299008 Question Type : MCQ Option Shuffling : No Is Question Mandatory : No Calculator : None Response Time : N.A Think Time : N.A Minimum Instruction Time : 0

Correct Marks : 2 Wrong Marks : 0

In the study of International Economics, we use the tools of

- 1. Microeconomic theory only
- 2. Macroeconomic theory only
- 3. Neither micro nor macro economic theory
- 4. Both micro and macro economic theory but we all extend, adapt and integrate them

Options :

- 21052935369. 1
- 21052935370. 2
- 21052935371. 3
- 21052935372. 4

Question Number : 93 Question Id : 2105299008 Question Type : MCQ Option Shuffling : No Is Question Mandatory : No Calculator : None Response Time : N.A Think Time : N.A Minimum Instruction Time : 0

Correct Marks : 2 Wrong Marks : 0

अंतर्राष्ट्रीय अर्थशास्त्र के अध्ययन में हम निम्नलिखित में से किसका उपयोग करते हैं ?

1. केवल व्यष्टिमूलक आर्थिक सिद्धांत का
2. केवल समष्टिमूलक आर्थिक सिद्धांत का
3. न तो व्यष्टिमूलक और न ही समष्टिमूलक आर्थिक सिद्धांत का
4. व्यष्टिमूलक तथा समष्टिमूलक दोनों आर्थिक सिद्धांत का, परंतु हम उसका विस्तार अनुकूलन तथा समेकन भी करते हैं

Options :

21052935369. 1
21052935370. 2
21052935371. 3
21052935372. 4

Question Number : 94 Question Id : 2105299009 Question Type : MCQ Option Shuffling : No Is Question Mandatory : No Calculator : None Response Time : N.A Think Time : N.A Minimum Instruction Time : 0

Correct Marks : 2 Wrong Marks : 0

Match **List I** with **List II**

List I	List II
A. Absolute Advantage Theory of International Trade	I. Heckscher-Ohlin
B. Factor Proportion Theory of Trade	II. Marshall
C. Offer Curves	III. Adam Smith
D. Opportunity Costs	IV. Haberler

Choose the **correct** answer from the options given below:

1. A - I, B - III, C - II, D - IV
2. A - III, B - I, C - II, D - IV
3. A - I, B - III, C - IV, D - II
4. A - III, B - I, C - IV, D - II

Options :

21052935373. 1
21052935374. 2
21052935375. 3
21052935376. 4

Question Number : 94 Question Id : 2105299009 Question Type : MCQ Option Shuffling : No Is Question Mandatory : No Calculator : None Response Time : N.A Think Time : N.A Minimum Instruction Time : 0

Correct Marks : 2 Wrong Marks : 0

सूची-I को सूची-II के साथ सुमेलित कीजिए :

सूची-I	सूची-II
A. अंतर्राष्ट्रीय व्यापार सिद्धांत निरपेक्ष लाभ	I. हैक्सचर - ओहलिव
B. कारक अनुपात व्यापार का सिद्धांत	II. मार्शल
C. अर्पण वक्र	III. एडम स्मिथ
D. अवसर लागत	IV. हबर्लर

नीचे दिए गए विकल्पों में से सही उत्तर चुनिए :

1. A - I, B - III, C - II, D - IV
2. A - III, B - I, C - II, D - IV
3. A - I, B - III, C - IV, D - II
4. A - III, B - I, C - IV, D - II

Options :

21052935373. 1
21052935374. 2
21052935375. 3
21052935376. 4

Question Number : 95 Question Id : 2105299010 Question Type : MCQ Option Shuffling : No Is Question Mandatory : No Calculator : None Response Time : N.A Think Time : N.A Minimum Instruction Time : 0

Correct Marks : 2 Wrong Marks : 0

Transportation cost of trade effects:

- A. Pattern of trade
- B. Boundaries between tradable and non-tradable goods
- C. Global supply chains
- D. Boundaries of non-tradable goods

Choose the **correct** answer from the options given below:

1. A and B only
2. A, B and C only
3. A, B, C and D only
4. D only

Options :

21052935377. 1
21052935378. 2
21052935379. 3
21052935380. 4

Question Number : 95 Question Id : 2105299010 Question Type : MCQ Option Shuffling : No Is Question Mandatory : No Calculator : None Response Time : N.A Think Time : N.A Minimum

Instruction Time : 0

Correct Marks : 2 Wrong Marks : 0

व्यवसाय की परिवहन लागत प्रभावित करती है :

- A. व्यवसाय के पैटर्न को
- B. व्यवसाय करने योग्य और व्यवसाय नहीं करने योग्य सामानों के बीच सीमा को
- C. वैश्विक आपूर्ति श्रृंखला को
- D. व्यवसाय नहीं करने योग्य सामानों की सीमा को

निम्नलिखित विकल्पों में से सही उत्तर चुनिये :

- 1. केवल A और B
- 2. केवल A, B और C
- 3. A, B, C और D
- 4. केवल D

Options :

- 21052935377. 1
- 21052935378. 2
- 21052935379. 3
- 21052935380. 4

Question Number : 96 Question Id : 2105299011 Question Type : MCQ Option Shuffling : No Is Question Mandatory : No Calculator : None Response Time : N.A Think Time : N.A Minimum Instruction Time : 0

Correct Marks : 2 Wrong Marks : 0

नीचे दो कथन दिए गए हैं : एक को अभिकथन (A) और दूसरे को तर्क (R) कहा गया है :

अभिकथन (A) : अवमूल्यन की सफलता के लिए मार्शल-लर्नर शर्त को पूरा किया जाना चाहिए।

तर्क (R) : अवमूल्यन से निर्यात महंगा तथा आयात सस्ता होता है।

उपर्युक्त कथनों के आलोक में निम्नांकित विकल्पों में से सर्वाधिक उपयुक्त उत्तर चुनें :

- 1. (A) और (R) दोनों सही हैं और (R), (A) की सही व्याख्या है।
- 2. (A) और (R) दोनों सही हैं और (R), (A) की सही व्याख्या नहीं है।
- 3. (A) सही है परन्तु (R) गलत है।
- 4. (A) गलत है परन्तु (R) सही है।

Options :

- 21052935381. 1
- 21052935382. 2
- 21052935383. 3
- 21052935384. 4

Question Number : 96 Question Id : 2105299011 Question Type : MCQ Option Shuffling : No Is Question Mandatory : No Calculator : None Response Time : N.A Think Time : N.A Minimum

Instruction Time : 0

Correct Marks : 2 Wrong Marks : 0

Given below are two statements, one is labelled as **Assertion A** and the other is labelled as **Reason R**

Assertion A: Marshall-Lerner condition should be fulfilled for the success of devaluation

Reason R: Devaluation makes exports costly and Imports cheaper

In light of the above statements, choose the **most appropriate** answer from the options given below

1. Both **A** and **R** are correct and **R** is the correct explanation of **A**
2. Both **A** and **R** are correct but **R** is **NOT** the correct explanation of **A**
3. **A** is correct but **R** is not correct
4. **A** is not correct but **R** is correct

Options :

21052935381. 1

21052935382. 2

21052935383. 3

21052935384. 4

Question Number : 97 Question Id : 2105299012 Question Type : MCQ Option Shuffling : No Is Question Mandatory : No Calculator : None Response Time : N.A Think Time : N.A Minimum Instruction Time : 0

Correct Marks : 2 Wrong Marks : 0

Forward exchange rates are useful for those who wish to

- A. Protect themselves from the risk that the exchange rate will change before a transaction is completed
- B. Gamble that a currency will rise in value
- C. Gamble that a currency will fall in value
- D. Exchange currencies at a point in time in the future

Choose the **correct** answer from the options given below:

1. A, B and C only
2. A and B only
3. A and C only
4. A, B, C and D only

Options :

21052935385. 1

21052935386. 2

21052935387. 3

21052935388. 4

Question Number : 97 Question Id : 2105299012 Question Type : MCQ Option Shuffling : No Is Question Mandatory : No Calculator : None Response Time : N.A Think Time : N.A Minimum Instruction Time : 0

Correct Marks : 2 Wrong Marks : 0

वायदा विनिमय दर उनके लिए लाभदायक है जो :

- A. स्वयं की उस जोखिम से सुरक्षा चाहते हैं कि संव्यवहार पूरा होने के पूर्व विनिमय दर में परिवर्तन होगा।
- B. यह दाँव पर लगाना चाहते हैं कि मुद्रा का मूल्य बढ़ेगा।
- C. यह दाँव पर लगाना चाहते हैं कि मुद्रा का मूल्य घटेगा।
- D. भविष्य में किसी समय बिंदु पर मुद्रा का विनिमय करना चाहते हैं।

निम्नलिखित विकल्पों में से सही उत्तर चुनिये :

- 1. केवल A, B और C
- 2. केवल A और B
- 3. केवल A और C
- 4. A, B, C और D

Options :

- 21052935385. 1
- 21052935386. 2
- 21052935387. 3
- 21052935388. 4

Question Number : 98 Question Id : 2105299013 Question Type : MCQ Option Shuffling : No Is Question Mandatory : No Calculator : None Response Time : N.A Think Time : N.A Minimum Instruction Time : 0

Correct Marks : 2 Wrong Marks : 0

Overshooting model of exchange rate developed by economist Rudi Dornbush, attempts to establish

- 1. The fact why the foreign exchange market is never in equilibrium
- 2. Relationship between sticky prices and volatile exchange rates
- 3. The fact that forward rates of exchange are not good predictors of future spot rates of exchange
- 4. No relationship between sticky prices and volatile exchange rates

Options :

- 21052935389. 1
- 21052935390. 2
- 21052935391. 3
- 21052935392. 4

Question Number : 98 Question Id : 2105299013 Question Type : MCQ Option Shuffling : No Is Question Mandatory : No Calculator : None Response Time : N.A Think Time : N.A Minimum Instruction Time : 0

Correct Marks : 2 Wrong Marks : 0

अर्थशास्त्री रूडी डार्नबुश द्वारा प्रतिपादित विनिमय दर में अत्यधिक वृद्धि का प्रतिमान यह तथ्य स्थापित कहता है कि :

1. बाजार में विदेशी मुद्रा संतुलन क्यों कभी नहीं रहती है।
2. स्थिर कीमतें और अस्थिर विनिमय दर के बीच संबंध होता है।
3. वायदा विनिमय दर भविष्य तत्काल विनिमय दर का अच्छा पूर्वानुमान बताने वाला नहीं है।
4. स्थिर कीमतें और अस्थिर विनिमय दर में किसी प्रकार का संबंध नहीं है।

Options :

- 21052935389. 1
- 21052935390. 2
- 21052935391. 3
- 21052935392. 4

Question Number : 99 Question Id : 2105299014 Question Type : MCQ Option Shuffling : No Is Question Mandatory : No Calculator : None Response Time : N.A Think Time : N.A Minimum Instruction Time : 0

Correct Marks : 2 Wrong Marks : 0

Changes in terms of trade typically put less developed countries at a disadvantage, because

1. They specialize and trade in agricultural goods rather than manufactured goods
2. They have higher labour costs
3. They specialize and trade in services like tourism
4. Industrialized countries practice unfair trade with less developed countries

Options :

- 21052935393. 1
- 21052935394. 2
- 21052935395. 3
- 21052935396. 4

Question Number : 99 Question Id : 2105299014 Question Type : MCQ Option Shuffling : No Is Question Mandatory : No Calculator : None Response Time : N.A Think Time : N.A Minimum Instruction Time : 0

Correct Marks : 2 Wrong Marks : 0

व्यवसाय की शर्तों में परिवर्तन से विशेष रूप से अल्प विकसित देशों को हानि होती है क्योंकि :

1. उनकी विशेषज्ञता तथा व्यवसाय कृषि संबंधी वस्तुओं में होती हैं न कि विनिर्मित वस्तुओं में
2. उनकी श्रम लागत उच्चतर होती है।
3. उनकी विशेषज्ञता तथा व्यवसाय पर्यटन जैसी सेवाओं में होती है।
4. उद्योगीकृत देश अल्प विकसित देशों के साथ अनुचित व्यवसाय करते हैं।

Options :

- 21052935393. 1
- 21052935394. 2
- 21052935395. 3
- 21052935396. 4

Question Number : 100 Question Id : 2105299015 Question Type : MCQ Option Shuffling : No Is Question Mandatory : No Calculator : None Response Time : N.A Think Time : N.A Minimum

Instruction Time : 0

Correct Marks : 2 Wrong Marks : 0

Match **List I** with **List II**

List I	List II
A. Rybezynski Theorem	I. The effect of tariffs on factor prices
B. Metzler effect	II. The effect of factor growth on production and trade
C. Stolper-Samuelson Theorem	III. The effect of tariffs on domestic prices
D. Immiserising growth theory	IV. The effect of growth on terms of trade

Choose the **correct** answer from the options given below:

1. A - II, B - III, C - I, D - IV
2. A - IV, B - III, C - I, D - II
3. A - IV, B - I, C - III, D - II
4. A - II, B - I, C - III, D - IV

Options :

21052935397. 1
21052935398. 2
21052935399. 3
21052935400. 4

Question Number : 100 Question Id : 2105299015 Question Type : MCQ Option Shuffling : No Is Question Mandatory : No Calculator : None Response Time : N.A Think Time : N.A Minimum Instruction Time : 0

Correct Marks : 2 Wrong Marks : 0

सूची-I को सूची-II के साथ सुमेलित कीजिए :

सूची-I	सूची-II
A. रिबेजिंस्की का सिद्धांत	I. उपादान कीमत पर प्रशुल्क का प्रभाव
B. मेटजलर का सिद्धांत	II. उत्पादन और व्यवसाय पर उपादान वृद्धि का प्रभाव
C. स्टॉपलर - सैम्यूलसन का सिद्धांत	III. घरेलू मूल्यों पर प्रशुल्क का प्रभाव
D. इमिजराइजिंग ग्रोथ का सिद्धांत	IV. व्यवसाय की शर्तों पर वृद्धि का प्रभाव

नीचे दिए गए विकल्पों में से सही उत्तर चुनिए :

1. A - II, B - III, C - I, D - IV
2. A - IV, B - III, C - I, D - II
3. A - IV, B - I, C - III, D - II
4. A - II, B - I, C - III, D - IV

Options :

21052935397. 1
21052935398. 2
21052935399. 3

Question Number : 101 Question Id : 2105299016 Question Type : MCQ Option Shuffling : No Is Question Mandatory : No Calculator : None Response Time : N.A Think Time : N.A Minimum Instruction Time : 0

Correct Marks : 2 Wrong Marks : 0

Given below are two statements

Statement I: The Rybczynski theorem postulates that at constant commodity prices, an increase in the endowment of one factor will increase by a greater proportion the output of the commodity, intensive in that factor and will reduce the output of the other commodity

Statement II: The Stolper-Samuelson theorem postulates that an increase in the relative price of a commodity (for example as a result of a tariff) decreases the return or earnings of the factor used intensively in the production of the commodity

In light of the above statements, choose the **correct** answer from the options given below

1. Both Statement I and Statement II are true
2. Both Statement I and Statement II are false
3. Statement I is correct but Statement II is false
4. Statement I is correct but Statement II is true

Options :

21052935401. 1
21052935402. 2
21052935403. 3
21052935404. 4

Question Number : 101 Question Id : 2105299016 Question Type : MCQ Option Shuffling : No Is Question Mandatory : No Calculator : None Response Time : N.A Think Time : N.A Minimum Instruction Time : 0

Correct Marks : 2 Wrong Marks : 0

नीचे दो कथन दिए गए हैं :

कथन-I : रेबेन्सकी सिद्धांत में यह बताया गया है कि नियत वस्तु कीमत पर एक उपादान के स्वामित्व में वृद्धि होने से उपादान में वस्तु गठन के निर्गत में अधिक अनुपात में वृद्धि होगी तथा अन्य वस्तु के निर्गत में कमी होगी।

कथन-II : स्टॉप्लर सैमुएलसन सिद्धांत में यह बताया गया है कि किसी वस्तु की सापेक्ष कीमत में वृद्धि होने से (उदाहरण के लिए प्रशुल्क कारण) वस्तु के उत्पादन में अत्यधिक उपयोग किए गए उपादान के प्रतिलाभ अथवा आय में कमी होगी।

उपर्युक्त कथनों के आलोक में निम्नांकित विकल्पों में से सही उत्तर चुनें :

1. कथन-I और कथन-II दोनों सही हैं।
2. कथन-I और कथन-II दोनों गलत हैं।
3. कथन-I सही है, किन्तु कथन-II गलत है।
4. कथन-I गलत है, किन्तु कथन-II सही है।

Options :

- 21052935401. 1
- 21052935402. 2
- 21052935403. 3
- 21052935404. 4

Question Number : 102 Question Id : 2105299017 Question Type : MCQ Option Shuffling : No Is Question Mandatory : No Calculator : None Response Time : N.A Think Time : N.A Minimum Instruction Time : 0

Correct Marks : 2 Wrong Marks : 0

Which one of the following is NOT the objective of IMF?

- 1. To promote international monetary cooperation
- 2. To ensure balanced international trade
- 3. To ensure exchange rate stability
- 4. To provide loans to the private sector

Options :

- 21052935405. 1
- 21052935406. 2
- 21052935407. 3
- 21052935408. 4

Question Number : 102 Question Id : 2105299017 Question Type : MCQ Option Shuffling : No Is Question Mandatory : No Calculator : None Response Time : N.A Think Time : N.A Minimum Instruction Time : 0

Correct Marks : 2 Wrong Marks : 0

निम्नलिखित में से कौन आई एम एफ का उद्देश्य नहीं है ?

- 1. अंतर्राष्ट्रीय मौद्रिक सहयोग को बढ़ावा देना
- 2. संतुलित अंतर्राष्ट्रीय व्यवसाय सुनिश्चित करना
- 3. विनिमय दर की स्थिरता सुनिश्चित करना
- 4. निजी क्षेत्रों को ऋण प्रदान करना

Options :

- 21052935405. 1
- 21052935406. 2
- 21052935407. 3
- 21052935408. 4

Question Number : 103 Question Id : 2105299018 Question Type : MCQ Option Shuffling : No Is Question Mandatory : No Calculator : None Response Time : N.A Think Time : N.A Minimum Instruction Time : 0

Correct Marks : 2 Wrong Marks : 0

The concept of Goods and Service Tax (GST) is originated in

- 1. Canada
- 2. Britain
- 3. Germany
- 4. USA

Options :

- 21052935409. 1
- 21052935410. 2
- 21052935411. 3
- 21052935412. 4

Question Number : 103 Question Id : 2105299018 Question Type : MCQ Option Shuffling : No Is Question Mandatory : No Calculator : None Response Time : N.A Think Time : N.A Minimum Instruction Time : 0

Correct Marks : 2 Wrong Marks : 0

माल एवं सेवाकर (जी एस टी) की अवधारणा कहां शुरू हुई थी ?

- 1. कनाडा
- 2. ब्रिटेन
- 3. जर्मनी
- 4. यू एस ए

Options :

- 21052935409. 1
- 21052935410. 2
- 21052935411. 3
- 21052935412. 4

Question Number : 104 Question Id : 2105299019 Question Type : MCQ Option Shuffling : No Is Question Mandatory : No Calculator : None Response Time : N.A Think Time : N.A Minimum Instruction Time : 0

Correct Marks : 2 Wrong Marks : 0

Given below are two statements

Statement I: Mrs Ursula K. Hicks stated that "Private finance, whether of firms or individuals, starts with a given income plan as a framework within which expenditure must be planned; public finance, on the contrary, starts with a given expenditure plan and the authorities adjust their income by means of taxes and resources to match the expenditure

Statement II: Prof. Shiras pointed out that "Public authorities differ from private expenditure in that the former should balance income and should not necessarily seek a profit in the manner that an individual would"

In light of the above statements, choose the **correct** answer from the options given below

- 1. Both Statement I and Statement II are true
- 2. Both Statement I and Statement II are false
- 3. Statement I is true but Statement II is false
- 4. Statement I is false but Statement II is true

Options :

- 21052935413. 1
- 21052935414. 2
- 21052935415. 3
- 21052935416. 4

Question Number : 104 Question Id : 2105299019 Question Type : MCQ Option Shuffling : No Is Question Mandatory : No Calculator : None Response Time : N.A Think Time : N.A Minimum Instruction Time : 0

Correct Marks : 2 Wrong Marks : 0

नीचे दो कथन दिए गए हैं :

कथन-I : सुश्री उरसुला के हिक्स के अनुसार। "निजी वित्त, चाहे वह किसी कंपनी का हो अथवा किसी व्यक्ति का, अवसंरचना के रूप में एक दी हुई आय योजना से शुरू होती है जिसके अंतर्गत व्यय की योजना की जानी जरूरी है; लोकवित्त, विलोमतः एक दी हुई व्यय योजना के साथ शुरू होता और प्राधिकरण करो एवं संसाधनों के अनुसार अपनी आय को सुमेलित एवं विस्तारित करने का प्रयत्न करते हैं। "

कथन-II : प्रो सिरास ने कहा है कि "लोक प्राधिकरण निजी वित्त पर अलग राय रखते हैं, यह कि पूर्ववर्ती की आय का संतुलन करना चाहिए और उसे किसी व्यक्ति के समान अनिवार्य रूप से लाभ की ही अपेक्षा नहीं करनी चाहिए।"

उपर्युक्त कथनों के आलोक में निम्नांकित विकल्पों में से सही उत्तर चुनें :

1. कथन I और II दोनों सही हैं।
2. कथन I और II दोनों गलत हैं।
3. कथन-I सत्य है, किन्तु कथन-II गलत है।
4. कथन-I असत्य है, किन्तु कथन-II सही है।

Options :

21052935413. 1

21052935414. 2

21052935415. 3

21052935416. 4

Question Number : 105 Question Id : 2105299020 Question Type : MCQ Option Shuffling : No Is Question Mandatory : No Calculator : None Response Time : N.A Think Time : N.A Minimum Instruction Time : 0

Correct Marks : 2 Wrong Marks : 0

"The best system of taxation from the economic point of view is that which has the best or the least bad economic effects". Who said this?

1. Musgrave
2. Marshall
3. Hugh Dalton
4. Pigou

Options :

21052935417. 1

21052935418. 2

21052935419. 3

21052935420. 4

Question Number : 105 Question Id : 2105299020 Question Type : MCQ Option Shuffling : No Is Question Mandatory : No Calculator : None Response Time : N.A Think Time : N.A Minimum Instruction Time : 0

Correct Marks : 2 Wrong Marks : 0

"आर्थिक दृष्टी से कर निर्धारण प्रणाली वह है जिसमें उत्कृष्ट या न्यूनतम बुरे आर्थिक प्रभाव हों। "

1. मसग्रेव
2. मार्शल
3. हू डाल्टन
4. पिगो

Options :

21052935417. 1
21052935418. 2
21052935419. 3
21052935420. 4

Question Number : 106 Question Id : 2105299021 Question Type : MCQ Option Shuffling : No Is Question Mandatory : No Calculator : None Response Time : N.A Think Time : N.A Minimum Instruction Time : 0

Correct Marks : 2 Wrong Marks : 0

Inadequacy or absence of KYC (Know Your Customer) standards can subject a bank to serious and counter party risk as follows

- A. Reputation risk
- B. Compliance risk
- C. Legal risk
- D. Bankruptcy risk

Choose the **correct** answer from the options given below:

1. A, B and D only
2. A, B and C only
3. B, C and D only
4. A, C and D only

Options :

21052935421. 1
21052935422. 2
21052935423. 3
21052935424. 4

Question Number : 106 Question Id : 2105299021 Question Type : MCQ Option Shuffling : No Is Question Mandatory : No Calculator : None Response Time : N.A Think Time : N.A Minimum Instruction Time : 0

Correct Marks : 2 Wrong Marks : 0

के वाई सी (KYC) मानकों की अपर्याप्तता अथवा अनुपस्थिति में बैंक को निम्नलिखित गंभीर एवं प्रतिपक्ष जोखिम हो सकते हैं :

- A. प्रतिष्ठा का जोखिम
- B. अनुपालन का जोखिम
- C. विधिक जोखिम
- D. दिवालियापन का जोखिम

नीचे दिए गए विकल्पों में से सही उत्तर चुनिये :

- 1. केवल A, B और D
- 2. केवल A, B और C
- 3. केवल B, C और D
- 4. केवल A, C और D

Options :

- 21052935421. 1
- 21052935422. 2
- 21052935423. 3
- 21052935424. 4

Question Number : 107 Question Id : 2105299022 Question Type : MCQ Option Shuffling : No Is Question Mandatory : No Calculator : None Response Time : N.A Think Time : N.A Minimum Instruction Time : 0

Correct Marks : 2 Wrong Marks : 0

What is the maximum penalty to be imposed under the Negotiable Instruments Act for bouncing of a cheque?

- 1. 6 months
- 2. 1 year
- 3. 2 years
- 4. 5 years

Options :

- 21052935425. 1
- 21052935426. 2
- 21052935427. 3
- 21052935428. 4

Question Number : 107 Question Id : 2105299022 Question Type : MCQ Option Shuffling : No Is Question Mandatory : No Calculator : None Response Time : N.A Think Time : N.A Minimum Instruction Time : 0

Correct Marks : 2 Wrong Marks : 0

चैक बाऊंसिंग के लिए एनआई अधिनियम के अंतर्गत लगाया जानेवाला अधिकतम दण्ड क्या है ?

1. 6 माह
2. 1 वर्ष
3. 2 वर्ष
4. 5 वर्ष

Options :

21052935425. 1
21052935426. 2
21052935427. 3
21052935428. 4

Question Number : 108 Question Id : 2105299023 Question Type : MCQ Option Shuffling : No Is Question Mandatory : No Calculator : None Response Time : N.A Think Time : N.A Minimum Instruction Time : 0

Correct Marks : 2 Wrong Marks : 0

Given below are two statements, one is labelled as **Assertion A** and the other is labelled as **Reason R**

Assertion A: The main cause of commercial bank failure is because of providing inappropriate loans to bank insiders

Reason R: Bank employees are provided loans at lower interest rates

In light of the above statements, choose the **most appropriate** answer from the options given below

1. Both **A** and **R** are correct and **R** is the correct explanation of **A**
2. Both **A** and **R** are correct but **R** is **NOT** the correct explanation of **A**
3. **A** is correct but **R** is not correct
4. **A** is not correct but **R** is correct

Options :

21052935429. 1
21052935430. 2
21052935431. 3
21052935432. 4

Question Number : 108 Question Id : 2105299023 Question Type : MCQ Option Shuffling : No Is Question Mandatory : No Calculator : None Response Time : N.A Think Time : N.A Minimum Instruction Time : 0

Correct Marks : 2 Wrong Marks : 0

नीचे दो कथन दिए गए हैं : एक को अभिकथन (A) और दूसरे को तर्क (R) कहा गया है :

अभिकथन (A) : वाणिज्यिक बैंक के असफल होने का मुख्य कारण बैंक अंतरंगियों (इनसाईडर्स) को अनुचित ऋण उपलब्ध करवाना है।

तर्क (R) : बैंक कर्मचारियों को कमतर ब्याज दरों पर ऋण उपलब्ध करवाए जाते हैं।

उपर्युक्त कथनों के आलोक में निम्नांकित विकल्पों में से सर्वाधिक उपयुक्त उत्तर चुनें :

1. (A) और (R) दोनों सही हैं और (R), (A) की सही व्याख्या है।
2. (A) और (R) दोनों सही हैं और (R), (A) की सही व्याख्या नहीं है।
3. (A) सही है परन्तु (R) सही नहीं है।
4. (A) सही नहीं है परन्तु (R) सही है।

Options :

21052935429. 1

21052935430. 2

21052935431. 3

21052935432. 4

Question Number : 109 Question Id : 2105299024 Question Type : MCQ Option Shuffling : No Is Question Mandatory : No Calculator : None Response Time : N.A Think Time : N.A Minimum Instruction Time : 0

Correct Marks : 2 Wrong Marks : 0

Seigniorage in banking means

- A. The economic cost of providing a currency within a given economy
- B. The difference between the face value of money and the cost of providing it
- C. The cost involved in running ATMs
- D. The costs of making debit/credit cards in an economy

Choose the **correct** answer from the options given below:

1. A and C only
2. B and C only
3. B and D only
4. A and B only

Options :

21052935433. 1

21052935434. 2

21052935435. 3

21052935436. 4

Question Number : 109 Question Id : 2105299024 Question Type : MCQ Option Shuffling : No Is Question Mandatory : No Calculator : None Response Time : N.A Think Time : N.A Minimum Instruction Time : 0

Correct Marks : 2 Wrong Marks : 0

बैंकिंग में सलाह सिक्का ढलाई का अभिप्राय है :

- A. किसी दी गई अर्थव्यवस्था के अंदर मुद्रा उपलब्ध करवाने की आर्थिक लागत
- B. मुद्रा के अंकित मूल्य और इसको उपलब्ध करवाने की लागत के बीच का अंतर
- C. ए टी एम चलाने में शामिल लागत
- D. एक अर्थव्यवस्था में डेबिट / क्रेडिट कार्ड्स बनाने की लागत

नीचे दिए गए विकल्पों में से सही उत्तर चुनिये :

- 1. केवल A और C
- 2. केवल B और C
- 3. केवल B और D
- 4. केवल A और B

Options :

- 21052935433. 1
- 21052935434. 2
- 21052935435. 3
- 21052935436. 4

Question Number : 110 Question Id : 2105299025 Question Type : MCQ Option Shuffling : No Is Question Mandatory : No Calculator : None Response Time : N.A Think Time : N.A Minimum Instruction Time : 0

Correct Marks : 2 Wrong Marks : 0

Markowitz theory of portfolio management considers which of the following assumptions?

- A. Investors are pessimistic about start-ups but optimistic about an established business
- B. Investors have free access to fair and correct information on return and risk
- C. Investors have a tendency to lean towards cryptocurrencies
- D. Investors are rational and maximize their utility with a given level of income and money

Choose the **correct** answer from the options given below:

- 1. A and B only
- 2. B and D only
- 3. C and D only
- 4. A and C only

Options :

- 21052935437. 1
- 21052935438. 2
- 21052935439. 3
- 21052935440. 4

Question Number : 110 Question Id : 2105299025 Question Type : MCQ Option Shuffling : No Is Question Mandatory : No Calculator : None Response Time : N.A Think Time : N.A Minimum Instruction Time : 0

Correct Marks : 2 Wrong Marks : 0

मॉर्कोविटज़ के पोर्टफोलियो प्रबंधन सिद्धांत निम्नलिखित पूर्वधारणाओं पर विचार करता है :

- A. निवेशक स्टार्ट - अपस के प्रति निराशावादी हैं परन्तु स्थापित व्यापार के प्रति आशावादी हैं।
- B. निवेशकों की प्रतिफल एवं जोखिम पर उचित तथा सही सूचना तक मुक्त पहुँच है।
- C. क्रिप्टोमुद्रा (क्रिप्टोकॉइन्स) के प्रति निवेशकों की झुकाव की प्रवृत्ति है।
- D. निवेशक समझदार हैं और वे दी गई आय तथा धन के स्तर के साथ अपनी प्रयोज्यता को बढ़ाते हैं।

नीचे दिए गए विकल्पों में से सही उत्तर चुनिये :

- 1. केवल A और B
- 2. केवल B और D
- 3. केवल C और D
- 4. केवल A और C

Options :

- 21052935437. 1
- 21052935438. 2
- 21052935439. 3
- 21052935440. 4

Question Number : 111 Question Id : 2105299026 Question Type : MCQ Option Shuffling : No Is Question Mandatory : No Calculator : None Response Time : N.A Think Time : N.A Minimum Instruction Time : 0

Correct Marks : 2 Wrong Marks : 0

Banking Cash Transaction Tax (BCTT) was introduced with effect from

- 1. 1st Jan, 2015
- 2. 1st June, 2005
- 3. 1st Jan, 2019
- 4. 1st June, 2009

Options :

- 21052935441. 1
- 21052935442. 2
- 21052935443. 3
- 21052935444. 4

Question Number : 111 Question Id : 2105299026 Question Type : MCQ Option Shuffling : No Is Question Mandatory : No Calculator : None Response Time : N.A Think Time : N.A Minimum Instruction Time : 0

Correct Marks : 2 Wrong Marks : 0

इस तिथि से बैंकिंग ट्रांजेक्शन टैक्स (बी सी टी टी) आरंभ किया गया :

1. एक जनवरी, 2015
2. एक जून, 2005
3. एक जनवरी, 2019
4. एक जून, 2009

Options :

21052935441. 1
21052935442. 2
21052935443. 3
21052935444. 4

Question Number : 112 Question Id : 2105299027 Question Type : MCQ Option Shuffling : No Is Question Mandatory : No Calculator : None Response Time : N.A Think Time : N.A Minimum Instruction Time : 0

Correct Marks : 2 Wrong Marks : 0

नीचे दो कथन दिए गए हैं : एक को अभिकथन (A) और दूसरे को तर्क (R) कहा गया है :

अभिकथन (A) : वाल्ट. डब्ल्यू. रौस्टो के अनुसार, गति प्राप्त करने के लिए आवश्यक विकास की प्रमुख नीति में घरेलू और विदेशी बचतों को जुटाना शामिल है।

तर्क (R) : आर्थिक विकास की गति बढ़ाने के लिए पर्याप्त निवेश के सृजन हेतु घरेलू और विदेशी बचतों को जुटाना है।

उपर्युक्त कथनों के आलोक में निम्नांकित विकल्पों में से सही उत्तर चुनें :

1. (A) और (R) दोनों सही हैं और (R), (A) की सही व्याख्या है।
2. (A) और (R) दोनों सही हैं और (R), (A) की सही व्याख्या नहीं है।
3. (A) सही है परन्तु (R) सही नहीं है।
4. (A) सही नहीं है परन्तु (R) सही है।

Options :

21052935445. 1
21052935446. 2
21052935447. 3
21052935448. 4

Question Number : 112 Question Id : 2105299027 Question Type : MCQ Option Shuffling : No Is Question Mandatory : No Calculator : None Response Time : N.A Think Time : N.A Minimum Instruction Time : 0

Correct Marks : 2 Wrong Marks : 0

Given below are two statements, one is labelled as **Assertion A** and the other is labelled as **Reason R**

Assertion A: According to Walt W. Rostow, the Principle Strategy of Development necessary for take-off was the mobilization of domestic and foreign savings

Reason R: Mobilization of domestic and foreign savings is necessary to generate sufficient investment to accelerate economic growth

In light of the above statements, choose the **correct** answer from the options given below

1. Both **A** and **R** are true and **R** is the correct explanation of **A**
2. Both **A** and **R** are true but **R** is **NOT** the correct explanation of **A**
3. **A** is true but **R** is false
4. **A** is false but **R** is true

Options :

- 21052935445. 1
- 21052935446. 2
- 21052935447. 3
- 21052935448. 4

Question Number : 113 Question Id : 2105299028 Question Type : MCQ Option Shuffling : No Is Question Mandatory : No Calculator : None Response Time : N.A Think Time : N.A Minimum Instruction Time : 0

Correct Marks : 2 Wrong Marks : 0

According to traditional neoclassical growth theory, output growth results from

- A. Increase in labour quantity and quality
- B. Increase in capital
- C. Increase in exports
- D. Improvement in technology

Choose the **correct** answer from the options given below:

1. A, B and C only
2. A and B only
3. B and C only
4. A, B and D only

Options :

- 21052935449. 1
- 21052935450. 2
- 21052935451. 3
- 21052935452. 4

Question Number : 113 Question Id : 2105299028 Question Type : MCQ Option Shuffling : No Is Question Mandatory : No Calculator : None Response Time : N.A Think Time : N.A Minimum Instruction Time : 0

Correct Marks : 2 Wrong Marks : 0

पारंपारिक नवशास्त्रीय वृद्धि सिद्धांत के अनुसार निर्गम संवृद्धि किसके परिणामस्वरूप होती है :

- A. श्रम की मात्रा एवं गुणवत्ता में वृद्धि से
- B. पूंजी की वृद्धि से
- C. निर्यातों में वृद्धि से
- D. प्रौद्योगिकी में सुधार से

नीचे दिए गए विकल्पों में से सबसे उपयुक्त उत्तर का चयन करें :

- 1. केवल A, B और C
- 2. केवल A और B
- 3. केवल B और C
- 4. केवल A, B और D

Options :

- 21052935449. 1
- 21052935450. 2
- 21052935451. 3
- 21052935452. 4

Question Number : 114 Question Id : 2105299029 Question Type : MCQ Option Shuffling : No Is Question Mandatory : No Calculator : None Response Time : N.A Think Time : N.A Minimum Instruction Time : 0

Correct Marks : 2 Wrong Marks : 0

Given below are two statements

Statement I: The endogeneous growth theorists suggest, investment in human capital, innovation and knowledge leads to economic growth

Statement II: Investment in human capital, innovation and knowledge reduces the diminishing returns on investment

In light of the above statements, choose the **most appropriate** answer from the options given below

- 1. Both Statement I and Statement II are correct
- 2. Both Statement I and Statement II are incorrect
- 3. Statement I is correct but Statement II is incorrect
- 4. Statement I is incorrect but Statement II is correct

Options :

- 21052935453. 1
- 21052935454. 2
- 21052935455. 3
- 21052935456. 4

Question Number : 114 Question Id : 2105299029 Question Type : MCQ Option Shuffling : No Is Question Mandatory : No Calculator : None Response Time : N.A Think Time : N.A Minimum Instruction Time : 0

Correct Marks : 2 Wrong Marks : 0

नीचे दो कथन दिए गए हैं :

कथन-I : अंतः प्रवर्धी वृद्धि सिद्धांतों के प्रवर्तक यह सुझाव देते हैं कि मानव पूंजी, नवाचार एवं ज्ञान के क्षेत्र में निवेश से आर्थिक विकास होता है।

कथन-II : मानवपूंजी, नवाचार एवं ज्ञान के क्षेत्र में निवेश करने से निवेश पर हासमान प्रतिफल कम होता है।

उपर्युक्त कथनों के आलोक में निम्नांकित विकल्पों में से सही उत्तर चुनें :

1. कथन I और II दोनों सही हैं।
2. कथन I और II दोनों गलत हैं।
3. कथन-I सत्य है, किन्तु कथन-II गलत है।
4. कथन-I असत्य है, किन्तु कथन-II सही है।

Options :

21052935453. 1

21052935454. 2

21052935455. 3

21052935456. 4

Question Number : 115 Question Id : 2105299030 Question Type : MCQ Option Shuffling : No Is Question Mandatory : No Calculator : None Response Time : N.A Think Time : N.A Minimum Instruction Time : 0

Correct Marks : 2 Wrong Marks : 0

A decision free framework to identify a country's most binding constraints on economic growth is termed as

1. Growth paradigm
2. Growth diagnostics
3. Growth stimulus
4. Growth paradox

Options :

21052935457. 1

21052935458. 2

21052935459. 3

21052935460. 4

Question Number : 115 Question Id : 2105299030 Question Type : MCQ Option Shuffling : No Is Question Mandatory : No Calculator : None Response Time : N.A Think Time : N.A Minimum Instruction Time : 0

Correct Marks : 2 Wrong Marks : 0

आर्थिक वृद्धि पर किसी देश की सर्वाधिक बाध्यकारी बाधाओं की पहचान करने के लिए निर्णय मुक्त ढाँचें को कहा जाता है :

1. वृद्धि प्रतिमान
2. वृद्धि नैदानिक
3. वृद्धि उद्दीपक
4. वृद्धि विरोधाभास

Options :

21052935457. 1
21052935458. 2
21052935459. 3
21052935460. 4

Question Number : 116 Question Id : 2105299031 Question Type : MCQ Option Shuffling : No Is Question Mandatory : No Calculator : None Response Time : N.A Think Time : N.A Minimum Instruction Time : 0

Correct Marks : 2 Wrong Marks : 0

Arrange the following growth economists in chronological order of when they proposed their theories

- A. Harrod
- B. Schumpeter
- C. Rostow
- D. Solow

Choose the **correct** answer from the options given below:

1. B, A, C, D
2. C, D, B, A
3. A, C, D, B
4. D, B, A, C

Options :

21052935461. 1
21052935462. 2
21052935463. 3
21052935464. 4

Question Number : 116 Question Id : 2105299031 Question Type : MCQ Option Shuffling : No Is Question Mandatory : No Calculator : None Response Time : N.A Think Time : N.A Minimum Instruction Time : 0

Correct Marks : 2 Wrong Marks : 0

निम्नलिखित संवृद्धि अर्थशास्त्रीयों को उनके सिद्धांत काल क्रमानुसार व्यवस्थित कीजिए :

A. हेरोड

B. शूम्पटर

C. रोस्टो

D. सोलो

नीचे दिए गए विकल्पों में से सही उत्तर चुनिये :

1. B, A, C, D

2. C, D, B, A

3. A, C, D, B

4. D, B, A, C

Options :

21052935461. 1

21052935462. 2

21052935463. 3

21052935464. 4

Question Number : 117 Question Id : 2105299032 Question Type : MCQ Option Shuffling : No Is Question Mandatory : No Calculator : None Response Time : N.A Think Time : N.A Minimum Instruction Time : 0

Correct Marks : 2 Wrong Marks : 0

A growth model in which there are diminishing returns on each factor of production but constant returns to scale and exogenous technological change that generates long term economic growth is the

1. Leibenstein model

2. A. K. Sen model

3. Kalecki model

4. Solow model

Options :

21052935465. 1

21052935466. 2

21052935467. 3

21052935468. 4

Question Number : 117 Question Id : 2105299032 Question Type : MCQ Option Shuffling : No Is Question Mandatory : No Calculator : None Response Time : N.A Think Time : N.A Minimum Instruction Time : 0

Correct Marks : 2 Wrong Marks : 0

वह संवृद्धि प्रतिमान (ग्रोथ मॉडल) जिसमें उत्पादन के प्रत्येक साधन के हासमान प्रतिलाभ हैं, पर पैमाने के स्थिर प्रतिलाभ हैं और बहिर्जात प्रौद्योगिकी परिवर्तन से दीर्घकालिक आर्थिक संवृद्धि होती है, कहलाता है :

1. लैबेन्स्टीन प्रतिमान
2. ए.के.सेन प्रतिमान
3. केलकी प्रतिमान
4. सोलो प्रतिमान

Options :

21052935465. 1
21052935466. 2
21052935467. 3
21052935468. 4

Question Number : 118 Question Id : 2105299033 Question Type : MCQ Option Shuffling : No Is Question Mandatory : No Calculator : None Response Time : N.A Think Time : N.A Minimum Instruction Time : 0

Correct Marks : 2 Wrong Marks : 0

A graph reflecting the relationship between a country's per capita income and its inequality of income distribution is the

1. Lorenz Curve
2. Phillips Curve
3. Laffer Curve
4. Kuznets Curve

Options :

21052935469. 1
21052935470. 2
21052935471. 3
21052935472. 4

Question Number : 118 Question Id : 2105299033 Question Type : MCQ Option Shuffling : No Is Question Mandatory : No Calculator : None Response Time : N.A Think Time : N.A Minimum Instruction Time : 0

Correct Marks : 2 Wrong Marks : 0

किसी देश की प्रति व्यक्ति आय तथा आय वितरण में असमानता के बीच संबंध को निरूपित करने वाला ग्राफ दर्शाता है :

1. लॉरेंज वक्र
2. फिलिप्स वक्र
3. लैफर वक्र
4. कुजनेट वक्र

Options :

21052935469. 1
21052935470. 2
21052935471. 3
21052935472. 4

Question Number : 119 Question Id : 2105299034 Question Type : MCQ Option Shuffling : No Is Question Mandatory : No Calculator : None Response Time : N.A Think Time : N.A Minimum Instruction Time : 0

Correct Marks : 2 Wrong Marks : 0

Match **List I** with **List II**

List I	List II
A. Critical Minimum Effort Theory	I. C. P. Blacker
B. Neo-Classical Growth Model	II. W. W. Rostow
C. Demographic Transition Theory	III. R. Solow
D. Age of High Mass Consumption	IV. H. Leibenstein

Choose the **correct** answer from the options given below:

1. A - II, B - I, C - III, D - IV
2. A - III, B - IV, C - II, D - I
3. A - I, B - II, C - IV, D - III
4. A - IV, B - III, C - I, D - II

Options :

21052935473. 1

21052935474. 2

21052935475. 3

21052935476. 4

Question Number : 119 Question Id : 2105299034 Question Type : MCQ Option Shuffling : No Is Question Mandatory : No Calculator : None Response Time : N.A Think Time : N.A Minimum Instruction Time : 0

Correct Marks : 2 Wrong Marks : 0

सूची-I को सूची-II के साथ सुमेलित कीजिए :

सूची-I	सूची-II
A. क्रांतिक न्यूनतम प्रयास सिद्धांत (क्रिटिकल मिनिमम एफर्ट थ्योरी)	I. सी पी ब्लैकर
B. नियो क्लासिकल संवृद्धि प्रतिमान	II. डब्ल्यू डब्ल्यू रोस्टो
C. जनांकिकीय संक्रमण सिद्धांत (डेमोग्राफिक ट्रांजिशन थ्योरी)	III. आर सोलो
D. उच्च जनसमूह उपभोग युग (एज ऑफ हाई मासकन्जप्शन)	IV. एच लेबिनस्टिन

नीचे दिए गए विकल्पों में से सही उत्तर चुनिए :

1. A - II, B - I, C - III, D - IV
2. A - III, B - IV, C - II, D - I
3. A - I, B - II, C - IV, D - III
4. A - IV, B - III, C - I, D - II

Options :

21052935473. 1

21052935474. 2

21052935475. 3

21052935476. 4

Question Number : 120 Question Id : 2105299035 Question Type : MCQ Option Shuffling : No Is Question Mandatory : No Calculator : None Response Time : N.A Think Time : N.A Minimum Instruction Time : 0

Correct Marks : 2 Wrong Marks : 0

Harrod-Domar considers a functional economic relationship in which the growth rate of the gross domestic product depends

- A. Directly on the national net savings rate
- B. Inversely on the national capital-output ratio
- C. Directly on industrial growth
- D. Inversely on agricultural growth

Choose the **correct** answer from the options given below:

- 1. A and B only
- 2. A and C only
- 3. B and D only
- 4. C and D only

Options :

21052935477. 1

21052935478. 2

21052935479. 3

21052935480. 4

Question Number : 120 Question Id : 2105299035 Question Type : MCQ Option Shuffling : No Is Question Mandatory : No Calculator : None Response Time : N.A Think Time : N.A Minimum Instruction Time : 0

Correct Marks : 2 Wrong Marks : 0

हैरोड - डॉमर एक ऐसी प्रकार्यात्मक आर्थिक संबंध के बारे में बताते हैं जिसमें सफल घरेलू उत्पाद की विकास दर निर्भर करती है :

- A. राष्ट्रीय निवल बचत दर पर प्रत्यक्ष रूप से
- B. राष्ट्रीय पूंजी - उत्पादन अनुपात पर व्युत्क्रमानुपाती ढंग से
- C. औद्योगिक विकास पर प्रत्यक्ष रूप से
- D. कृषि विकास पर व्युत्क्रमानुपाती रूप से

नीचे दिए गए विकल्पों में से सही उत्तर चुनिये :

- 1. केवल A और B
- 2. केवल A और C
- 3. केवल B और D
- 4. केवल C और D

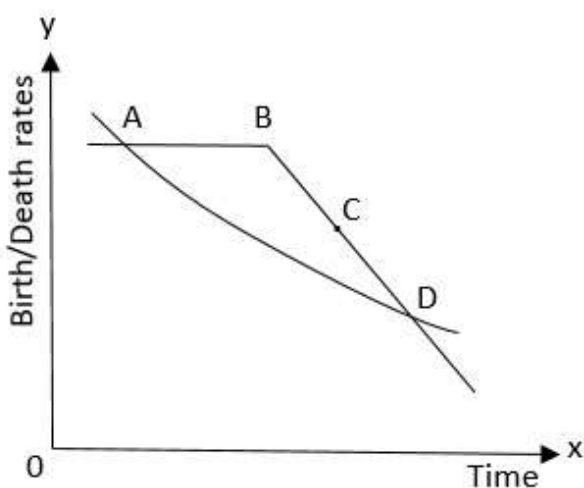
Options :

- 21052935477. 1
- 21052935478. 2
- 21052935479. 3
- 21052935480. 4

Question Number : 121 Question Id : 2105299036 Question Type : MCQ Option Shuffling : No Is Question Mandatory : No Calculator : None Response Time : N.A Think Time : N.A Minimum Instruction Time : 0

Correct Marks : 2 Wrong Marks : 0

Based on the following Blacker's stages of population growth diagram, the portion between A, B and C implies



- 1. Stage of low stationary
- 2. Population declining
- 3. Early expanding
- 4. Late expanding

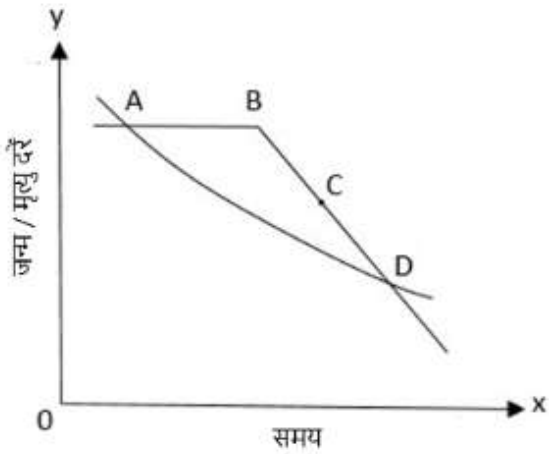
Options :

21052935481. 1
 21052935482. 2
 21052935483. 3
 21052935484. 4

Question Number : 121 Question Id : 2105299036 Question Type : MCQ Option Shuffling : No Is Question Mandatory : No Calculator : None Response Time : N.A Think Time : N.A Minimum Instruction Time : 0

Correct Marks : 2 Wrong Marks : 0

ब्लैकर के जनसंख्या वृद्धि के चरणों के निम्नलिखित चित्र के आधार पर A, B और C के मध्य के भाग का आशय है :



1. निम्न स्थिरता (लो स्टेशनरी) का चरण
2. जनसंख्या में गिरावट हो रही है
3. प्रारंभिक विस्तार (अर्ली एक्सपेंडिंग)
4. पश्चात् विस्तार (लेट एक्सपेंडिंग)

Options :

21052935481. 1
 21052935482. 2
 21052935483. 3
 21052935484. 4

Question Number : 122 Question Id : 2105299037 Question Type : MCQ Option Shuffling : No Is Question Mandatory : No Calculator : None Response Time : N.A Think Time : N.A Minimum Instruction Time : 0

Correct Marks : 2 Wrong Marks : 0

Match **List I** with **List II**

List I	List II
A. Karl Marx Theory of Population growth	I. Static interpretation
B. Blacker's Theory of Population growth	II. Three stages
C. Landry's Theory of Population growth	III. Four stages
D. Prof. Sidgwick's Optimum Population Theory	IV. Five stages

Choose the **correct** answer from the options given below:

1. A - II, B - III, C - IV, D - I
2. A - I, B - II, C - III, D - IV
3. A - III, B - IV, C - II, D - I
4. A - IV, B - II, C - I, D - III

Options :

21052935485. 1
21052935486. 2
21052935487. 3
21052935488. 4

Question Number : 122 Question Id : 2105299037 Question Type : MCQ Option Shuffling : No Is Question Mandatory : No Calculator : None Response Time : N.A Think Time : N.A Minimum Instruction Time : 0

Correct Marks : 2 Wrong Marks : 0

सूची-I को सूची-II के साथ सुमेलित कीजिए :

सूची-I	सूची-II
A. कार्ल मार्क्स का जनसंख्या वृद्धि का सिद्धांत	I. स्थिर व्याख्या (स्टेटिक इंटरप्रीटेशन)
B. ब्लैकर का जनसंख्या वृद्धि का सिद्धांत	II. तीन चरण
C. लैंड्री का जनसंख्या वृद्धि का सिद्धांत	III. चार चरण
D. प्रोफेसर सिगविक्स का आदर्श जनसंख्या सिद्धांत	IV. पाँच चरण

नीचे दिए गए विकल्पों में से सही उत्तर चुनिए :

1. A - II, B - III, C - IV, D - I
2. A - I, B - II, C - III, D - IV
3. A - III, B - IV, C - II, D - I
4. A - IV, B - II, C - I, D - III

Options :

21052935485. 1
21052935486. 2
21052935487. 3
21052935488. 4

Question Number : 123 Question Id : 2105299038 Question Type : MCQ Option Shuffling : No Is Question Mandatory : No Calculator : None Response Time : N.A Think Time : N.A Minimum Instruction Time : 0

Correct Marks : 2 Wrong Marks : 0

Match **List I** with **List II**

List I	List II
A. Kerala	I. Least urbanized
B. Punjab	II. Highest percentage of S.C's in their population
C. Himachal Pradesh	III. Highest percentage of S.T's in their population
D. Madhya Pradesh	IV. Highest sex ratio

Choose the **correct** answer from the options given below:

1. A - IV, B - II, C - I, D - III
2. A - I, B - III, C - II, D - IV
3. A - II, B - I, C - III, D - IV
4. A - IV, B - I, C - III, D - II

Options :

21052935489. 1
21052935490. 2
21052935491. 3
21052935492. 4

Question Number : 123 Question Id : 2105299038 Question Type : MCQ Option Shuffling : No Is Question Mandatory : No Calculator : None Response Time : N.A Think Time : N.A Minimum Instruction Time : 0

Correct Marks : 2 Wrong Marks : 0

सूची-I को सूची-II के साथ सुमेलित कीजिए :

सूची-I	सूची-II
A. केरल	I. कम शहरीकृत
B. पंजाब	II. उनकी जनसंख्या में अनुसूचित जातियों की उच्चतम प्रतिशतता
C. हिमाचल प्रदेश	III. अनुसूचित जनजातियों की उच्चतम प्रतिशतता
D. मध्यप्रदेश	IV. उच्चतम लिंग अनुपात

नीचे दिए गए विकल्पों में से सही उत्तर चुनिए :

1. A - IV, B - II, C - I, D - III
2. A - I, B - III, C - II, D - IV
3. A - II, B - I, C - III, D - IV
4. A - IV, B - I, C - III, D - II

Options :

21052935489. 1
21052935490. 2
21052935491. 3
21052935492. 4

Question Number : 124 Question Id : 2105299039 Question Type : MCQ Option Shuffling : No Is Question Mandatory : No Calculator : None Response Time : N.A Think Time : N.A Minimum Instruction Time : 0

Correct Marks : 2 Wrong Marks : 0

Population Density refers to

1. Number of male persons per square kilometer
2. Number of persons per cubic kilometer
3. Number of persons per square kilometer
4. Number of persons per 10 kilometers

Options :

21052935493. 1

21052935494. 2

21052935495. 3

21052935496. 4

Question Number : 124 Question Id : 2105299039 Question Type : MCQ Option Shuffling : No Is Question Mandatory : No Calculator : None Response Time : N.A Think Time : N.A Minimum Instruction Time : 0

Correct Marks : 2 Wrong Marks : 0

जनसंख्या घनत्व संदर्भित करता है :

1. प्रत्येक वर्ग किलोमीटर में पुरुषों की संख्या को
2. प्रत्येक घन किलोमीटर में व्यक्तियों की संख्या को
3. प्रत्येक वर्ग किलोमीटर में व्यक्तियों की संख्या को
4. प्रत्येक दस किलोमीटर में व्यक्तियों की संख्या को

Options :

21052935493. 1

21052935494. 2

21052935495. 3

21052935496. 4

Question Number : 125 Question Id : 2105299040 Question Type : MCQ Option Shuffling : No Is Question Mandatory : No Calculator : None Response Time : N.A Think Time : N.A Minimum Instruction Time : 0

Correct Marks : 2 Wrong Marks : 0

Given below are two statements

Statement I: Growth in infrastructure is considered as an essential pre-requisite for stepping up GDP growth

Statement II: It is vitally important to increase capital formation in India

In light of the above statements, choose the **most appropriate** answer from the options given below

1. Both Statement I and Statement II are not correct
2. Statement I is correct but Statement II is incorrect
3. Both Statement I and Statement II are correct
4. Statement I is incorrect but Statement II is correct

Options :

21052935497. 1
21052935498. 2
21052935499. 3
21052935500. 4

Question Number : 125 Question Id : 2105299040 Question Type : MCQ Option Shuffling : No Is Question Mandatory : No Calculator : None Response Time : N.A Think Time : N.A Minimum Instruction Time : 0

Correct Marks : 2 Wrong Marks : 0

नीचे दो कथन दिए गए हैं :

कथन-I : आधारभूत संरचना में संवृद्धि को जीडीपी संवृद्धि के लिए अनिवार्य शर्त माना जाता है।

कथन-II : भारत में पूंजी के निर्माण में वृद्धि अत्यंत महत्त्वपूर्ण है।

उपर्युक्त कथनों के आलोक में निम्नांकित विकल्पों में से सही उत्तर चुनें :

1. कथन I और कथन II दोनों गलत हैं।
2. कथन I सही है और कथन II गलत है
3. दोनों कथन I और कथन II सही हैं
4. कथन I गलत है और कथन II सही है

Options :

21052935497. 1
21052935498. 2
21052935499. 3
21052935500. 4

Question Number : 126 Question Id : 2105299041 Question Type : MCQ Option Shuffling : No Is Question Mandatory : No Calculator : None Response Time : N.A Think Time : N.A Minimum Instruction Time : 0

Correct Marks : 2 Wrong Marks : 0

Given below are two statements

Statement I: Industrialization strategy advocates trade and development to overcome market failures through government policy

Statement II: It encourages technology transfer and exports of progressively more advanced products

In light of the above statements, choose the **correct** answer from the options given below

1. Both Statement I and Statement II are false
2. Statement I is true but Statement II is false
3. Statement I is false but Statement II is true
4. Both Statement I and Statement II are true

Options :

- 21052935501. 1
- 21052935502. 2
- 21052935503. 3
- 21052935504. 4

Question Number : 126 Question Id : 2105299041 Question Type : MCQ Option Shuffling : No Is Question Mandatory : No Calculator : None Response Time : N.A Think Time : N.A Minimum Instruction Time : 0

Correct Marks : 2 Wrong Marks : 0

नीचे दो कथन दिए गए हैं :

कथन-I : औद्योगिक नीति जो सरकारी नीति के माध्यम से बाजार की असफलता से उबरने के लिए व्यापार और विकास की वकालत करती है।

कथन-II : यह प्रौद्योगिकी अंतरण को प्रोत्साहित करता है और अधिक उन्नत उत्पादों का उत्तरोत्तर निर्यात करता है।

उपर्युक्त कथनों के आलोक में निम्नांकित विकल्पों में से सही उत्तर चुनें :

1. कथन I और II दोनों सही नहीं हैं।
2. केवल कथन-I सही है।
3. केवल कथन-II सही है।
4. कथन I और II दोनों सही हैं।

Options :

- 21052935501. 1
- 21052935502. 2
- 21052935503. 3
- 21052935504. 4

Question Number : 127 Question Id : 2105299042 Question Type : MCQ Option Shuffling : No Is Question Mandatory : No Calculator : None Response Time : N.A Think Time : N.A Minimum Instruction Time : 0

Correct Marks : 2 Wrong Marks : 0

Growth rate of population is

1. Rate at which population increases per 1000 per annum
2. Rate at which birth rate increases per 1000 per annum
3. Rate at which population increases per 10,000 per annum
4. Rate at which fertility rate increases per annum

Options :

- 21052935505. 1
- 21052935506. 2
- 21052935507. 3
- 21052935508. 4

Question Number : 127 Question Id : 2105299042 Question Type : MCQ Option Shuffling : No Is Question Mandatory : No Calculator : None Response Time : N.A Think Time : N.A Minimum Instruction Time : 0

Correct Marks : 2 Wrong Marks : 0

जनसंख्या की वृद्धि दर है :

1. जिसमें जनसंख्या प्रतिवर्ष प्रति 1000 की दर से बढ़ती है।
2. जिसमें जन्म दर प्रतिवर्ष प्रति 1000 की दर से बढ़ती है।
3. जिसमें जनसंख्या प्रतिवर्ष प्रति 10,000 की दर से बढ़ती है।
4. जिसमें प्रजनन दर प्रतिवर्ष बढ़ती है।

Options :

- 21052935505. 1
- 21052935506. 2
- 21052935507. 3
- 21052935508. 4

Question Number : 128 Question Id : 2105299043 Question Type : MCQ Option Shuffling : No Is Question Mandatory : No Calculator : None Response Time : N.A Think Time : N.A Minimum Instruction Time : 0

Correct Marks : 2 Wrong Marks : 0

Account payee crossing is defined in which section of the Negotiable Instruments (NI) Act?

1. Section 123
2. Section 124
3. Section 125
4. Not defined in NI Act

Options :

- 21052935509. 1
- 21052935510. 2
- 21052935511. 3
- 21052935512. 4

Question Number : 128 Question Id : 2105299043 Question Type : MCQ Option Shuffling : No Is Question Mandatory : No Calculator : None Response Time : N.A Think Time : N.A Minimum

Instruction Time : 0

Correct Marks : 2 Wrong Marks : 0

आदाता खाता क्रॉसिंग (Account Payee Crossing) को परक्राम्य दस्तावेज अधिनियम की किस धारा में परिभाषित किया गया है -

1. धारा 123
2. धारा 124
3. धारा 125
4. एन आई अधिनियम में अपरिभाषित

Options :

21052935509. 1
21052935510. 2
21052935511. 3
21052935512. 4

Question Number : 129 Question Id : 2105299044 Question Type : MCQ Option Shuffling : No Is Question Mandatory : No Calculator : None Response Time : N.A Think Time : N.A Minimum Instruction Time : 0

Correct Marks : 2 Wrong Marks : 0

According to the last Census (2011), which Indian state has the minimum sex ratio?

1. Punjab
2. Delhi
3. Bihar
4. Haryana

Options :

21052935513. 1
21052935514. 2
21052935515. 3
21052935516. 4

Question Number : 129 Question Id : 2105299044 Question Type : MCQ Option Shuffling : No Is Question Mandatory : No Calculator : None Response Time : N.A Think Time : N.A Minimum Instruction Time : 0

Correct Marks : 2 Wrong Marks : 0

जनगणना (2011) के अनुसार भारत के किस राज्य में न्यूनतम लिंग अनुपात है ?

1. पंजाब
2. दिल्ली
3. बिहार
4. हरियाणा

Options :

21052935513. 1
21052935514. 2
21052935515. 3
21052935516. 4

Question Number : 130 Question Id : 2105299045 Question Type : MCQ Option Shuffling : No Is Question Mandatory : No Calculator : None Response Time : N.A Think Time : N.A Minimum Instruction Time : 0

Correct Marks : 2 Wrong Marks : 0

According to Economic Survey, 2019, the top five trading partners of India continue to be USA, China, UAE and

- A. Saudi Arabia
- B. Hong Kong
- C. Singapore
- D. Srilanka

Choose the **correct** answer from the options given below:

- 1. C and D only
- 2. B and C only
- 3. A and D only
- 4. A and B only

Options :

- 21052935517. 1
- 21052935518. 2
- 21052935519. 3
- 21052935520. 4

Question Number : 130 Question Id : 2105299045 Question Type : MCQ Option Shuffling : No Is Question Mandatory : No Calculator : None Response Time : N.A Think Time : N.A Minimum Instruction Time : 0

Correct Marks : 2 Wrong Marks : 0

आर्थिक सर्वेक्षण - 2019 के अनुसार, भारत के पाँच शीर्ष व्यापार साझेदार - अमेरिका, चीन, यू.ए.ई. के अलावा और कौन कौन बने रहेंगे -

- A. सऊदी अरब
- B. हाँगकाँग
- C. सिंगापुर
- D. श्रीलंका

नीचे दिए गए विकल्पों में से सर्वाधिक उपयुक्त उत्तर चुनिये :

- 1. केवल C और D
- 2. केवल B और C
- 3. केवल A और D
- 4. केवल A और B

Options :

- 21052935517. 1
- 21052935518. 2
- 21052935519. 3
- 21052935520. 4

Question Number : 131 Question Id : 2105299046 Question Type : MCQ Option Shuffling : No Is Question Mandatory : No Calculator : None Response Time : N.A Think Time : N.A Minimum Instruction Time : 0

Correct Marks : 2 Wrong Marks : 0

Who said, "I believe that the objective for disinvestment should be to benefit the public, the consumer and the investor and at the same time to improve competitiveness and eliminate monopoly"?

- 1. Manmohan Singh
- 2. George Fernandes
- 3. Chidambaram
- 4. Yashwant Sinha

Options :

- 21052935521. 1
- 21052935522. 2
- 21052935523. 3
- 21052935524. 4

Question Number : 131 Question Id : 2105299046 Question Type : MCQ Option Shuffling : No Is Question Mandatory : No Calculator : None Response Time : N.A Think Time : N.A Minimum Instruction Time : 0

Correct Marks : 2 Wrong Marks : 0

किसने कहा है कि : "मैं मानता हूँ कि विनिवेश का उद्देश्य आमआदमी, उपभोक्ता तथा निवेशक को लाभ पहुँचाने के साथ-साथ प्रतिस्पर्धा में सुधार लाना और एकाधिकार समाप्त करना है। "

- 1. मनमोहन सिंह
- 2. जार्ज फर्नांडिज
- 3. चिदंबरम
- 4. यशवंत सिन्हा

Options :

- 21052935521. 1
- 21052935522. 2
- 21052935523. 3
- 21052935524. 4

Question Number : 132 Question Id : 2105299047 Question Type : MCQ Option Shuffling : No Is Question Mandatory : No Calculator : None Response Time : N.A Think Time : N.A Minimum Instruction Time : 0

Correct Marks : 2 Wrong Marks : 0

Given below are two statements, one is labelled as **Assertion A** and the other is labelled as **Reason R**

Assertion A: Chronic poverty is the main problem facing India

Reason R: British colonial rule has caused underdevelopment in India

In light of the above statements, choose the **most appropriate** answer from the options given below

1. Both **A** and **R** are correct and **R** is the correct explanation of **A**
2. Both **A** and **R** are correct but **R** is **NOT** the correct explanation of **A**
3. **A** is correct but **R** is not correct
4. **A** is not correct but **R** is correct

Options :

21052935525. 1
21052935526. 2
21052935527. 3
21052935528. 4

Question Number : 132 Question Id : 2105299047 Question Type : MCQ Option Shuffling : No Is Question Mandatory : No Calculator : None Response Time : N.A Think Time : N.A Minimum Instruction Time : 0

Correct Marks : 2 Wrong Marks : 0

नीचे दो कथन दिए गए हैं : एक को अभिकथन (A) और दूसरे को तर्क (R) कहा गया है :

अभिकथन (A) : जीर्ण निर्धनता भारत की मुख्य समस्या है।

तर्क (R) : ब्रिटिश औपनिवेशिक शासन के कारण भारत में कम विकास हुआ।

उपर्युक्त कथनों के आलोक में निम्नांकित विकल्पों में से सर्वाधिक उपयुक्त उत्तर चुनें :

1. (A) और (R) दोनों सही हैं और (R), (A) की सही व्याख्या है।
2. (A) और (R) दोनों सही हैं और (R), (A) की सही व्याख्या नहीं है।
3. (A) सही है परन्तु (R) सही नहीं है।
4. (A) सही नहीं है परन्तु (R) सही है।

Options :

21052935525. 1
21052935526. 2
21052935527. 3
21052935528. 4

Question Number : 133 Question Id : 2105299048 Question Type : MCQ Option Shuffling : No Is Question Mandatory : No Calculator : None Response Time : N.A Think Time : N.A Minimum Instruction Time : 0

Correct Marks : 2 Wrong Marks : 0

The share of the service sector in the Gross Value Added of India at current prices, during 2018-19 is between

1. 45 to 47 percent
2. 50 to 52 percent
3. 53 to 55 percent
4. 60 to 62 percent

Options :

21052935529. 1
21052935530. 2
21052935531. 3
21052935532. 4

Question Number : 133 Question Id : 2105299048 Question Type : MCQ Option Shuffling : No Is Question Mandatory : No Calculator : None Response Time : N.A Think Time : N.A Minimum Instruction Time : 0

Correct Marks : 2 Wrong Marks : 0

वर्ष 2018 - 19 के दौरान वर्तमान मूल्य पर भारत की सकल मूल्य वृद्धि में सेवा क्षेत्र का हिस्सा है :

1. 45 से 47 प्रतिशत के बीच
2. 50 से 52 प्रतिशत के बीच
3. 53 से 55 प्रतिशत के बीच
4. 60 से 62 प्रतिशत के बीच

Options :

21052935529. 1
21052935530. 2
21052935531. 3
21052935532. 4

Question Number : 134 Question Id : 2105299049 Question Type : MCQ Option Shuffling : No Is Question Mandatory : No Calculator : None Response Time : N.A Think Time : N.A Minimum Instruction Time : 0

Correct Marks : 2 Wrong Marks : 0

White revolution refers to boost in the production of

1. Rice
2. Milk
3. Eggs
4. Honey

Options :

21052935533. 1
21052935534. 2
21052935535. 3
21052935536. 4

Question Number : 134 Question Id : 2105299049 Question Type : MCQ Option Shuffling : No Is Question Mandatory : No Calculator : None Response Time : N.A Think Time : N.A Minimum

Instruction Time : 0

Correct Marks : 2 Wrong Marks : 0

श्वेत क्रांति किस के उत्पादन में वृद्धि से संबंधित है ?

1. चावल
2. दूध
3. अंडे
4. शहद

Options :

21052935533. 1
21052935534. 2
21052935535. 3
21052935536. 4

Question Number : 135 Question Id : 2105299050 Question Type : MCQ Option Shuffling : No Is Question Mandatory : No Calculator : None Response Time : N.A Think Time : N.A Minimum Instruction Time : 0

Correct Marks : 2 Wrong Marks : 0

The number of districts initially selected from states under the Intensive Area Development Programme (1960)

1. One district from each state
2. Three districts from three states
3. Five districts from five states
4. Seven districts from seven states

Options :

21052935537. 1
21052935538. 2
21052935539. 3
21052935540. 4

Question Number : 135 Question Id : 2105299050 Question Type : MCQ Option Shuffling : No Is Question Mandatory : No Calculator : None Response Time : N.A Think Time : N.A Minimum Instruction Time : 0

Correct Marks : 2 Wrong Marks : 0

सघन क्षेत्र विकास कार्यक्रम (1960) के अंतर्गत आरंभ में कितने जिले चुने गए थे :

1. प्रत्येक राज्य से एक जिला
2. तीन राज्यों से तीन जिले
3. पांच राज्यों से पांच जिले
4. सात राज्यों से सात जिले

Options :

21052935537. 1
21052935538. 2
21052935539. 3
21052935540. 4

Question Number : 136 Question Id : 2105299051 Question Type : MCQ Option Shuffling : No Is Question Mandatory : No Calculator : None Response Time : N.A Think Time : N.A Minimum Instruction Time : 0

Correct Marks : 2 Wrong Marks : 0

Which one of the following Committee's has been constituted for doubling farmer's income by 2022?

1. Ashok Mehta Committee
2. Naresh Chandra Committee
3. Rajeev Kumar Committee
4. Ashok Dalwai Committee

Options :

21052935541. 1
21052935542. 2
21052935543. 3
21052935544. 4

Question Number : 136 Question Id : 2105299051 Question Type : MCQ Option Shuffling : No Is Question Mandatory : No Calculator : None Response Time : N.A Think Time : N.A Minimum Instruction Time : 0

Correct Marks : 2 Wrong Marks : 0

वर्ष 2022 तक किसानों की आय दुगुनी करने के लिए निम्नलिखित में से कौन सी समिति का गठन किया गया है ?

1. अशोक मेहता समिति
2. नरेश चंद्र समिति
3. राजीव कुमार समिति
4. अशोक दलवी समिति

Options :

21052935541. 1
21052935542. 2
21052935543. 3
21052935544. 4

Question Number : 137 Question Id : 2105299052 Question Type : MCQ Option Shuffling : No Is Question Mandatory : No Calculator : None Response Time : N.A Think Time : N.A Minimum Instruction Time : 0

Correct Marks : 2 Wrong Marks : 0

Which one of the following statements is WRONG?

1. 67% of Indian agriculturists are marginal landholders with less than 1 hectare
2. 10% of agriculturists have 10 hectares or more
3. In the rural sector, land is the principal source of income
4. Due to the high growth of population, the average size of landholding is small

Options :

21052935545. 1
21052935546. 2
21052935547. 3

21052935548. 4

Question Number : 137 Question Id : 2105299052 Question Type : MCQ Option Shuffling : No Is Question Mandatory : No Calculator : None Response Time : N.A Think Time : N.A Minimum Instruction Time : 0

Correct Marks : 2 Wrong Marks : 0

निम्नलिखित में से कौन-सा कथन गलत है :

1. भारत में भूमि की सीमान्त जोत (1 हेक्टर से कम) का क्षेत्र 67% है।
2. भारत में भूमि की वृहत जोत (10 हेक्टर अथवा उससे अधिक) का क्षेत्र 10% है।
3. ग्रामीण क्षेत्र में भूमि आय का मुख्य स्रोत है।
4. जनसंख्या में अत्यधिक वृद्धि के कारण जोत का औसत आकार छोटा है।

Options :

21052935545. 1

21052935546. 2

21052935547. 3

21052935548. 4

Question Number : 138 Question Id : 2105299053 Question Type : MCQ Option Shuffling : No Is Question Mandatory : No Calculator : None Response Time : N.A Think Time : N.A Minimum Instruction Time : 0

Correct Marks : 2 Wrong Marks : 0

The combined liabilities of Centre and States as a percentage of GDP during the two years 2016-17 and 2017-18 consolidated is at

1. 69 percent
2. 67 percent
3. 68 percent
4. 66 percent

Options :

21052935549. 1

21052935550. 2

21052935551. 3

21052935552. 4

Question Number : 138 Question Id : 2105299053 Question Type : MCQ Option Shuffling : No Is Question Mandatory : No Calculator : None Response Time : N.A Think Time : N.A Minimum Instruction Time : 0

Correct Marks : 2 Wrong Marks : 0

वर्ष 2016 - 17 तथा 2017 - 18 के दौरान जीडीपी में केंद्र तथा राज्यों की सम्मिलित देयता का प्रतिशत है :

1. 69 प्रतिशत
2. 67 प्रतिशत
3. 68 प्रतिशत
4. 66 प्रतिशत

Options :

21052935549. 1

21052935550. 2

21052935551. 3

21052935552. 4

Question Number : 139 Question Id : 2105299054 Question Type : MCQ Option Shuffling : No Is Question Mandatory : No Calculator : None Response Time : N.A Think Time : N.A Minimum Instruction Time : 0

Correct Marks : 2 Wrong Marks : 0

Which of the following are the three states which secured the highest percentage of inter-se share of tax revenue among states, as per recommendations of the 14th Finance Commission?

A. Uttar Pradesh

B. Bihar

C. Madya Pradesh

D. Andhra Pradesh

Choose the **most appropriate** answer from the options given below:

1. A, B and D only

2. A, C and D only

3. A, B and C only

4. B, C and D only

Options :

21052935553. 1

21052935554. 2

21052935555. 3

21052935556. 4

Question Number : 139 Question Id : 2105299054 Question Type : MCQ Option Shuffling : No Is Question Mandatory : No Calculator : None Response Time : N.A Think Time : N.A Minimum Instruction Time : 0

Correct Marks : 2 Wrong Marks : 0

14 वें वित्त आयोग की सिफारिशों के अनुसार निम्नलिखित में से कौन से तीन राज्य हैं जिन्हें राज्यों के बीच वितरित किए जानेवाले कर - राजस्व का अधिकतम प्रतिशत प्राप्त हुआ ?

- A. उत्तरप्रदेश
- B. बिहार
- C. मध्यप्रदेश
- D. आंध्रप्रदेश

नीचे दिए गए विकल्पों में से सबसे उपयुक्त उत्तर चुनिये :

1. केवल A, B और D
2. केवल A, C और D
3. केवल A, B और C
4. केवल B, C और D

Options :

- 21052935553. 1
- 21052935554. 2
- 21052935555. 3
- 21052935556. 4

Question Number : 140 Question Id : 2105299055 Question Type : MCQ Option Shuffling : No Is Question Mandatory : No Calculator : None Response Time : N.A Think Time : N.A Minimum Instruction Time : 0

Correct Marks : 2 Wrong Marks : 0

Which of the following are forms of government borrowing?

- A. Drawing from treasury
- B. Printing of currency notes
- C. Borrowing from non-bank public institutions
- D. Borrowing from the banking system

Choose the **correct** answer from the options given below:

1. A, B and C only
2. A, B and D only
3. A, B, C and D
4. A and D only

Options :

- 21052935557. 1
- 21052935558. 2
- 21052935559. 3
- 21052935560. 4

Question Number : 140 Question Id : 2105299055 Question Type : MCQ Option Shuffling : No Is Question Mandatory : No Calculator : None Response Time : N.A Think Time : N.A Minimum Instruction Time : 0

Correct Marks : 2 Wrong Marks : 0

निम्नलिखित में से कौन से तरीके (form) को सरकारी ऋण कहा जाता है ?

1. राजकोष से आहरण करना
2. मुद्रा का मुद्रण करना
3. सार्वजनिक गैर बैंक से उधार लेना
4. बैंककारी व्यवस्था से उधार लेना

Options :

21052935557. 1

21052935558. 2

21052935559. 3

21052935560. 4

Sub-Section Number :

2

Sub-Section Id :

210529346

Question Shuffling Allowed :

Yes

Question Id : 2105299056 Question Type : COMPREHENSION Sub Question Shuffling Allowed : Yes Group Comprehension Questions : No Question Pattern Type : NonMatrix Calculator : None Response Time : N.A Think Time : N.A Minimum Instruction Time : 0

Question Numbers : (141 to 145)

Question Label : Comprehension

Read the passage carefully and answer the questions that follows

There is considerable evidence that some consumers are willing to pay more for green goods. Green goods are goods that are manufactured in an environmentally friendly way (e.g. wood products from sustainable forests, electricity produced from wind power) without a direct impact on a consumer. These are referred to as impure Public goods - a package of Private good and Public good.

Why consumers are willing to pay more for these goods is complex. Whatever the reason, it is clear some consumers are willing to pay for green actions that do not benefit them directly.

One example of green goods is 'green electricity'. Green power is simply electricity produced using renewable sources of energy. Of course, electricity itself is completely indistinguishable from non-green electricity. There are two ways in which consumers may buy green electricity; either by buying it directly or by contributing to the cost of building green electricity capacity.

Consumers are clearly willing to spend more for green electricity and their preference for green production is indicated by the recent rise in popularity of retail carbon offsets. Offsets of emissions have long been used by firms to buy and sell the obligation to reduce emissions. In the USA, new emitters setting up a business in an urban area have to 'offset' their emission additions by finding (and paying) existing firms to reduce their emissions. In recent years, firms have used offsets to effectively reduce their emissions in order to provide a green image, particularly in the case of carbon emissions.

The purchase of offsets by consumers is different when consumers buy offsets. They are making a purely voluntary contribution to the environment. Retail offsets are a way in which consumers can produce a green product from a brown product. For example, one can make his part of the flight carbon neutral by paying someone else to reduce his or her carbon emission. This is formalized in an offset market whereby sellers of offsets reduce emissions and then sell these 'reductions'.

Sub questions

Question Number : 141 Question Id : 2105299057 Question Type : MCQ Option Shuffling : No Is Question Mandatory : No Calculator : None Response Time : N.A Think Time : N.A Minimum Instruction Time : 0

Correct Marks : 2 Wrong Marks : 0

An example of green good is

- A. White paper
- B. Wind power
- C. Forest products
- D. Solar energy

Choose the **correct** answer from the options given below:

- 1. A and B only
- 2. B and C only
- 3. C and D only
- 4. B and D only

Options :

- 21052935561. 1
- 21052935562. 2
- 21052935563. 3
- 21052935564. 4

Question Number : 142 Question Id : 2105299058 Question Type : MCQ Option Shuffling : No Is Question Mandatory : No Calculator : None Response Time : N.A Think Time : N.A Minimum Instruction Time : 0

Correct Marks : 2 Wrong Marks : 0

Green Electricity means

- 1. Electricity produced from renewable sources of energy
- 2. Electricity from Thermal plants
- 3. Electricity from Gas-powered plants
- 4. Hydro-power

Options :

- 21052935565. 1
- 21052935566. 2
- 21052935567. 3
- 21052935568. 4

Question Number : 143 Question Id : 2105299059 Question Type : MCQ Option Shuffling : No Is Question Mandatory : No Calculator : None Response Time : N.A Think Time : N.A Minimum Instruction Time : 0

Correct Marks : 2 Wrong Marks : 0

Impure Public goods are

- 1. Private goods
- 2. Public goods
- 3. A package of Public and Private goods
- 4. Harmful goods for the society

Options :

- 21052935569. 1
- 21052935570. 2
- 21052935571. 3
- 21052935572. 4

Question Number : 144 Question Id : 2105299060 Question Type : MCQ Option Shuffling : No Is Question Mandatory : No Calculator : None Response Time : N.A Think Time : N.A Minimum Instruction Time : 0

Correct Marks : 2 Wrong Marks : 0

Offset of emissions are used

- A. To reduce emissions
- B. To provide green image
- C. For emission addition
- D. To satisfy consumer preferences

Choose the **correct** answer from the options given below:

- 1. A, B and C only
- 2. A, C and D only
- 3. A, B and D only
- 4. B, C and D only

Options :

- 21052935573. 1
- 21052935574. 2
- 21052935575. 3
- 21052935576. 4

Question Number : 145 Question Id : 2105299061 Question Type : MCQ Option Shuffling : No Is Question Mandatory : No Calculator : None Response Time : N.A Think Time : N.A Minimum Instruction Time : 0

Correct Marks : 2 Wrong Marks : 0

The way in which consumers can produce a green product from a brown product

- 1. Monopoly
- 2. Retail offsets
- 3. Price discrimination
- 4. Fiscal deficit

Options :

- 21052935577. 1
- 21052935578. 2
- 21052935579. 3
- 21052935580. 4

Question Id : 2105299056 Question Type : COMPREHENSION Sub Question Shuffling Allowed : Yes Group Comprehension Questions : No Question Pattern Type : NonMatrix Calculator : None

Response Time : N.A Think Time : N.A Minimum Instruction Time : 0

Question Numbers : (141 to 145)

Question Label : Comprehension

निम्नलिखित गद्यांश को पढ़िए और प्रश्नों के उत्तर दीजिए :

इस बात के पर्याप्त साक्ष्य उपलब्ध हैं कि कुछ उपभोक्ता हरित पदार्थ के लिए अधिक भुगतान करने के लिए तैयार हैं। हरित पदार्थ वे पदार्थ हैं जिनका उत्पादन पर्यावरण हितैषी विधि (यथा धारणीय वन से उत्पन्न लकड़ियाँ, पवन ऊर्जा से निर्मित बिजली) से होता है और इसका उपभोक्ता पर प्रत्यक्ष प्रभाव नहीं पड़ता है। इन्हें विशुद्ध सार्वजनिक वस्तुएं - निजी तथा सार्वजनिक वस्तु का पैकेज - कहा जाता है।

इन वस्तुओं के लिए उपभोक्ता अधिक भुगतान करने के लिए क्यों तैयार हैं, यहा एक जटिल विषय है। कारण कुछ भी हो, पर यह स्पष्ट है कि कुछ उपभोक्ता उन हरित पदार्थों के लिए अधिक भुगतान करना चाहते हैं जिनसे उनका प्रत्यक्ष लाभ नहीं है।

हरित पदार्थ का एक उदाहरण है 'हरित विद्युत' नवीकरणीय ऊर्जा स्रोतों से विद्युत का निर्माण ही हरित विद्युत है। सचमुच, गैर - हरित विद्युत से निर्मित विद्युत का पूर्णतः उद्योगीकरण किया जा सकता है चाहे इसे सीधे खरीद कर अथवा हरित विद्युत क्षमता की निर्माण लागत में योगदान देकर।

स्पष्टतः उपभोक्ता हितैषी (हरित) विद्युत के लिए अधिक खर्च करना चाहेंगे और उनकी हरित उत्पादों के लिए प्राथमिकता हालिया खुदरा कार्बन ऑफसेटों की लोकप्रियता में वृद्धि के माध्यम से प्रदर्शित होती है। उत्सर्जक ऑफसेटों का उपयोग कंपनियों द्वारा उत्सर्जनको कम करने संबंधी बाध्यता के साथ इसे बेचा और खरीदा जाता रहा है। यू.एस.ए. में, किसी शहरी क्षेत्र में नए उत्सर्जकों को व्यवस्थित की स्थापना करने में अपने उत्सर्जन अधिकताओं को 'ऑफसेट' करना पड़ा, जिसे मौजूदा कंपनियों को ढूँढकर (भुगतान करके) उनके उत्सर्जनों को कम करना पड़ा। हाल ही में, कंपनियों ने प्रभावी रूप से ऑफसेटों (अतिभार का भुगतान) का उपयोग अपने उत्सर्जनों के बचाव हेतु किया है ताकि विशेषतः कार्बन उत्सर्जन के मामले में वे एक हरित छवि बना सकें।

उपभोक्ताओं द्वारा ऑफसेटों की खरीद अलग होती है, जब उपभोक्ता ऑफसेट खरीदते हैं वे शुद्ध रूप से पर्यावरण के लिए स्वैच्छिक अंशदान करते हैं। खुदरा (रिटेल) ऑफसेट एक ऐसा तरीका है जिसमें उपभोक्ता भूरे (ब्राउन) उत्पाद से हरित उत्पाद का उत्पादन करते हैं। उदाहरण के तौरपर कोई व्यक्ति अपने कार्बन उत्सर्जन को कम करने के लिए किसी और को भुगतान करके अपने फ्लाइट कार्बन न्यूट्रल (उदासीन) बना सकता है। इसे ऑफसेट बाजार में औपचारिक रूप दिया गया है जिसमें ऑफसेटों के विक्रेता उत्सर्जन को कम करते हैं, और तब इन अवकारकों (रिडक्शन्स) को बेचते हैं।

Sub questions

Question Number : 141 Question Id : 2105299057 Question Type : MCQ Option Shuffling : No Is Question Mandatory : No Calculator : None Response Time : N.A Think Time : N.A Minimum Instruction Time : 0

Correct Marks : 2 Wrong Marks : 0

हरित वस्तु का एक उदाहरण है -

- A. सफ़ेद कागज (white paper)
- B. वायु शक्ति (wind power)
- C. वन्य उत्पाद (forest products)
- D. सौर ऊर्जा (solar energy)

नीचे दिए गए विकल्पों में से सर्वाधिक उपयुक्त उत्तर चुनिये :

- 1. केवल A और B
- 2. केवल B और C
- 3. केवल C और D
- 4. केवल B और D

Options :

- 21052935561. 1
- 21052935562. 2
- 21052935563. 3
- 21052935564. 4

Question Number : 142 Question Id : 2105299058 Question Type : MCQ Option Shuffling : No Is Question Mandatory : No Calculator : None Response Time : N.A Think Time : N.A Minimum Instruction Time : 0

Correct Marks : 2 Wrong Marks : 0

हरित विद्युत से आशय है -

- 1. नवीकरणीय ऊर्जा के स्रोतों से विद्युत का उत्पादन
- 2. थर्मल प्लांट (वाष्प संयंत्र) से विद्युत उत्पादन
- 3. गैस पावर प्लांट से विद्युत उत्पादन
- 4. जल शक्ति (हाइड्रो पावर) से विद्युत उत्पादन

Options :

- 21052935565. 1
- 21052935566. 2
- 21052935567. 3
- 21052935568. 4

Question Number : 143 Question Id : 2105299059 Question Type : MCQ Option Shuffling : No Is Question Mandatory : No Calculator : None Response Time : N.A Think Time : N.A Minimum Instruction Time : 0

Correct Marks : 2 Wrong Marks : 0

अशुद्ध सार्वजनिक वस्तुएं हैं -

- 1. निजी वस्तु
- 2. सार्वजनिक वस्तु
- 3. सार्वजनिक तथा निजी वस्तु का पैकेज
- 4. समाज के लिए हानिकारक वस्तु

Options :

- 21052935569. 1
- 21052935570. 2
- 21052935571. 3
- 21052935572. 4

Question Number : 144 Question Id : 2105299060 Question Type : MCQ Option Shuffling : No Is Question Mandatory : No Calculator : None Response Time : N.A Think Time : N.A Minimum Instruction Time : 0

Correct Marks : 2 Wrong Marks : 0

कार्बन उत्सर्जन के ऑफसेट का उपयोग किस लिए किया जाता है ?

- 1. कार्बन उत्सर्जन घटाने के लिए
- 2. हरित छवि प्रदान करने के लिए
- 3. कार्बन उत्सर्जन बढ़ाने के लिए
- 4. उपभोक्ता की पसंद को पूरी करने के लिए

Options :

- 21052935573. 1
- 21052935574. 2
- 21052935575. 3
- 21052935576. 4

Question Number : 145 Question Id : 2105299061 Question Type : MCQ Option Shuffling : No Is Question Mandatory : No Calculator : None Response Time : N.A Think Time : N.A Minimum Instruction Time : 0

Correct Marks : 2 Wrong Marks : 0

उपभोक्ता किसी भूरे (ब्राउन) उत्पाद से हरित उत्पाद का निर्माण किस प्रकार कर सकता है ?

- 1. एकाधिकार
- 2. रिटेल ऑफसेट
- 3. कीमत विभेद
- 4. राजकोषीय घाटा

Options :

- 21052935577. 1
- 21052935578. 2
- 21052935579. 3
- 21052935580. 4

Sub-Section Number :

3

Sub-Section Id :

210529347

Question Shuffling Allowed :

Yes

Question Id : 2105299062 Question Type : COMPREHENSION Sub Question Shuffling Allowed : Yes Group Comprehension Questions : No Question Pattern Type : NonMatrix Calculator : None Response Time : N.A Think Time : N.A Minimum Instruction Time : 0

Question Numbers : (146 to 150)

Question Label : Comprehension

Read the passage carefully and answer the questions that follows

The objectives of public finance are to ensure macroeconomic stability, achieve the desired state of distribution, provide public services to accelerate growth and development. Fiscal policy has both macro and microeconomic aspects. Further, the objectives include allocating resources for the provision of public services. The important point is that ensuring security and protection of property rights is a basic public good and this can be provided only by the government. The governments have the task of distributing incomes and alleviating poverty. After the Great Depression and influenced by Keynesian economics, public spending was assigned a central role. Thus, the role of public finance is inextricably linked to the role of the state. From merely ensuring safety, security and property rights, governments have expanded their activities to providing a variety of public services with externalities. The expansion has been a subject matter of debate. Musgrave considers that the expansion of the public sector has been a necessary and constructive development and strong public sector is needed along with the capitalist market. In contrast, Buchanan argues that dispute arises when the state expands to areas beyond the realm of boundaries of the protective state into a productive or tax-transfer state.

In India, state intervention through public finance policy has to play an important role besides ensuring the safety and security of people and their property rights. These include the need to overcome large social and physical infrastructure deficit, provide correctives to missing and imperfect markets, introduce measures to reduce acute inequalities and poverty and provide correctives to widespread information asymmetry. Interventions are needed also to provide externalities in terms of market development, irrigation, storage and price support in agriculture to deal with market imperfections and supply volatility. Similarly, generalized externalities have to be ensured for the manufacturing and service sectors through competitive levels of infrastructure. India's public finance policies have enabled the government to play a catalytic role in the development of the economy as a whole. In addition over the years, there has been a significant increase in transfers from the government such as for employment guarantee and food security, national housing scheme, Swachhh Bharat Abhiyan, Ujjawala Yojana, Pradhan Mantri Kisan Samman Nidhi, periodic loan waives, etc.

Sub questions

Question Number : 146 Question Id : 2105299063 Question Type : MCQ Option Shuffling : No Is Question Mandatory : No Calculator : None Response Time : N.A Think Time : N.A Minimum Instruction Time : 0

Correct Marks : 2 Wrong Marks : 0

Which one of the following objectives of public finance is NOT correct?

1. Ensure macroeconomic stability
2. Ensure reduction of adverse balance of payments
3. Accelerate growth and development
4. Desired state of distribution

Options :

- 21052935581. 1
- 21052935582. 2
- 21052935583. 3
- 21052935584. 4

Question Number : 147 Question Id : 2105299064 Question Type : MCQ Option Shuffling : No Is Question Mandatory : No Calculator : None Response Time : N.A Think Time : N.A Minimum Instruction Time : 0

Correct Marks : 2 Wrong Marks : 0

Which one of the following statements is correct?

- A. The expansion of the public sector has been a necessary and constructive development and a strong public sector is needed along with the capitalist market
- B. There are several reasons for the state to embrace a much larger role
- C. In India, state intervention through public finance policy has to play an important role
- D. Keynesian economics states that the state has to ensure full employment

Choose the **correct** answer from the options given below:

- 1. A and B only
- 2. A, B and C only
- 3. A and C only
- 4. A, B, C and D

Options :

- 21052935585. 1
- 21052935586. 2
- 21052935587. 3
- 21052935588. 4

Question Number : 148 Question Id : 2105299065 Question Type : MCQ Option Shuffling : No Is Question Mandatory : No Calculator : None Response Time : N.A Think Time : N.A Minimum Instruction Time : 0

Correct Marks : 2 Wrong Marks : 0

The statement, "Dispute arises when the state expands to areas beyond the realm of boundaries of the protective state into a productive or tax-transfer state", was given by

- 1. Musgrave
- 2. Keynes
- 3. Dalton
- 4. Buchanan

Options :

- 21052935589. 1
- 21052935590. 2
- 21052935591. 3
- 21052935592. 4

Question Number : 149 Question Id : 2105299066 Question Type : MCQ Option Shuffling : No Is Question Mandatory : No Calculator : None Response Time : N.A Think Time : N.A Minimum Instruction Time : 0

Correct Marks : 2 Wrong Marks : 0

The externalities of the government intervention in the economy can be found in terms of

- A. Market development
- B. Money supply
- C. Storage and price support in agriculture
- D. Irrigation

Choose the **correct** answer from the options given below:

- 1. A, C and D only
- 2. A, B and D only
- 3. A, B and C only
- 4. A and D only

Options :

- 21052935593. 1
- 21052935594. 2
- 21052935595. 3
- 21052935596. 4

Question Number : 150 Question Id : 2105299067 Question Type : MCQ Option Shuffling : No Is Question Mandatory : No Calculator : None Response Time : N.A Think Time : N.A Minimum Instruction Time : 0

Correct Marks : 2 Wrong Marks : 0

Which one of the following does NOT fall in the category of government transfers?

- 1. National Housing
- 2. Swachchh Bharat Abhiyan
- 3. Periodic loan waivers
- 4. Education

Options :

- 21052935597. 1
- 21052935598. 2
- 21052935599. 3
- 21052935600. 4

Question Id : 2105299062 Question Type : COMPREHENSION Sub Question Shuffling Allowed : Yes Group Comprehension Questions : No Question Pattern Type : NonMatrix Calculator : None Response Time : N.A Think Time : N.A Minimum Instruction Time : 0

Question Numbers : (146 to 150)

Question Label : Comprehension

दिए गए गद्यांश को ध्यानपूर्वक पढ़ें और प्रश्नों के उत्तर दें :

लोक वित्त का उद्देश्य समष्टि - अर्थव्यवस्था की स्थिरता को सुनिश्चित करना, वितरण की वांछित स्थिति को प्राप्त करना और वृद्धि तथा विकास की गति को तेज करने के लिए जन सुविधाओं का प्रावधान करना है। राजकोषीय नीति के समष्टि तथा व्यष्टि अर्थव्यवस्था नामक दो पहलू हैं। इसके अतिरिक्त, इन उद्देश्यों में जन सेवाओं के लिए प्रावधान करने हेतु संसाधनों का आबंटन शामिल है। इसका महत्वपूर्ण बिंदु है, सुरक्षा सुनिश्चित करना तथा संपत्ति के अधिकार की संरक्षा करना जो मूलभूत जनकल्याण के पहलू हैं और इसे केवल सरकार द्वारा ही प्रदान किया जा सकता है। सरकारों के पास आय का संवितरण तथा गरीबी के उन्मूलन का कार्य है। भारी अवनति के पश्चात् तथा कीनेजियन अर्थव्यवस्था से प्रभावित होकर लोक व्यय को केंद्रीय भूमिका सौंपी गई थी। इस प्रकार, लोक वित्त की भूमिका को राज्य की भूमिका के साथ अविमोचनीय रूप से सहबद्ध किया गया है। सरकारों ने मात्र सुरक्षा, संरक्षा तथा संपत्ति के अधिकारों को सुनिश्चित करके बाह्य कारकों के साथ अनेक जन-सेवाएं प्रदान करने के लिए अपनी गतिविधियों के दायरे को बढ़ाया है। इस प्रकार का विस्तार काफी चर्चा का विषय बन गया है। मसग्रेव मानते हैं कि सार्वजनिक क्षेत्र का विस्तार एक आवश्यक एवं रचनात्मक विकास का पहलू रहा है और मजबूत सार्वजनिक क्षेत्र, पूंजीवादी बाजार के साथ-साथ आवश्यक हो गया है। इसके विपरीत, बुचैनन यह दावा करते हैं कि, विवाद तब उत्पन्न होता है जब राज्य संरक्षात्मक राज्य की सीमा - क्षेत्र से आगे उत्पादक अथवा कर-अंतरण करनेवाले राज्य के रूप में अपना विस्तार करता है।

भारत में, लोक वित्तीय नीति के माध्यम से राज्य के हस्तक्षेप को लोगों की सुरक्षा और संरक्षा सुनिश्चित करने तथा उनकी संपत्ति के अधिकारों की रक्षा करने के अतिरिक्त बेहद महत्वपूर्ण भूमिका का निर्वाह करना है। इनमें बड़ी सामाजिक और भौतिक अवसंरचना हानि को दूर करने की आवश्यकता, अदृश्य और अपूर्ण बाजारों को उपचार उपलब्ध कराना, भारी असमानताओं और गरीबी को दूर करने के लिए उपाय शुरू करना तथा सूचना संबंधी असममितीय व्यवस्था के लिए उपचार का प्रावधान करना शामिल है। इसप्रकार, हस्तक्षेप की आवश्यकता कृषि क्षेत्र में बाजार विकास, सिंचाई, भंडारण तथा सहायता मूल्य जैसी बाह्य सुविधाएं प्रदान प्रदान करने में भी हैं, ताकि बाजार की कमियों और आपूर्ति संबंधी अस्थिरता से निपटा जा सके। इसी प्रकार, विनिर्माण तथा सेवा क्षेत्रों में अवसंरचना के प्रतिस्पर्धी स्तरों के माध्यम से सामान्यीकृत बाह्यताएँ सुनिश्चित की जाती हैं। भारत जैसे देश में लोक वित्त की नीतियों ने सरकार को अर्थव्यवस्था के पूर्ण विकास के क्षेत्र में उत्प्रेरक की भूमिका निभाने में सक्षम बनता है। इसके अतिरिक्त, बाद के वर्षों में, सरकार से मिलने वाली सहायता राशि में काफी वृद्धि देखी गयी है जैसे कि रोजगार गारंटी और खाद्य सुरक्षा, राष्ट्रीय आवासन योजना, स्वच्छ भारत अभियान, उज्वला योजना, प्रधानमंत्री किसान सम्मान निधि, आवधिक ऋण मोचन इत्यादि।

Sub questions

Question Number : 146 Question Id : 2105299063 Question Type : MCQ Option Shuffling : No Is Question Mandatory : No Calculator : None Response Time : N.A Think Time : N.A Minimum Instruction Time : 0

Correct Marks : 2 Wrong Marks : 0

निम्नलिखित में से लोक वित्त के उद्देश्यों में से कौन सही नहीं है :

1. समष्टि अर्थव्यवस्था में स्थायित्व सुनिश्चित करना।
2. भुगतान के विपरीत संतुलन में कमी सुनिश्चित करना।
3. वृद्धि एवं विकास की गति तेज करना।
4. संवितरण की वांछित स्थिति प्राप्त करना।

Options :

21052935581. 1

21052935582. 2

21052935583. 3

21052935584. 4

Question Number : 147 Question Id : 2105299064 Question Type : MCQ Option Shuffling : No Is Question Mandatory : No Calculator : None Response Time : N.A Think Time : N.A Minimum Instruction Time : 0

Correct Marks : 2 Wrong Marks : 0

निम्नलिखित में से कौन - सा कथन सही नहीं है -

A. सार्वजनिक क्षेत्र का विस्तार एक आवश्यक तथा रचनात्मक विकास है, और मजबूत सार्वजनिक क्षेत्र, पूंजीवादी बाजार के साथ-साथ आवश्यक है।

B. राज्य को काफी बड़ी भूमिका अपनाने के अनेक कारण हैं।

C. भारत में, लोक वित्तीय नीति के माध्यम से राज्य को हस्तक्षेप द्वारा काफी महत्वपूर्ण भूमिका निभानी है।

D. केनिजीयन अर्थव्यवस्था में उल्लेख है कि राज्य को पूर्ण नियोजन सुनिश्चित करना है।

नीचे दिए गए विकल्पों में से सही उत्तर चुनिये :

1. केवल A और B
2. केवल A, B और C
3. केवल A और C
4. A, B, C और D

Options :

21052935585. 1

21052935586. 2

21052935587. 3

21052935588. 4

Question Number : 148 Question Id : 2105299065 Question Type : MCQ Option Shuffling : No Is Question Mandatory : No Calculator : None Response Time : N.A Think Time : N.A Minimum Instruction Time : 0

Correct Marks : 2 Wrong Marks : 0

यह कथन कि " विवाद तब उत्पन्न होता है जब राज्य संरक्षात्मक राज्य की अपनी सीमा से आगे जाकर उत्पादक अथवा कर - अंतरण करने वाले राज्य के रूप में अपना विस्तार करता है। " किसका है -

1. मसग्रेव
2. केन्ज
3. डॉल्टन
4. बुचैनन

Options :

21052935589. 1

21052935590. 2

21052935591. 3

21052935592. 4

Question Number : 149 Question Id : 2105299066 Question Type : MCQ Option Shuffling : No Is Question Mandatory : No Calculator : None Response Time : N.A Think Time : N.A Minimum Instruction Time : 0

Correct Marks : 2 Wrong Marks : 0

अर्थव्यवस्था में सरकारी हस्तक्षेप के बाह्य घटकों को किन मदों के रूप में पाया जा सकता है -

- A. बाजार विकास
- B. मुद्रा आपूर्ति
- C. कृषि क्षेत्र में भंडारण एवं सहायता मूल्य
- D. सिंचाई

नीचे दिए गए विकल्पों में से सही उत्तर चुनिये :

- 1. केवल A, C और D
- 2. केवल A, B और D
- 3. केवल A, B और C
- 4. केवल A और D

Options :

- 21052935593. 1
- 21052935594. 2
- 21052935595. 3
- 21052935596. 4

Question Number : 150 Question Id : 2105299067 Question Type : MCQ Option Shuffling : No Is Question Mandatory : No Calculator : None Response Time : N.A Think Time : N.A Minimum Instruction Time : 0

Correct Marks : 2 Wrong Marks : 0

निम्नलिखित में से कौन सरकारी सहायता (राशि के) अंतरण की श्रेणी में नहीं आता है ?

- 1. राष्ट्रीय आवासन
- 2. स्वच्छ भारत अभियान
- 3. आवधिक ऋण मोचन
- 4. शिक्षा

Options :

- 21052935597. 1
- 21052935598. 2
- 21052935599. 3
- 21052935600. 4